

KENDRIYA VIDYALAYA RTC ITBP ILLUPPAIKUDI
SUMMER VACATION – HOLIDAY HOME WORK(2025-26)

CLASS – VI

ENGLISH

Students,

Summer vacation is meant to be enjoyed and with enjoyment comes little bit of work to be done by you all.

There are four skills in any language we learn:

Listening, Speaking, Reading, Writing

ACTIVITY 1 : READING SKILL

TLO: To enhance reading comprehension and vocabulary

CONTENT: Reading comprehension

King Alphanso got down from his horse. He went to help the mule-driver. Both of them pulled and pushed until they succeeded in getting the mule on the firm ground. By this time they were covered with mud. A number of people had gather around them by that time and they stood by watching. Then someone recognised the King. People began to whisper to each other that it was the King himself who had helped the mule-driver. When the mule-driver heard this, he was very frightened. He turned i to him and begged for his forgiveness. Alphanso told that he had done his duty as a man. He may be a king but as a man he should help those who are in need. The King thus put to shame all those passers-by who would not help.

Answer the following questions.

a) 1. How did King Alphanso help the mule-driver?

b) 2. Why was the mule-driver frightened? What did he ask from the King?

c) 3. What response did the King give to the people? How did he put the passers-by to shame?

d) 4. Give the meaning of the phrases: ‘on the firm ground’ and ‘put to shame’

ACTIVITY 2 : WRITING SKILL

TLO: To enable learners to write ideas coherently in a paragraph.

CONTENT: **PARAGRAPH WRITING**

a) Write a paragraph on the topic “KNOWLEDGE IS POWER”

TLO : To enable learners to write a description of a given process.

CONTENT :**Prepare a comic**

b) Read a story and prepare a comic strip on any one of the scenes from the story.

ACTIVITY 3 :GRAMMAR

TLO – To enable students to learn the use of Articles (a, an & the)

CONTENT – HOMONYMS

Which Homonym?

Choose the correct spelling to complete each sentence.



- | | |
|---|-------------------|
| 1. A _____ can breathe through its skin. | toad/towed |
| 2. Bread is made from _____. | flower/flour |
| 3. A thick _____ covered the countryside. | mist/missed |
| 4. He got on his bike and _____ away. | road/rode |
| 5. There were a lot of _____ in the waiting room. | patients/patience |
| 6. The _____ slept on a bed of leaves. | dear/deer |
| 7. They climbed _____ up the mountain. | hire/higher |
| 8. I _____ my mum coming down the stairs. | heard/herd |
| 9. She painted the room _____ yellow. | pail/pale |
| 10. This type of cat has no _____. | tale/tail |
| 11. Tom _____ the egg and spoon race. | won/one |
| 12. It's rude to _____ at people. | stair/stare |
| 13. She _____ a beautiful dress. | war/wore |
| 14. The _____ is becoming cooler. | weather/whether |
| 15. Can you untie this _____? | not/knot |

TLO : To enable learners to understand the function and usage of words (HOMONYMS)

a) CREATE YOUR WORDS FROM SCRAMBLE

Back To School Word Scramble

EPARP



KARM



XAME



SLACS



CEPILN



ATTHUG



ZQIU



AGEDR



TDRHI



EASPDS



HATREEC



SENSOL



OCHLSO



$$2+2=$$



Why don't you see giraffes in elementary school?

because they



ACTIVITY 4 :LISTEN

Listen to these talks of wonderful people every week.

<https://youtu.be/C5EG1-w7fYo> josh talk by Arunima Sinha

No one can stop you if you are determined in your life.

https://youtu.be/7fIL5s_Kq68 Dr. APJ Abdul Kalam's Life Advice Will Change Your Future (MUST WATCH) Motivational Speech

<https://youtu.be/xQjp8wPylFs> Sachin Tendulkar's farewell speech showing gratitude towards everyone who contributed in his life.

Learn and practice the habit of Gratitude. It brings magical change in life.

<https://youtu.be/w1V3gZv0ebY> speech by Gaur Gopal Das.

Avoid negativity. Stop complaining. Be happy for what you have.

ACTIVITY 5 : CREATIVE WRITING

TLOs – *To develop the creative and technical skills necessary to conceive, execute, and revise original

literary work in a student's chosen genre.

* To demonstrate sensitivity to language and style both.

CONTENT – Creative Writing

TASK: Prepare **ANY TWO** from the following list for CLASS MAGAZINE:

POEM / ARTICLE / TRAVELOGUE/ STORY/ COMIC STRIP / MEMES/GRAPHICS
(ENSURE IT IS ORIGINAL, WRITE IT IN 1 SIDE OF A4 SHEET & PASTE IT ON A
¼th piece of CHART)

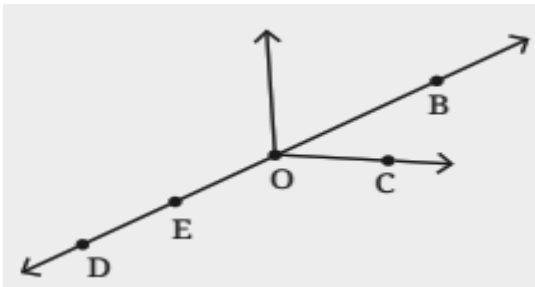
Note:

- 1.Complete your Holiday Homework (Activity 1 – 3) in the English Subject Enrichment ACTIVITY notebook.
- 2.Each Activity should be started in a new page of your notebook.
3. Activity: 5 to be done in A4 Sheet



MATHS

1. What is a pattern? Explain with an example.
2. Find the next three terms in the sequence: 2, 7, 12, 17, __, __, __.
3. Find the missing number in the pattern: 8, 16, __, 64, 128.
4. Why are 1, 3, 6, 10, 15, ... called triangular numbers?
5. What do you call this sequence of numbers 1, 6, 12, 18, 24?
6. Identify the rule in the pattern: 1, 8, 27, 64, __, __.
7. Why are 1, 4, 9, 16, 25, ... called square numbers or squares?
8. Why are 1, 8, 27, 64, 125, ... called cubes?
9. What is the formula for the pattern of this sequence?
7, 14, 21, 28, 35, 42, 49
10. Predict the next number in the following sequence.
3, 5, 10, 18, 31, ?
11. What is the name of an angle that measures exactly 90° ?
12. Identify the type of angle if it measures between 90° and 180° .
13. How many degrees are there in a complete rotation around a point?
- 14.



- a) Five points (b) A line (c) Four rays (d) Five line segments

15. Look at the following figure and name all the rays originating from:



- (i) the point A.
 - (ii) the point B.
 - (iii) the point C.
 - (iv) the point F.
16. Draw rough diagrams of two angles such that they have
- (a) One point in common.
 - (b) Two points in common.
 - (c) Three points in common
 - (d) Four points in Common
 - (e) One ray on Common

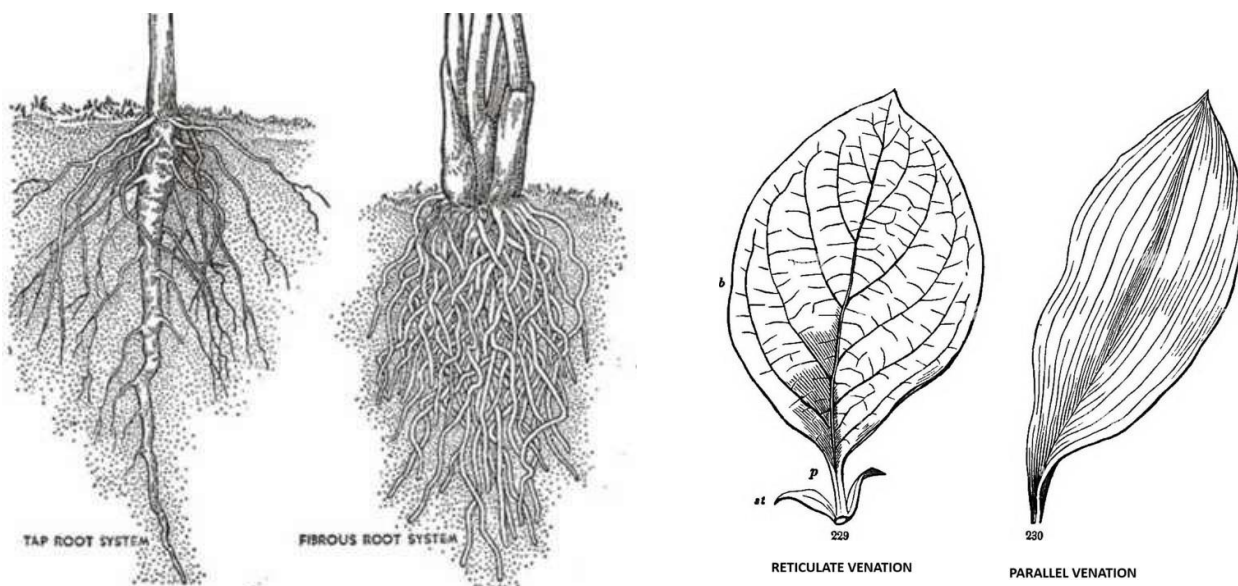
SCIENCE

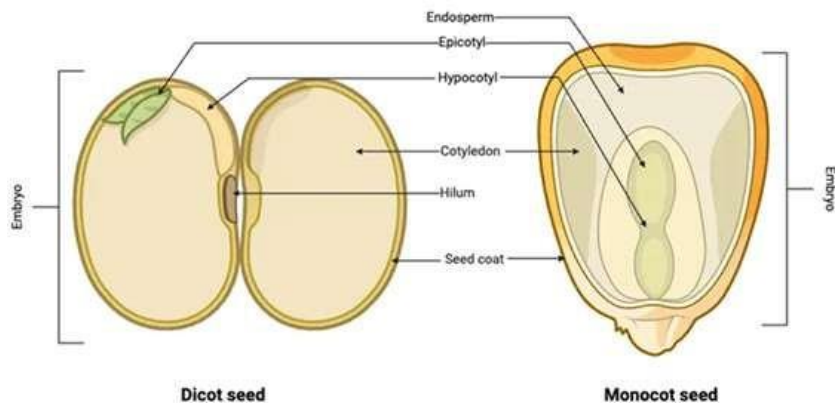
Collect leaves (fallen leaves) from at least 30 varieties of plants and create a scrapbook of your own. Write the other characteristics that you notice in the plant and tabulate them as follows:

1	Local name of the Plant	
2	Stem(hard/soft/green/woody)	
3	Leaves(shape/arrangement)	
4	Venation of leaf(reticulate/parallel)	
5	Flower(present/absent)	
6	Type of root(taproot/fibrousroot)	
7	Type of seeds(cotyledons)	
8	Other characteristics observed(ifany)	

Characteristic features of a plant that are always aligned:

1. If a plant is having leaves with **parallel venation**, then its root type will be **fibrous root** and the seeds it produces will be always **monocotyledonous seeds**.
2. If a plant is having leaves with **reticulate venation**, then its root type will be **tap root** and the seeds it produces will be always **dicotyledonous seeds**.
3. Use your textbook for reference (taproot/fibrous root, parallel/ reticulate venation, monocot/ dicot seed)





Each pageshouldlooklikethis



Good space to write
about plant sample.



1	Local name of the Plant	
2	Stem (hard/soft/green/woody)	
3	Leaves (shape/ arrangement)	
4	Venation of leaf (reticulate/parallel)	
5	Flower (present/absent)	
6	Type of root (tap root/ fibrous root)	
7	Type of seeds (cotyledons)	
8	Other characteristics observed (if any)	

SST

LOCATING PLACES ON THE EARTH

Multiple choice Question-

1. Name one of the following parallels of latitudes as Tropic of Cancer.
(A) $66^{\circ} 30' \text{ N}$ (B) $23^{\circ} 30' \text{ S}$ (C) $23^{\circ} 30' \text{ N}$ (D) 90° .
2. Map showing distribution of rivers?
(A) Physical map (B) Political map (C) Thematic map (D) Colourful map.
3. What is the 0° latitude line called?
(A) Equator (B) Prime Meridian (C) Tropic of Cancer (D) Arctic Circle.
4. What is the purpose of longitudes?
(A) To measure distance (B) To locate places
(C) To determine time (D) To identify continents.
5. What is the value of the prime meridian?
(A) $23^{\circ} 30' \text{ S}$ (B) $23^{\circ} 30' \text{ N}$ (C) 0° (D) 90°

Fill in the blanks-

6. International Date Line passes through the _____ Ocean.
7. The Earth takes _____ days to complete one rotation.
8. The Earth's orbit is _____ shaped.
9. The _____ is an imaginary line that runs through Greenwich, England.
10. Latitudes are also known as _____.

True or False-

11. The Earth is round in shape. (True/False)
12. The prime meridian passes through the North Pole. (True/False)
13. Latitude and longitude together are the two coordinates of a place. (True/False)

Short Answer Type Question-

14. Make any two differences between IST and GMT?
15. What do you understand about the International Date Line?
16. Why do maps use specific symbols?

Long Answer Type Question-

17. Define term- map. Describe different types of maps.
18. Describe the differences between the equator and the prime meridian.

19. Map work

Label and locate all the countries on an outline map(6) of each continent (Asia, Europe, North America, South America, Africa and Australia) and make a list of them.

20. Write about them-

- (i) Geologists
- (ii) Palaeontologists
- (iii) Anthropologists
- (iv) Archaeologists



HINDI

केन्द्रीय विद्यालय आरटीसी आईटीबीपी इल्लुपैकुडी कक्षा -

6

गृहकाय

अपठित गद्यांश-1

भाग-1

राजके पास फकटी नाम की एक पालतू बल्ली है। वह सफेद और भूरे रंग की है। राज को अपने घर के पछवाड़े में फकटी के साथ खेलना पसंद है। वे दोनों साथ में ततलियों का पीछा करते हैं और घास में लौटते हैं। जब राज उसे पकड़ता है तो फकटी उसे घूरने लगती है। राज अपनी बल्ली से बहुत प्यार करता है।

प्रश्न:

प्रश्न-१. राज की पालतू बल्ली का नाम क्या है? प्रश्न-

२. फकटी कस रंग की है?

प्रश्न-३. राज और फकटी कहाँ खेलते हैं?

प्रश्न-४. जब राज उसे पकड़ता है तो फकटी क्या करती है?

(2) एक बंदर जंगल में खेल रहा था। वह एक पेड़ से दूसरे पेड़ पर कूद रहा था। दूसरे पेड़ पर पहुँचते ही उसने वहाँ बहुत सारे फल देखे। उसने एक बड़े से अमरूद को छोड़कर एक छोटे से बेर को पकड़ा। वह खुशी से नाच रहा था।

प्रश्न-१. बंदर कहाँ खेल रहा था? प्रश्न-

२. बंदर कहाँ कूद रहा था? प्रश्न-

३. बंदर ने क्या देखा?

प्रश्न-४. बंदर ने कौन सा फल पकड़ा?

प्रश्न-५. बंदर खुशी से क्या करने लगा?

प्र. 1 निम्नलिखित रक्तस्थान की पूर्त के फल एउ चत भाव वाचक संज्ञा शब्द चुनिए-

भाग-2

राजके पास फकटी नाम की एक पालतू बल्ली है। वह सफेद और

1. प्रिया की बहुत अच्छी है।

(क) मुस्काना

(ख) मुस्करापाना

(ग) मुस्कराहट

2. मोहन को आगई।

(क)हँसना

(ख)हँसने

(ग)हँसी

3.रामकोलगरहीथी।

(क)भूखा

(ख)मुख

(ग)भूख

4.सैफनकसेलड़ेऔरजीतगए।

amy (क)

वीर

(ख)वीरो

(ग)वीरता

5.अंधेरा होनेपर सीता को लगरहाथा।

(क)डरपोक

(ख)डरा

(ग)डर

6.मोहन

मेंबहुतरोताथा।

(क) बच्चा

(ख) बचपन

(ग)बचपना

7.इसकपड़ेकीअधकहै।

(क) चौड़ा

(ख)चौड़ाई

(ग)चौड़ाइ

8.

आजकल खाने-पीने की चीजों में अधिक होरही है।

(क) फलाना

(ख) मीलावट

(ग) फलवाट

9. दादी को अब आगया है।

(क) बूढ़ा

(ख) बुढ़ापा

(ग) बूटी

10. राम ने अपने माता-पिता की बहुत की।

(क) सैवा

(ख) सेवा

(ग) सेवक

भाग-3

राज के पास एक टूटी नाम की एक पालतू बिल्ली है। वह सफेद और प्रश्न

1. हमालय किसे चूमता है?

(a) आकाश

(b) धरती

(c) सागर

(d) पवत

उत्तर

प्रश्न 2. कौन सी नदियाँ हमालय से निकलती हैं?

(a) सरस्वती

(b) गंगा

(c) यमुना

(d) उपरोक्त सभी

उत्तर

प्रश्न 3. कविता में कि स की छटाहन राली है?

(a) सूरज की

- (b) चाँदकी
- (c) फहमालयकी
- (d) नफदयोंकी

उत्तर

प्रश्न 4. फकसनेवंशीपुनीतगीतासुनाई?

- (a) रघुपफत
- (b) श्रीकृष्ण
- (c) गौतमबुद्ध
- (d) सीता

उत्तर

प्रश्न 5. कोयलकहाँपुकारतीहै?

- (a) अमराइयोंमें
- (b) पवतोंमें
- (c) नफदयोंमें
- (d) जंगलोंमें

भाग-4

राजकेपासफकट्टीनामकीएकपालतूफबल्लीहै। वहसफेदऔर
रक्तस्थानभरें(Fill in the Blanks)

1. फहमालय _____ कोचूमताहै।
2. गंगा, यमुनाऔर _____ नफदयोंफहमालयसेफनकलतीहैं।
3. झरने _____ मेंझरतेहैं।
4. कोयल _____ मेंपुकारतीहै।
5. श्रीकृष्ण ने _____ गीतासुनाई।

नम्रफलफखत वाक्यों में रेखांकित संज्ञा शब्दों की संज्ञा फलफखए। क) बुढ़ापे
में इन्सान फबल्कुल बच्चा बन जाता है।

ख) फप्रयंकगाँधीऔरराहुलगौंधीबहन-भाईहैं। ग)

फखड़की के शी"टूटे हैं।

घ) सैफनकलड़रहेहैं।

ङ) फहमालयपवतोंकाराजाहै। च)

आकाशमेंपक्षीउड़रहेहैं।

छ) एवरेस्ट की चढ़ाई बहुत कठिन है। ज)

हाथी मस्त चाल चलता है।

झ) आज मैं बहुत खुश हूँ।

ज) बच्चे बचपन में बहुत चंचल होते हैं।

ट) कक्ष में बच्चे बैठे हैं।

भाग-5

राज के पास फट्टी नाम की एक पालतू बिल्ली है। वह सफेद और मेरी समझ से

(क) नीचे दए गए प्रश्नों का सटीक उत्तर कौन-सा है? उसके सामने तारा (★) बनाइए-

प्रश्न 1.

‘दोस्त, खेल में इतना गुस्सा अच्छा नहीं। मैंने तो अपना बदला ले ही लिया है। अगर तुम मुझे हॉकी नहीं मारते तो शायद मैं तुम्हें दो ही गोल से हराता।’ मेजर ध्यानचंद की इस बात से उनके बारे में क्या पता चलता है?

- वे अत्यंत क्रोधी थे।
- वे अच्छे ढंग से बदला लेते थे।
- उन्हें हॉकी से मारने पर वे अधिक गोल करते थे।
- वे जानते थे कि खेल को सही भावना से खेलना चाहिए।

प्रश्न 2.

लोगों ने मेजर ध्यानचंद को ‘हॉकी का जादूगर’ कहना क्यों शुरू कर दिया?

- उनके हॉकी खेलने के विशेष कौशल के कारण
- उनकी हॉकी स्टेक की अनोखी विशेषताओं के कारण
- हॉकी के फलान उनके विशेष लगाव के कारण
- उनकी खेल भावना के कारण

(ख) अब अपने मित्रों के साथ चर्चा कीजिए कि आपने ये उत्तर ही क्यों चुने? उत्तर:
विद्यार्थी के स्वयं करने के फलान।

मिलकर करें मिलान

शब्द

अथवा संदर्भ

1. लांस नायक
2. बल्लन ओलंपिक
3. पंजाब रेजिमेंट।
4. सैंपस एंड माइनस टीम प्रशस्त-योगिता,

5. सूबेदार
6. छावनी

1. स्वतंत्रता से पहले सूबेदार भारतीय सैन्य अधिकारियों का दूसरा सबसे बड़ा पद था।
2. भारतीय सेना का एक पद (रैंक) है।
3. सैनिकों के रहने का क्षेत्र।
4. वर्ष 1936 में जमनी के बल्लन शहर में आयोजित ओलंपिक खेल जिसमें 49 देशों ने भाग लिया था।
5. स्वतंत्रता से पहले अंग्रेजों की भारतीय सेना का एक दल।
6. अंग्रेजों के समय का एक हॉकी दल पहली बंदूक विजयिता लिखे एवं याद करे।



केन्द्रीयविद्यालय आरटीसी आईटीवीपी इल्लुप्पैकुडी

VACATION'S HOME WORK (ग्रीष्मावकाशगृहकार्यम्)

सत्यमेव जयते
केन्द्रीय शिक्षण बोर्ड

विषय-संस्कृत

कक्षा- VI

1. पठ्यातुकेरूपलिखिये औरयादकीजिये (लट्, लृट् लकार में)

2. शब्दरूप लिखो और कण्ठस्थीकरण करो-राम, लता, फल

3. वर्णविच्छेद करो (यथा= रामः= र् +आ +म् +अः)

चपकः

, कपोतः, विद्यालयः, सिंहः, कृषकः, खनित्रम्, श्रमिका, भित्तिकम्, स्थानकम्,

पोषकाणि, वातायनम्, क्रीडनकम्, एकस्मिन्, प्रसून, अस्माकम्, सिञ्चति, सिंहाः, गृहम्

, विद्यालयः, कृषकः, दीपकः।

4. संस्कृतछात्र-प्रतिज्ञालिखो औरयादकरो।

5. 1 से 20 तक संस्कृत संख्या लिखो और याद करो।

6. "विद्या के महत्व" पर पांच श्लोक संकलित करके लिखेंगे।

7. <https://youtu.be/DnLr-MDCM8o?si=5ArxZWzuHs8-kCwH>

दिए गए लिंक में देश भक्ति गीत को सुनकर याद करे।

परियोजना कार्य- (MDP WORK)

1. पांचफलों, पांचपशुओं, औरपांचरंगोंकेनामचित्रसहितचार्टपरलिखिए

Instructions:

i) All questions are compulsory.

ii) Answers should be written in the HW Sanskrit Note Book.

iii) Neat works are always appreciated.

*****All the Best*****

DIGITAL LITERACY

I. Fill in the blanks by choosing the correct answers.

Scans

Brain

Mistake

Keyboard

Monitor

Pointing

Printer

Speaker

Computer

1. A is an electronic device.
2. A computer never makes any .
3. Looks like a television screen.
4. CPU is known as the of computer.
5. Looks like a typewriter.
6. Mouse is a device.
7. Helps us to take work on the paper.
8. Scanner the documents and work
into the computer.
9. is used to listen to sound.

✓ the correct box

Item	Hardware	Software
Monitor		
Windows Operating System		
Keyboard		
Microsoft Word		
Mouse		
Printer		
Mavis Beacon Typing Tutor		
CPU or Tower		
Speakers		
Internet Explorer		
Solitaire		