

केन्द्रीय विद्यालय संगठन, बेंगलुरु संभाग
KENDRIYA VIDYALAYA SANGATHAN, BENGALURU REGION

प्रथम प्री बोर्ड परीक्षा-2024-25
First Pre-Board Examination -2024-25

CLASS: XII
SUBJECT: GEOGRAPHY (029)

Max. Marks: 70
TIME: 3 HOURS

INSTRUCTIONS:


1. This question paper contains 30 questions. All questions are compulsory.
2. This question paper is divided into five sections. Sections-A, B, C, D and E.
3. Section A - Question number 1 to 17 are Multiple Choice type questions carrying 1 mark each.
4. Section B- Question number 18 and 19 are Source based questions carrying 3 marks each. 5. Section C- Question number 20 to 23 are Short Answer type questions carrying 3 marks each. Answer to these questions shall be written in 80 to 100 words.
6. Section D- Question number 24 to 28 are Long Answer type questions carrying 5 marks each. Answer to these questions shall be written in 120 to 150 words.
7. Section E- Question number 29 and 30 are Map based questions.

सामान्यनिर्देश:

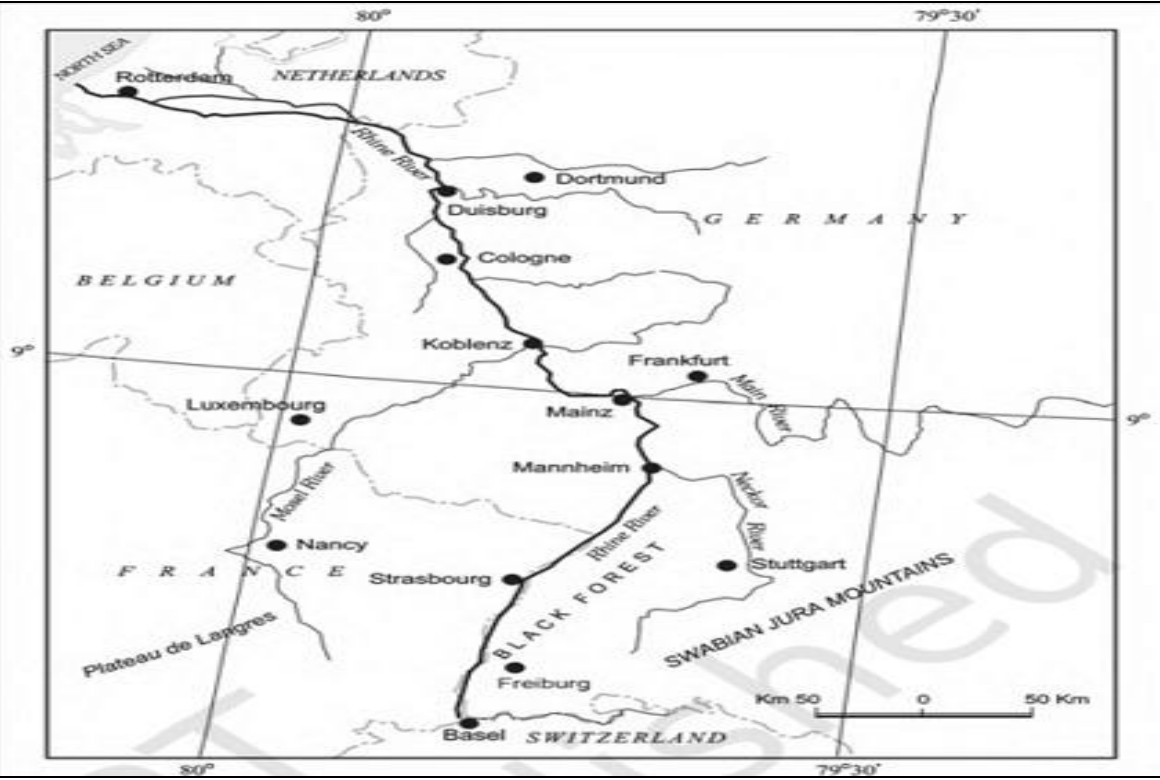
निम्नलिखित निर्देशों को ध्यानपूर्वक पढ़ें और उनका पालन करें:

- (i) इस प्रश्न पत्र में 30 प्रश्न हैं। सभी प्रश्न अनिवार्य हैं।
- (ii) प्रश्न पत्र पांच खंडों ए, बी, सी, डी और ई में विभाजित है।
- (iii) खंड ए प्रश्न संख्या। 1 से 17 तक बहुविकल्पीय प्रकार के प्रश्न हैं। प्रत्येक प्रश्न 1 अंक का है।
- (iv) खंड बी प्रश्न संख्या। 18 और 19 स्रोत-आधारित प्रश्न हैं। प्रत्येक प्रश्न 3 अंक का है।
- (v) अनुभाग सी प्रश्न संख्या। 20 से 23 लघु उत्तरीय प्रश्न हैं। प्रत्येक प्रश्न 3 अंक का है। इन प्रश्नों का उत्तर 80 से 100 शब्दों में लिखना होगा।
- (vi) खंड डी प्रश्न संख्या। 24 से 28 तक दीर्घ उत्तरीय प्रश्न हैं। प्रत्येक प्रश्न 5 अंक का है। इन प्रश्नों का उत्तर 120 से 150 शब्दों में लिखना होगा।
- (vii) खंड ई प्रश्न संख्या। 29 और 30 मानचित्र-आधारित प्रश्न हैं। प्रत्येक प्रश्न 5 अंक का है।

SECTION A (Multiple Choice Type Questions 17 X 1=17)		
Q.NO	QUESTIONS	MARKS
Q1.	<p>जिन क्षेत्रों के किसान केवल सब्जियों में ही माहिर होते हैं, वहां की खेती जानी जाती है</p> <p>(a) फैक्ट्री फार्मिंग (b) डेयरी फार्मिंग</p> <p>(c) ट्रक खेती (d) अंगूर की खेती</p> <p>The regions where farmers specialize in vegetables only, the farming is known</p> <p>(a) Factory farming (b) Dairy Farming</p> <p>(c) Truck farming (d) Viticulture</p>	1

<p>Q2.</p>	<p>निम्नलिखित कथनों पर विचार करें और सही उत्तर चुनें</p> <ol style="list-style-type: none"> 1. सामूहिक खेती या कोलखोज़ का मॉडल तत्कालीन सोवियत संघ में पेश किया गया था 2. कृषि के पिछले तरीकों की अक्षमता में सुधार करना और आत्मनिर्भरता के लिए कृषि उत्पादन को बढ़ावा देना। <p>विकल्प</p> <ol style="list-style-type: none"> a) केवल 1 सही है। b) केवल 2 सही है c) दोनों कथन गलत हैं d) दोनों कथन सही हैं और कथन 2 कथन 1 की सही व्याख्या करता है <p>Consider the following statements and choose the correct answer</p> <ol style="list-style-type: none"> 1. Collective farming or the model of Kolkhoz was introduced in erstwhile Soviet Union 2. To improve upon the inefficiency of the previous methods of agriculture and to boost agricultural production for self-sufficiency. <p>Options</p> <ol style="list-style-type: none"> a) Only 1 is correct. b) Only 2 is correct c) Both the statements are incorrect d) Both statements are correct and statement 2 correctly explains the statement 	<p>1</p>
<p>Q3.</p>	<p>निम्नलिखित में से कौन सा उद्योगों के वर्गीकरण का मानदंड नहीं है?</p> <ol style="list-style-type: none"> a) इनपुट b) आउटपुट c) मूल d) आकार <p>Which of the following is not the criteria for classification of Industries?</p> <ol style="list-style-type: none"> a) Input b) Output c) Basic d) Size 	<p>1</p>
<p>Q4.</p>	 <p>उद्योग के प्रकार को पहचानें</p> <ol style="list-style-type: none"> a) रसायन आधारित b) वन आधारित c) कृषि आधारित d) खनिज आधारित 	<p>1</p>

	<p>IV. भूतापीय ऊर्जा मौजूद है क्योंकि पृथ्वी बढ़ती गहराई के साथ उत्तरोत्तर गर्म होती जाती है।</p> <p>Given below are the steps to generate geothermal energy. Arrange the following in correct sequence:</p> <p>i. It is so hot that when it rises to the earth's surface, it turns into steam.</p> <p>ii. Groundwater in such areas (where the geothermal gradient is high) absorbs heat from the rocks and becomes hot.</p> <p>iii. Steam is used to drive turbines and generate electricity.</p> <p>iv. Geothermal energy exists because the earth grows progressively hotter with increasing depth.</p> <p>a) (iv) - (ii) - (i) - (iii)</p> <p>b) (ii) - (i) - (iv) - (iii)</p> <p>c) (i) - (iv) - (iii) - (ii)</p> <p>d) (iii) - (ii) - (iv) - (i)</p>	
Q13.	<p>ओरिएंट एक्सप्रेस किस के बीच चलती है।</p> <p>a. एडमॉन्टन और एंकोरेज</p> <p>b. चांगडू और ल्हासा</p> <p>c. पेरिस से इस्तांबुल तक</p> <p>d. न्यूयॉर्क से सैन फ्रांसिस्को</p> <p>The Orient Express runs between</p> <p>a. Edmonton and Anchorage</p> <p>b. Chengdu and Lhasa</p> <p>c. Paris to Istanbul</p> <p>d. New York to San Francisco</p>	1
Q14.	<p>उत्तर-पूर्व सीमांत रेलवे के मुख्यालय का नाम क्या है?</p> <p>a) न्यू जलपाईगुडी</p> <p>b) मालीगांव</p> <p>c) लुमडिंग</p> <p>d) सिलचर</p> <p>What is the name of the headquarter of North-east frontier railway?</p> <p>a) New Jalpaiguri</p> <p>b) Maligaon</p> <p>c) Lumding</p> <p>d) Silchar</p>	1
	<p>Read the following diagram and answer question no 15 to 17</p>	



<p>Q15.</p>	<p>उपरोक्त मानचित्र में दिखाई गई विशेषता को पहचानें?</p> <p>a. पनामा नहर b. स्वेज नहर</p> <p>c. राइन जलमार्ग d. वोल्गा जलमार्ग</p> <p>Identify the feature shown in the above map?</p> <p>a. Panama Canal b. Suez Canal</p> <p>c. Rhine Waterway d. Volga waterway</p>	<p>1</p>
<p>Q16.</p>	<p>इस विशेषता की उत्पत्ति का बिंदु क्या है?</p> <p>a. रॉटरडैम b. बासेल</p> <p>c. नीदरलैंड d. जर्मनी</p> <p>What is the point of origin of this feature?</p> <p>a. Rotterdam b. Basel</p> <p>c. Netherlands d. Germany</p>	<p>1</p>
<p>Q17.</p>	<p>यह नौगम्य अंतर्देशीय जलमार्ग... से जुड़ता है।</p> <p>a. लाल सागर b. काला सागर</p> <p>c. उत्तरी सागर d. बाल्टिक सागर</p> <p>This navigable inland waterway gets connected to....</p> <p>a. Red Sea b. Black Sea</p> <p>c. North Sea d. Baltic sea</p>	<p>1</p>
<p>SECTION B (Source Based Questions 2 X 3=6)</p>		
<p>Q18.</p>	<p>नीचे दिए गए पैराग्राफ को पढ़ें और उसके बाद आने वाले प्रश्नों के उत्तर दें:</p> <p>मानव भूगोल में कल्याण या मानवतावादी विचारधारा मुख्य रूप से लोगों के सामाजिक कल्याण के विभिन्न पहलुओं से संबंधित थी। इनमें आवास, स्वास्थ्य और शिक्षा जैसे पहलू</p>	<p>(1+1+1=3)</p>

शामिल थे। भूगोलवेत्ताओं ने पहले ही स्नातकोत्तर पाठ्यक्रम में सामाजिक कल्याण के भूगोल के रूप में एक पेपर पेश किया है। कट्टरपंथी विचारधारा ने गरीबी, अभाव और सामाजिक असमानता के मूल कारण को समझाने के लिए मार्क्सवादी सिद्धांत का इस्तेमाल किया। समसामयिक सामाजिक समस्याएँ पूँजीवाद के विकास से संबंधित थीं। व्यवहारवादी विचारधारा ने जीवित अनुभव और जातीयता, नस्ल और धर्म आदि के आधार पर सामाजिक श्रेणियों द्वारा स्थान की धारणा पर बहुत जोर दिया।

I. कट्टरपंथी विचारधारा ने _____ पर जोर नहीं दिया।

- a) गरीबी b). अभाव
c). आवास d). सामाजिक असमानता

II. किस विचारधारा ने सजीव अनुभवों पर जोर दिया? a) कट्टरपंथी b). व्यवहार

- c). कल्याण d). इनमे से कोई भी नहीं

III. वे पहलू जो लोगों के सामाजिक कल्याण में शामिल नहीं हैं _____

- a) आवास b). स्वास्थ्य
c) शिक्षा d). गरीबी

Read the paragraph given below and answer the questions that follow:

Welfare or humanistic school of thought in human geography was mainly concerned with the different aspects of social well-being of the people. These included aspects such as housing, health and education. Geographers have already introduced a paper as 'Geography of Social well-being in the Post Graduate curriculum'. Radical school of thought employed Marxian theory to explain the basic cause of poverty, deprivation and social inequality. Contemporary social problems were related to the development of capitalism. Behavioural school of thought laid great emphasis on lived experience and also on the perception of space by social categories based on ethnicity, race and religion, etc.

I. Radical school of thought did not laid emphasis on _____.

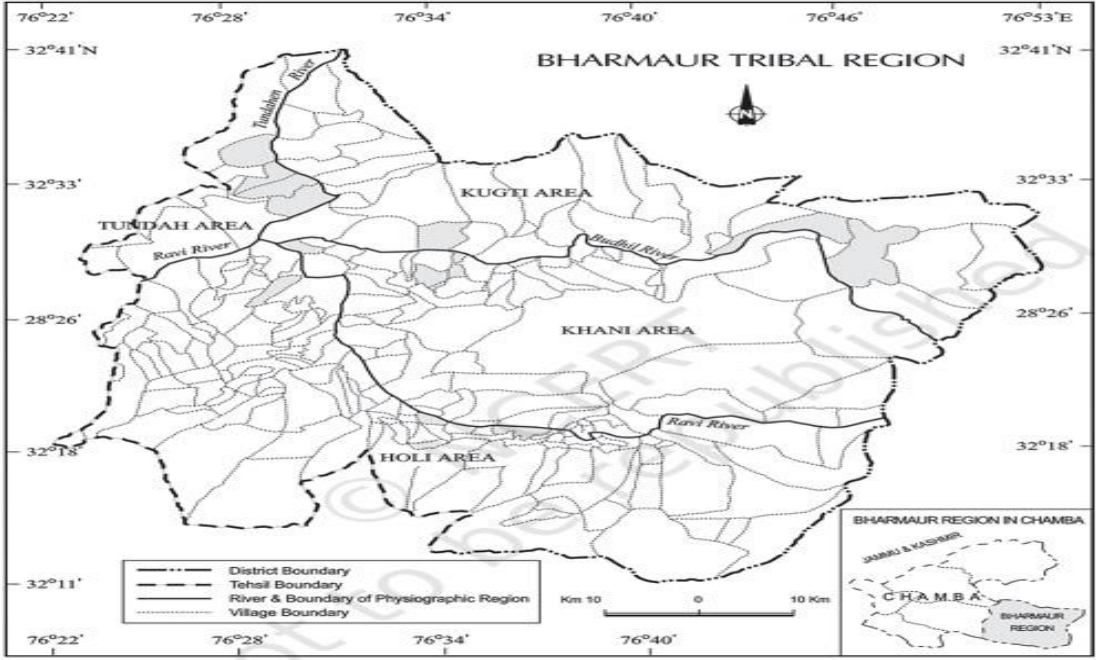
- a. Poverty
b. Deprivation
c. Housing
d. Social inequality

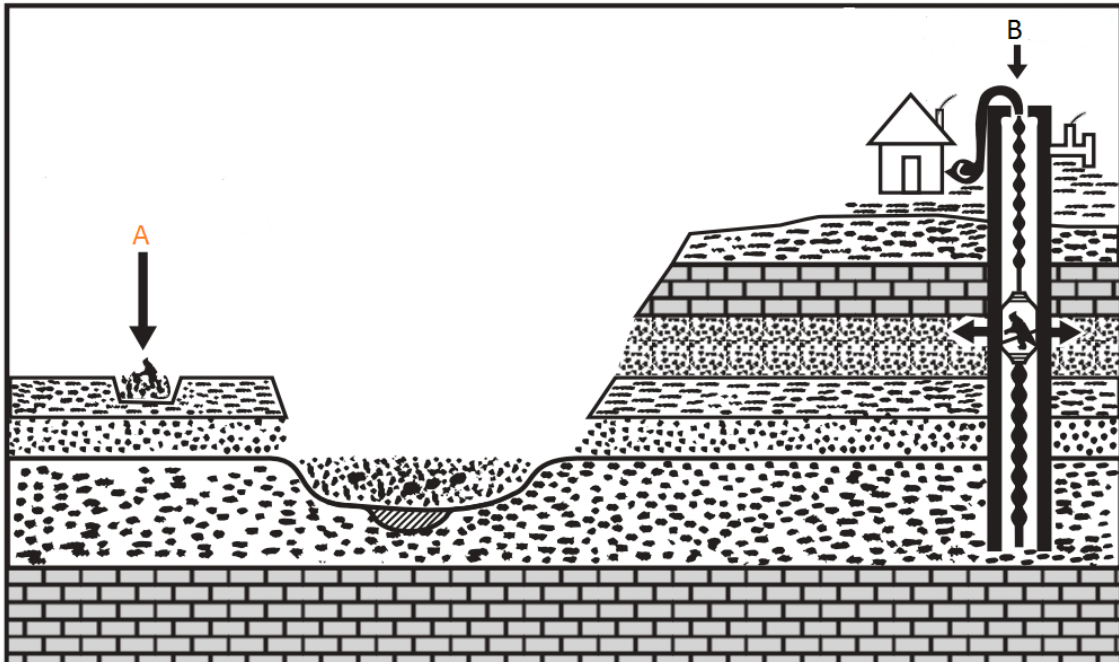
II. Which school of thought laid emphasis on lived experiences?

- a. Radical
b. Behavioural
c. Welfare
d. None of the above

III. The aspects which are not included in social well being of people _____

- a. Housing b. Health
c. Education d. Poverty

<p>Q19.</p>	<p>नीचे दिए गए चित्र को पढ़ें और उसके बाद आने वाले प्रश्नों के उत्तर दें: Read the diagram given below and answer the questions that follow:</p>  <p>19.1 - उपरोक्त मानचित्र में दिखाए गए क्षेत्र और भारत के उस राज्य की पहचान करें जिसमें यह स्थित है।</p> <p>19.2 इस क्षेत्र के उपविभागों के नाम बताइये।</p> <p>19.3 इस क्षेत्र से होकर बहने वाली नदी और उसकी सहायक नदियों का उल्लेख करें।</p> <p>19.1 - Identify the region shown in the above map and the state of India in Which it lies.</p> <p>19.2 Name the sub-divisions of this region.</p> <p>19.3 Mention the river and its tributeries which flow through this region.</p>	<p>(1+1+1=3)</p>
<p>SECTION C (Short Answer Type Questions – write your answer within 30 words 3 X 3=9)</p>		
<p>Q20.</p>	<p>विश्व में प्रवासन को प्रभावित करने वाले कारकों के दो समूह कौन से हैं? उपयुक्त उदाहरणों के साथ कारकों के दोनों सेटों की व्याख्या करें।</p> <p style="text-align: center;">या</p> <p style="text-align: center;">“मोटे तौर पर दुनिया की 90% आबादी इसके लगभग 10% भूमि क्षेत्र में रहती है” दुनिया में जनसंख्या वितरण के पैटर्न के संदर्भ में कथन की जांच करें।</p> <p>Which are the two sets of factors that influence migration in the world? Explain both the set of factors with suitable examples.</p> <p style="text-align: center;">OR</p> <p>‘ Broadly 90% of the world population lives in about 10% of its land area ‘Examine the statement in context of pattern of population distribution in the world</p>	<p>3</p>
<p>Q21.</p>	<p>Study the given picture carefully and answer the questions that follow.</p>	<p>1+1+1=3</p>



I. अयस्क की उत्पत्ति और प्रकृति के आधार पर खनन के प्रकारों का नाम बताइए।

II. खनन में किस प्रकार की दुर्घटनाएँ हो सकती हैं?

III. 'ए' और 'बी' के रूप में दिखाई गई विशेषताओं को पहचानें।

I. Name the types of mining based on the mode of occurrence and the nature of the ore.

II. What type of accidents can occur in mining?

III. Identify the features shown as 'A' and 'B'.

Q22. विभिन्न प्रकार की मानव बस्तियों के लिए कौन से कारक उत्तरदायी हैं?

What factors are responsible for different types of human settlements?

3

Q23. "अगर हम शहरी कचरे को एक संसाधन के रूप में मानते हैं और इसका उचित उपयोग करते हैं तो यह भारत में लोगों के लिए अत्यधिक मूल्यवान होगा।" कथन का समर्थन करें।
"If we treat the urban waste as a resource and utilize it properly it will be highly valuable to people in India." Support the statement.

3

SECTION D

(Long Answer Type Questions – write your answer within 150 words 5 X 5=25)

Q24. यूएनडीपी क्या है? मानव विकास सूचकांक के आधार पर देशों का वर्गीकरण कैसे किया जाता है?

What is UNDP? How are countries classified on the basis of human development index?

5

Q25. जनसंख्या वृद्धि को परिभाषित करें। भारत की जनसंख्या वृद्धि के चार विशिष्ट चरणों की व्याख्या करें।

या

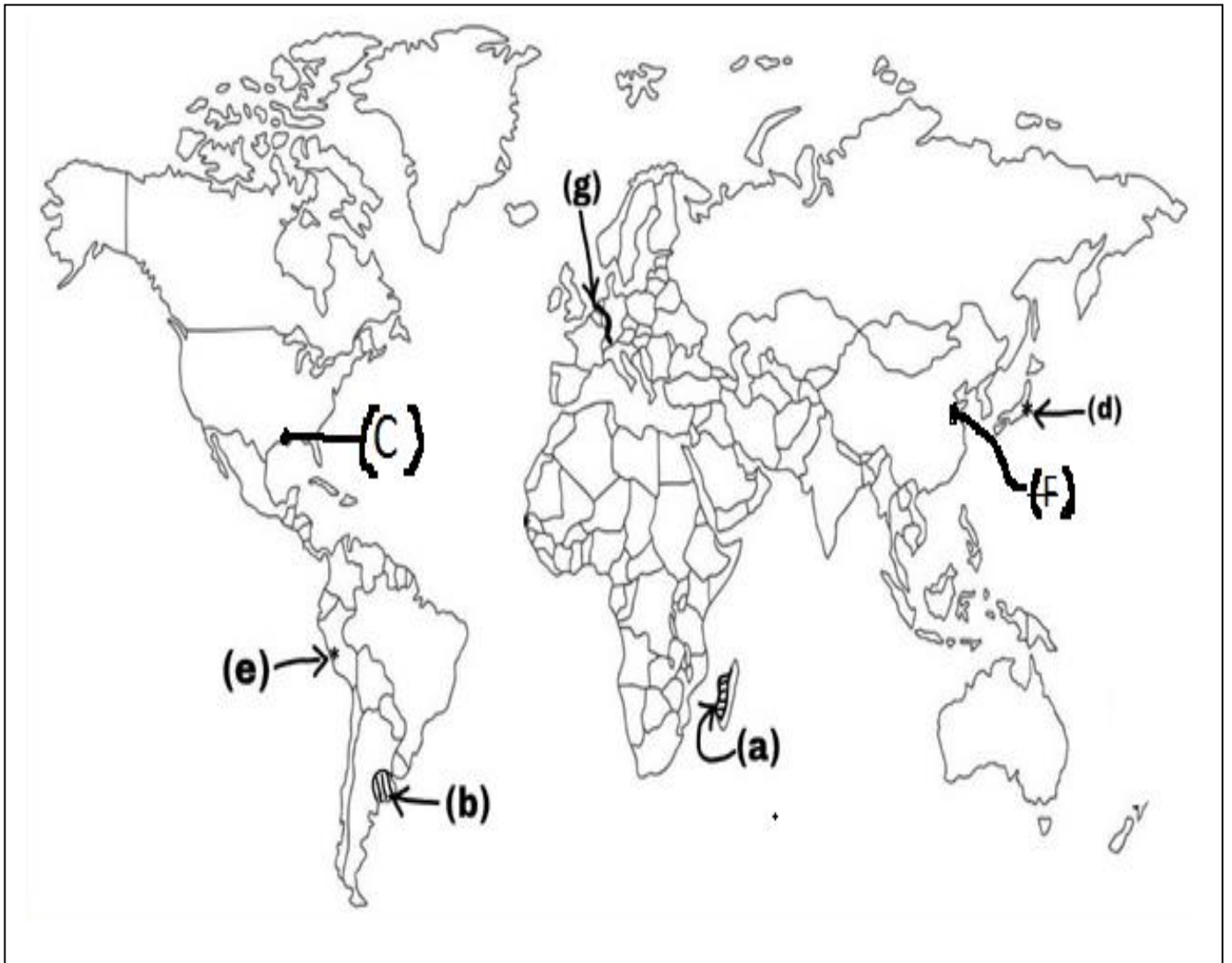
व्यावसायिक संरचना क्या है? भारत के कुछ राज्यों में कार्य भागीदारी की दर दूसरों की तुलना में अधिक क्यों है? व्याख्या करें।

5

	<p>Define Population Growth. Explain Four distinct phases of India's population growth.</p> <p style="text-align: center;">OR</p> <p>What is composition of working population in India? Why do some states of India have higher rates of work participation than others? Explain.</p>	
Q26.	<p>व्यापार के लिए बंदरगाह किस प्रकार सहायक हैं? स्थान के आधार पर बंदरगाहों का वर्गीकरण दीजिए।</p> <p style="text-align: center;">या</p> <p>अंतर्राष्ट्रीय व्यापार के कोई पाँच आधार बताइये।</p> <p>How are ports helpful for trade? Give a classification of ports on the basis of their location.</p> <p style="text-align: center;">OR</p> <p>Explain ANY FIVE basis of international trade.</p>	2+3=5
Q27.	<p>कम उत्पादकता और भूमि सुधारों की कमी भारतीय कृषि की दोहरी समस्याएँ हैं।' उपरोक्त कथन के प्रकाश में, भारतीय कृषि की समस्याओं की व्याख्या करें।</p> <p style="text-align: center;">या</p> <p>स्वतंत्रता के बाद भारत में कृषि की स्थिति में सुधार के लिए भारत सरकार द्वारा अपनाई गई रणनीतियों पर चर्चा करें।</p> <p>'Low Productivity and Lack of land reforms are the twin problems of Indian agriculture.' In the light of above statement, explain the problems of Indian Agriculture.</p> <p style="text-align: center;">OR</p> <p>Discuss the strategies followed by the Indian government to improve the condition of agriculture in post independence India.</p>	5
Q28.	<p>'समुद्री बंदरगाहों को अंतर्राष्ट्रीय व्यापार का प्रवेश द्वार कहा जाता है।' उपयुक्त तर्कों और उदाहरणों के साथ कथन की जाँच करें।</p> <p style="text-align: center;">या</p> <p>भारत के अंतर्राष्ट्रीय व्यापार के बदलते पैटर्न का परीक्षण करें।</p> <p>'Sea Ports are called as the gateways of international trade.' Examine the statement with suitable arguments and examples.</p> <p style="text-align: center;">OR</p> <p>Examine the changing patterns of India's international trade.</p>	5
	<p>Section-E (Map pointing questions)</p>	

<p>Q29.</p>	<p>विश्व के दिए गए मानचित्र पर निम्नलिखित स्थानों (कोई पांच) को पहचानें:</p> <ol style="list-style-type: none"> खानाबदोश पशुपालन वाले क्षेत्र का नाम बताएं। व्यापक व्यावसायिक अनाज खेती वाले क्षेत्र का नाम बताइए प्रमुख समुद्री बंदरगाह का नाम बताएं प्रमुख समुद्री बंदरगाह का नाम बताएं महत्वपूर्ण हवाई अड्डे का नाम बताएं महत्वपूर्ण हवाई अड्डे का नाम बताएं महत्वपूर्ण नदी जलमार्ग का नाम बताइये <p>Identify the following places (ANY FIVE) on the given map of the world:</p> <ol style="list-style-type: none"> - Name the area with Nomadic Herding. - Name the area with extensive commercial grain farming - Name the major sea port - Name the major sea port - Name the important airport - Name the important airport - Name the important river waterway 	<p>5</p>
<p>Q30.</p>	<p>भारत के दिए गए मानचित्र पर निम्नलिखित बिंदुओं (कोई पांच) का पता लगाएं और उन्हें लेबल करें:</p> <ol style="list-style-type: none"> जनगणना 2011 के अनुसार न्यूनतम जनसंख्या घनत्व वाला राज्य। खेतड़ी तांबे की खदानें। पश्चिमी तटीय क्षेत्र में स्थित एक लौह अयस्क निर्यातक बंदरगाह। भारत में कॉफी की खेती का क्षेत्र। एक बॉक्साइट खदान ओडिशा में स्थित है कांडला बंदरगाह अमृतसर अंतर्राष्ट्रीय हवाई अड्डा <p>Locate and label the following points (ANY FIVE) on the given map of India:</p> <ol style="list-style-type: none"> State with lowest population density as per census 2011. Khetri Copper mines. One iron ore exporting port located in western coastal area. Coffee cultivation area in India. One Bauxite mine located in Odisha Kandla Port Amritsar international airport 	<p>5</p>

Map for Q.No. 29:



Map for Q.No. 30:

