

केन्द्रीय विद्यालय संगठन, बेंगलुरु क्षेत्र  
KENDRIYA VIDYALAYA SANGATHAN, BENGALURU REGION  
प्रथम प्री-बोर्ड परीक्षा -2024-2025  
FIRST PRE-BOARD EXAMINATION 2024-2025

Class – XII  
Subject: Economics

Maximum marks: 80  
Time: 3 Hrs

सामान्य निर्देश:


1. इस प्रश्न पत्र में दो खंड हैं: खंड अ - समष्टि अर्थशास्त्र - खंड ब - भारतीय आर्थिक विकास
2. इस प्रश्न पत्र में 1 अंक के 20 बहुविकल्पीय प्रकार के प्रश्न हैं।
3. इस प्रश्न में 3 अंकों के 4 लघु उत्तरीय प्रश्न हैं, जिनका उत्तर 60 से 80 शब्दों में देना है।
4. इस प्रश्न में 80 से 100 शब्दों में 4 अंकों के 6 लघु उत्तरीय प्रकार के प्रश्न हैं, जिनका उत्तर देना है।
5. इस पेपर में 6 अंकों के 4 दीर्घ उत्तरीय प्रश्न प्रकार के प्रश्न हैं, जिनका उत्तर 100 से 150 शब्दों में देना है।

GENERAL INSTRUCTIONS:

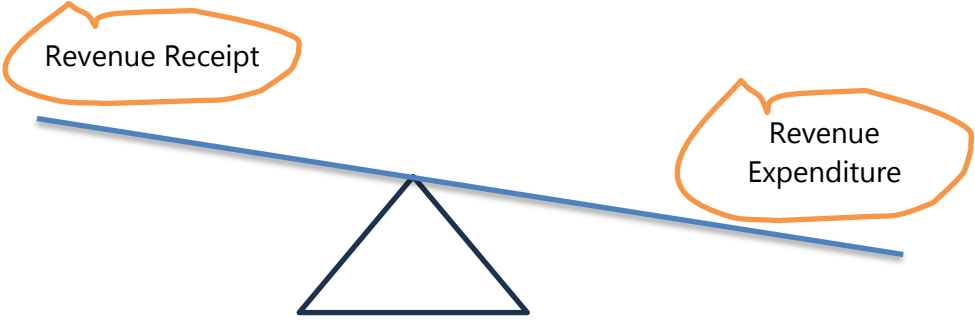
1. This question paper contains two sections: Section A – Macro Economics & Section B – Indian Economic Development
2. This paper contains 20 Multiple Choice Questions of 1 mark each.
3. This paper contains 4 Short Answer I Questions of 3 marks each to be answered in 60 to 80 words.
4. This paper contains 6 Short Answer II Questions of 4 marks each to be answered in 80 to 100 words.
5. This paper contains 4 Long Answer Questions of 6 marks each to be answered in 100 to 150 words.

भाग अ-समष्टि अर्थशास्त्र / SECTION- A Macro Economics

1	<div style="display: flex; justify-content: space-around; align-items: center;"><div style="border: 1px solid black; border-radius: 15px; padding: 10px; text-align: center;">घरेलू स्तर पर आवासीय निर्माण पर निवेश</div><div style="font-size: 2em;">+</div><div style="border: 1px solid black; border-radius: 15px; padding: 10px; text-align: center;">व्यापार निश्चित निवेश</div><div style="font-size: 2em;">+</div><div style="border: 1px solid black; border-radius: 15px; padding: 10px; text-align: center;">सरकारी निवेश</div><div style="font-size: 2em;">=</div><div style="border: 1px solid black; border-radius: 15px; padding: 10px; text-align: center;">-----</div></div>	1
<p>उपरोक्त चार्ट के आधार पर निम्नलिखित प्रश्नों के उत्तर दीजिए - सही विकल्प चुनिए:</p> <ol style="list-style-type: none"><li>a) सकल घरेलू पूंजी निर्माण</li><li>b) सकल घरेलू स्थिर पूंजी निर्माण</li><li>c) परियोजना का अंतिम उपभोग व्यय</li><li>d) सरकार का अंतिम पूंजीगत व्यय.</li></ol>		

	<div style="text-align: center;">  <p>Investment on residential construction by households + Business Fixed Investment + Government Investment = [ ]</p> </div> <p>On the basis of the above chart answer the following -Choose the correct alternative:</p> <p>a) Gross Domestic Capital formation  b) Gross Domestic Fixed Capital formation  c) Private Final Consumption Expenditure  d) Government final capital expenditure.</p>	
2	<p>निम्नलिखित कथनों को ध्यानपूर्वक पढ़ें और नीचे दिए गए सही विकल्प का चयन करें:</p> <p>कथन 1: वास्तविक स्टॉक में वांछित और अवांछित दोनों स्टॉक शामिल हैं  कथन 2: AS=AD होने पर केवल अवांछित इन्वेंट्री स्टॉक शून्य होता है।</p> <p>विकल्प:</p> <p>a) कथन 1 सत्य है और कथन 2 गलत है  b) कथन 1 गलत है और कथन 2 सत्य है  c) कथन 1 और 2 दोनों सत्य हैं  d) कथन 1 और 2 दोनों गलत हैं</p>	1
	<p>Read the following statements carefully and choose the correct alternative given below:</p> <p><b>Statement 1:</b> Actual stocks include both desired as well as undesired stock</p> <p><b>Statement 2:</b> Only undesired inventory stocks are zero when AS=AD.</p> <p><b>Alternatives:</b></p> <p>a) Statement 1 is true and statement 2 is false.  b) Statement 2 is true and statement 1 is false.  c) Both the statements are true  d) Both the statements are false</p>	
3	<p>यदि आय में वृद्धि उपभोग में वृद्धि के बराबर है, तो बचत की सीमांत प्रवृत्ति (एमपीएस) का मूल्य ज्ञात कीजिए।</p> <p>a) एकता के बराबर    b) एक से बड़ा    c) एक से कम    d) शून्य के बराबर</p>	1
	<p>If the increase in income is equal to increase in consumption, identify the value of marginal propensity to save (MPS).</p> <p>a) Equal to unity    b) Greater than one    c) Less than one    d) Equal to zero</p>	
4	<p>निम्नलिखित कथनों, अभिकथन (A) और कारण (R) को पढ़िए।</p> <p>अभिकथन (A): बचत फलन का ढलान हमेशा धनात्मक होता है  कारण (R): जब आय शून्य होती है तो उपभोग धनात्मक होता है, उसी सीमा तक बचत</p>	1

	<p>ऋणात्मक होती है। नीचे दिए गए सही विकल्पों में से एक चुनें।</p> <p>a) अभिकथन (A) और कारण (R) दोनों सत्य हैं और कारण (R) अभिकथन (A) का सही स्पष्टीकरण है।</p> <p>b) अभिकथन (A) और कारण (R) दोनों सत्य हैं, तथा कारण (R) अभिकथन (A) का सही स्पष्टीकरण नहीं है।</p> <p>c) अभिकथन (A) सत्य है, परन्तु कारण (R) असत्य है।</p> <p>d) अभिकथन (A) गलत है लेकिन कारण (R) सत्य है।</p>	
	<p>Read the following statements, Assertion (A) and Reason (R) and choose one of the correct alternatives given below.</p> <p><b>Assertion (A):</b> Slope of saving function is always positive.</p> <p><b>Reason (R):</b> Saving is negative to the extent consumption is positive when income is zero.</p> <p><b>Alternatives:</b></p> <p>a) Both Assertion (A) and Reason (R) are true and Reason (R) is the correct explanation of Assertion (A).</p> <p>b) Both Assertion (A) and Reason (R) are true, and Reason (R) is not the correct explanation of Assertion (A).</p> <p>c) Assertion (A) is true, but Reason (R) is false.</p> <p>d) Assertion (A) is false but Reason (R) is true.</p>	
5	<p>यदि किसी देश की सरकार मुद्रास्फीति के अंतर की स्थिति को कम करने की कोशिश कर रही है, तो निम्नलिखित को सही अनुक्रमिक क्रम में व्यवस्थित करें</p> <p>i) प्रयोज्य आय में कमी</p> <p>ii) करों में वृद्धि</p> <p>iii) कुल मांग में कमी</p> <p>विकल्प:</p> <p>a) i , ii, iii      b) iii, ii, i      c) ii, iii, i      d) ii , i , iii</p>	1
	<p>Arrange the following in the correct sequential order, if the government of a nation. trying to curtail the situation of inflationary gap</p> <p>i) Decrease in disposable income</p> <p>ii) Increase in taxes</p> <p>iii) Decrease in Aggregate Demand</p> <p><b>Alternatives:</b></p> <p>a) i, ii, iii      b) iii, ii, i      c) ii , iii, i      d) ii , i , iii</p>	

6	 <p>उपरोक्त चित्र के आधार पर स्थिति की पहचान करें:</p> <p>a) राजकोषीय घाटा    b) राजस्व घाटा    c) प्राथमिक घाटा    d) घाटे का बजट</p> <p>On the basis of the above image, identify the situation:</p> <p>a) Fiscal Deficit    b) Revenue Deficit    c) Primary Deficit    d) Deficit Budget</p>	1
7	<p>सब्सिडी निम्नलिखित का उदाहरण है:</p> <p>a) राजस्व व्यय    b) पूंजीगत व्यय    c) योजना व्यय    d) गैर-योजना व्यय</p>	1
	<p>Subsidies are an example of:</p> <p>a) Revenue Expenditure    b) Capital expenditure    c) Plan expenditure    d) non-plan expenditure</p>	
8	<p>निम्नलिखित कथनों को ध्यानपूर्वक पढ़ें और नीचे दिए गए सही विकल्प का चयन करें:</p> <p>कथन 1: हमारा बजट एक वित्तीय विवरण है जो एक वित्तीय वर्ष के दौरान सरकार की वास्तविक प्राप्तियां और व्यय दर्शाता है।</p> <p>कथन 2: सरकार के बजट के दो मुख्य घटक हैं: राजस्व बजट और पूंजीगत बजट</p> <p>विकल्प:</p> <p>a) कथन 1 सत्य है और कथन 2 गलत है    b) कथन 1 गलत है और कथन 2 सत्य है</p> <p>c) कथन 1 और 2 दोनों सत्य हैं    d) कथन 1 और 2 दोनों गलत हैं</p>	1
	<p>Read the following statements carefully and choose the correct alternative given below:</p> <p><b>Statement 1:</b> Government budget is as financial statement showing actual receipts and expenditure of the government. during a fiscal year.</p> <p><b>Statement 2:</b> Two main components of government budget are: Revenue Budget and Capital Budget</p> <p><b>Alternatives:</b></p> <p>a) Statement 1 is true and statement 2 is false.</p> <p>b) Statement 2 is true and statement 1 is false.</p> <p>c) Both the statements are true</p> <p>d) Both the statements are false</p>	

9	विदेशी मुद्रा की आपूर्ति और विनिमय दर के बीच संबंध _____ है (रिक्त स्थान भरने के लिए सही विकल्प चुनें) a) व्युत्क्रम      b) प्रत्यक्ष      c) एक से एक      d) कोई संबंध नहीं	1
	The relationship between supply for foreign exchange and exchange rate is _____ (Choose the correct option to fill up the blank) a) Inverse      b) Direct      c) One to one      d) No relationship	
10	भारत में स्थित एक कंपनी को विदेश में स्थित एक कंपनी से ऋण प्राप्त होता है। इस लेन-देन को भारत के भुगतान संतुलन खाते में कैसे दर्ज किया जाता है? a) चालू खाते का क्रेडिट पक्ष      b) चालू खाते का डेबिट पक्ष c) पूंजी खाते का क्रेडिट पक्ष      d) पूंजी खाते का डेबिट पक्ष	1
	A company located in India receives a loan from a company abroad. How is this transaction recorded in India's Balance of payments account? a) Credit side current account      b) Debit side of current account c) Credit side of Capital account      d) Debit side of capital account	
11	निम्नलिखित सरकारी प्राप्तियों को राजस्व और पूंजीगत प्राप्तियों में वर्गीकृत करें। अपने उत्तर के लिए कारण बताएँ- a) सार्वजनिक क्षेत्र के उपक्रमों का लाभ। b) सार्वजनिक क्षेत्र के उपक्रमों के शेयरों की बिक्री से प्राप्तियां।	3
	Categorize the following government receipts into revenue and capital receipts. Give reasons for your answer- a) Profits of Public Sector Undertakings. b) Receipts from sale of shares of Public Sector Undertakings.	
12	उदाहरणों का उपयोग करते हुए, विभिन्न प्रकार के बाह्य प्रभावों को संक्षेप में समझाइए। अथवा उत्पाद विधि द्वारा राष्ट्रीय आय का अनुमान लगाते समय ध्यान में रखी जाने वाली किन्हीं दो सावधानियों को बताइए और चर्चा कीजिए ।	3
	Using examples, briefly explain the various types of externalities. <b>OR</b> State and discuss any two precautions to be considered while estimating national income by product method.	
13	एक अर्थव्यवस्था का बचत फलन $S = -200 + 0.25Y$ है, जब आय ₹ 2000 के बराबर होती है तो अर्थव्यवस्था संतुलन में होती है, गणना कीजिए।	4

	<p>(i) आय के संतुलन स्तर पर निवेश व्यय।  (ii) स्वायत्त उपभोग।  (iii) निवेश गुणक।</p> <p style="text-align: center;">अथवा</p> <p>यदि किसी अर्थव्यवस्था में: प्रारंभिक निवेश में परिवर्तन (<math>\Delta I</math>) = ₹ 1,200 करोड़। सीमांत बचत प्रवृत्ति (MPS) = 0.2। का मान ज्ञात करें:</p> <p>(a) निवेश गुणक (K).  (b) अंतिम आय में परिवर्तन (<math>\Delta Y</math>)</p>	
	<p>The Saving function of a economy is <math>S = -200 + 0.25Y</math>, The economy is in equilibrium when income is equal to ₹ 2000, Calculate.</p> <p>(i) Investment expenditure at equilibrium level of income.  (ii) Autonomous consumption.  (iii) Investment multiplier.</p> <p style="text-align: center;"><b>OR</b></p> <p>If in an economy: Change in initial investment (<math>\Delta I</math>) = ₹ 1,200 crore. Marginal propensity to save (MPS) = 0.2. Find the values of:</p> <p>(a) Investment multiplier (K).  (b) Change in final income (<math>\Delta Y</math>)</p>	
14	<p>नीचे दिए गए समाचार शीर्षक को पढ़ें और नीचे दिए गए प्रश्न का उत्तर दें:</p> <p>"भारत के रक्षा मंत्री राजनाथ सिंह ने 7 दिसंबर, 2022 को कहा कि प्रधानमंत्री गति शक्ति मास्टर प्लान पूर्वोत्तर क्षेत्र में बुनियादी ढांचा सुविधाओं के विकास में एक बल गुणक के रूप में कार्य करेगा।"</p> <p>स्रोत: <a href="http://economictimes.com">economictimes.com</a>, <a href="http://indiatimes.com">indiatimes.com</a></p> <p>a) निवेश गुणक से तात्पर्य उस संख्या से है जिससे _____ में वृद्धि निवेश में वृद्धि से अधिक होती है।  b) संख्यात्मक उदाहरण की सहायता से गुणक की कार्यप्रणाली समझाइए।</p>	4
	<p><b>Read the news headline given below and answer the question that follows:</b></p> <p>"India's Defence Minister Rajnath Singh on 7th December, 2022 said that the Pradhan Mantri Gati Shakti Master Plan would act as a force multiplier in developing infrastructural facilities in the northeast region."</p> <p><b>Source: <a href="http://economictimes.com">economictimes.com</a>, <a href="http://indiatimes.com">indiatimes.com</a></b></p> <p>a) Investment multiplier refers to the number of times by which the increase in _____ exceeds the increase in investment.  b) Explain the working of multiplier with the help of a numerical example.</p>	

15	<p>भारतीय रुपया अब तक के सबसे निचले स्तर पर पहुंच गया और बुधवार को अमेरिकी राष्ट्रपति चुनाव के शुरुआती नतीजों ने अमेरिकी डॉलर में तेजी ला दी, जिससे केंद्रीय बैंक को हस्तक्षेप करना पड़ा। रुपया मंगलवार के बंद भाव से करीब 0.1% नीचे गिरकर 84.195 पर आ गया। (6 नवंबर, रॉयटर्स)</p> <p>a) घरेलू मुद्रा के संदर्भ में, दी गई रिपोर्ट के आधार पर स्थिति की पहचान करें</p> <p>b) निर्यात पर इसके संभावित प्रभाव की व्याख्या करें।</p>	4
	<p>The Indian rupee weakened to an all-time low on Wednesday as early results of the US Presidential election spurred a rally in the US Dollar, prompting the Central bank to intervene. The rupee fell to 84.195 against the dollar, down about 0.1% from its Tuesday close. (Nov. 6, Reuters.com)</p> <p>a) In context of domestic. currency, identify the situation on the basis of given report</p> <p>b) Explain its likely impact on exports.</p>	
16	<p>निम्नलिखित अंशों को ध्यानपूर्वक पढ़ें और निम्नलिखित प्रश्नों के उत्तर दें:</p> <p>अनुसूचित वाणिज्यिक बैंकों के नकदी भंडार पर आरबीआई द्वारा जारी दैनिक आंकड़ों से पता चला है कि 19 मई, 2023 को समाप्त पखवाड़े से लेकर 19 अप्रैल, 2024 को समाप्त पखवाड़े तक, बैंकों द्वारा रखी गई औसत पाक्षिक नकदी आवश्यकता से कम होने के 15 उदाहरण थे। मई 2021 तक के आंकड़ों से पता चलता है कि कमी के लगभग 30 और मामले सामने आए हैं। कमी की मात्रा 19 मई, 2023 को समाप्त पखवाड़े में ₹44 करोड़ से लेकर 11 अगस्त, 2023 को समाप्त पखवाड़े में ₹6,820 करोड़ जैसी बड़ी रकम तक थी।</p> <p>भारतीय रिज़र्व बैंक अधिनियम, 1934 की धारा 42 (1) के अनुसार, RBI अनुसूचित वाणिज्यिक बैंकों के लिए CRR निर्धारित करता है। वर्तमान में, CRR शुद्ध मांग और समय देयताओं का 4.50% है, जो जमा के लिए एक प्रॉक्सी है। इसका मतलब है कि बैंकों को विवेकपूर्ण उपाय के रूप में RBI के पास उस हिस्से को अलग रखना चाहिए। CRR का उपयोग केंद्रीय बैंक द्वारा मौद्रिक नीति को प्रभावित करने के लिए भी किया जा सकता है, क्योंकि आरक्षित आवश्यकता में परिवर्तन का बैंकिंग प्रणाली की तरलता पर प्रभाव पड़ता है।</p> <p>सीआरआर और वैधानिक तरलता अनुपात पर आरबीआई के मास्टर निर्देश, जिसे हाल ही में सितंबर 2023 में अद्यतन किया गया था, में कहा गया है, "प्रत्येक अनुसूचित बैंक भारत में रिज़र्व बैंक के पास एक औसत दैनिक शेष बनाए रखेगा, जिसकी राशि दूसरे पूर्ववर्ती पखवाड़े के अंतिम शुक्रवार को भारत में बैंक के कुल एनडीटीएल (शुद्ध मांग और समय देयताओं) के 4.50% से कम नहीं होगी।"</p> <p>(स्रोत: <a href="http://economictimes.com">economictimes.com</a>: 29 अप्रैल 2024)</p> <p>a) नकद आरक्षित अनुपात से आप क्या समझते हैं?</p>	6

	<p>b) केंद्रीय बैंक मुद्रास्फीति के समय में मुद्रा आपूर्ति को नियंत्रित करने के लिए मौद्रिक उपकरण के रूप में सीआरआर का उपयोग कैसे करता है?</p>																			
<p>16</p>	<p>Read the following news excerpt carefully and answer the following questions:</p> <p>Daily data released by the RBI on scheduled commercial banks' cash reserves showed that from the fortnight ended May 19, 2023, to the fortnight ended April 19, 2024, there were 15 instances of the average fortnightly cash maintained by banks falling short of the requirement.</p> <p>Data going back to May 2021 showed around 30 more instances of a shortfall. The quantum of shortfall ranged from ₹44 crore in the fortnight ended May 19, 2023, to larger sums such as ₹6,820 crore in the fortnight ended August 11, 2023.</p> <p>According to Section 42 (1) of the Reserve Bank of India Act, 1934, the RBI prescribes the CRR for scheduled commercial banks. Currently, the CRR is at 4.50% of net demand and time liabilities, which is a proxy for deposits. This means that banks must set aside that portion with the RBI as a prudential measure. The CRR can also be used to influence monetary policy by the central bank, as changes in the reserve requirement have an impact on banking system liquidity.</p> <p>"Every scheduled bank shall maintain in India with the Reserve Bank, an average daily balance, the amount of which shall not be less than 4.50% of the bank's total NDTL (net demand and time liabilities) in India as on the last Friday of the second preceding fortnight," said the RBI's Master Direction on CRR and Statutory Liquidity Ratio, which was most recently updated in September 2023.</p> <p>(Source: <a href="https://economictimes.com">economictimes.com</a>: 29 April 2024)</p> <p>a) What do you understand by Cash Reserve Ratio? b) How does Central bank use CRR as a monetary tool to control money supply during times of inflation.</p>																			
<p>17</p>	<p>A) निवेश और पूंजी के बीच, कौन स्टॉक और प्रवाह चर है? उदाहरण सहित समझाइए। B) निम्नलिखित आँकड़ों से बाजार मूल्य पर सकल मूल्य वर्धन ( GVAMP ) की गणना करें:</p> <table border="1" data-bbox="197 1460 1477 1989"> <thead> <tr> <th></th> <th>सामान</th> <th>₹ लाख में</th> </tr> </thead> <tbody> <tr> <td>(i)</td> <td>मूल्यह्रास</td> <td>20</td> </tr> <tr> <td>(ii)</td> <td>घरेलू बिक्री</td> <td>200</td> </tr> <tr> <td>(iii)</td> <td>स्टॉक में बदलाव</td> <td>(-) 10</td> </tr> <tr> <td>(iv)</td> <td>निर्यात</td> <td>10</td> </tr> <tr> <td>(v)</td> <td>एकल उपयोग उत्पादक सामान</td> <td>120</td> </tr> </tbody> </table>		सामान	₹ लाख में	(i)	मूल्यह्रास	20	(ii)	घरेलू बिक्री	200	(iii)	स्टॉक में बदलाव	(-) 10	(iv)	निर्यात	10	(v)	एकल उपयोग उत्पादक सामान	120	<p>6</p>
	सामान	₹ लाख में																		
(i)	मूल्यह्रास	20																		
(ii)	घरेलू बिक्री	200																		
(iii)	स्टॉक में बदलाव	(-) 10																		
(iv)	निर्यात	10																		
(v)	एकल उपयोग उत्पादक सामान	120																		




	(vi) शुद्ध अप्रत्यक्ष कर	20																						
<p style="text-align: center;">अथवा</p> <p>a) पूंजीगत वस्तुओं और उपभोक्ता वस्तुओं के बीच अंतर बताइए।</p> <p>b) यदि वास्तविक जीडीपी ₹ 260 है और नाममात्र जीडीपी ₹ 312 है। मूल्य सूचकांक की गणना करें (आधार = 100)</p>																								
<p>a) Investment and Capital, which of these is stock and flow variable ? Explain with an example.</p> <p>b) Calculate the gross value added at market price (GVA<sub>MP</sub>) from the following data:</p> <table border="1" data-bbox="199 667 1476 1064"> <thead> <tr> <th></th> <th>Items</th> <th>₹ in lakhs</th> </tr> </thead> <tbody> <tr> <td>(i)</td> <td>Depreciation</td> <td>20</td> </tr> <tr> <td>(ii)</td> <td>Domestic sales</td> <td>200</td> </tr> <tr> <td>(iii)</td> <td>Change in stock</td> <td>(-) 10</td> </tr> <tr> <td>(iv)</td> <td>Exports</td> <td>10</td> </tr> <tr> <td>(v)</td> <td>Single use producer goods</td> <td>120</td> </tr> <tr> <td>(vi)</td> <td>Net indirect taxes</td> <td>20</td> </tr> </tbody> </table> <p style="text-align: center;"><b>OR</b></p> <p>a) Differentiate between capital goods and consumer goods.</p> <p>b) If real GDP is ₹ 260 and nominal GDP is ₹ 312. Calculate price index (base = 100)</p>					Items	₹ in lakhs	(i)	Depreciation	20	(ii)	Domestic sales	200	(iii)	Change in stock	(-) 10	(iv)	Exports	10	(v)	Single use producer goods	120	(vi)	Net indirect taxes	20
	Items	₹ in lakhs																						
(i)	Depreciation	20																						
(ii)	Domestic sales	200																						
(iii)	Change in stock	(-) 10																						
(iv)	Exports	10																						
(v)	Single use producer goods	120																						
(vi)	Net indirect taxes	20																						
<b>भाग ब - भारतीय आर्थिक विकास / Section -B Indian Economic Development</b>																								
18	<p>औपनिवेशिक काल के दौरान भारत की जनसांख्यिकीय स्थिति के बारे में गलत कथन की पहचान करें।</p> <p>a) शिशु मृत्यु दर बहुत अधिक थी।</p> <p>b) 1921 के बाद भारत जनसांख्यिकीय संक्रमण के दूसरे चरण में प्रवेश कर गया।</p> <p>c) जीवन प्रत्याशा बहुत अधिक थी।</p> <p>d) महिला साक्षरता दर सिर्फ 7% थी।</p>		1																					
<p>Identify the incorrect statement about the demographic condition of India during the Colonial period.</p> <p>a) Infant mortality rate was very high</p> <p>b) After 1921, India entered the second stage of demographic transition.</p> <p>c) Life expectancy was too high.</p> <p>d) Female literacy rate was just 7%</p>																								

19	<p>_____ कृषि उपज का वह हिस्सा है जो किसानों द्वारा अपनी स्वयं की उपभोग आवश्यकताओं को पूरा करने के बाद बाजार में बेचा जाता है:</p> <p>a) व्यापार अधिशेष      b) विपणन योग्य अधिशेष      c) उत्पादक अधिशेष d) उपभोक्ता अधिशेष</p>	1
	<p>_____ is the portion of agricultural produce which is sold in the market by the farmers, after meeting their self- consumption requirements:</p> <p>a) Trade surplus      b) Marketable surplus      c) Producer surplus      d) Consumer surplus</p>	
20	<p>निम्नलिखित कथनों को ध्यानपूर्वक पढ़ें और नीचे दिए गए सही विकल्प का चयन करें:</p> <p>कथन 1: 1991 के आर्थिक सुधारों ने सभी क्षेत्रों के लिए एक साथ विकास का मार्ग प्रशस्त किया।</p> <p>कथन 2: 1991 के आर्थिक सुधारों ने कृषि क्षेत्र में तीव्र विकास दर सुनिश्चित की।</p> <p>विकल्प:</p> <p>a) कथन 1 सत्य है और कथन 2 गलत है b) कथन 1 गलत है और कथन 2 सत्य है c) कथन 1 और 2 दोनों सत्य हैं d) कथन 1 और 2 दोनों गलत हैं</p>	1
	<p>Read the following statements carefully and choose the correct alternative given below:</p> <p><b>Statement 1:</b> Economic reforms of 1991 created a growth path for all sectors simultaneously.</p> <p><b>Statement 2:</b> Economic reforms of 1991 ensured accelerated growth rate in agriculture sector.</p> <p><b>Alternatives:</b></p> <p>a) Statement 1 is true and statement 2 is false. b) Statement 2 is true and statement 1 is false. c) Both the statements are true d) Both the statements are false</p>	
21	<p>_____ मानव को एक साध्य प्राप्ति के साधन के रूप में मानती है।</p> <p>a) भौतिक पूंजी      b) वित्तीय पूंजी      c) मानव पूंजी      d) स्थायी पूंजी</p>	1
	<p>_____ treats human beings as a means to an end.</p> <p>a) Physical Capital      b) Financial Capital      c) Human Capital      d) Fixed Capital</p>	
22	<p>निम्नलिखित कथनों को ध्यानपूर्वक पढ़ें और नीचे दिए गए सही विकल्प का चयन करें:</p> <p>कथन 1: स्वयं सहायता समूह (एसएचजी) प्रत्येक सदस्य से न्यूनतम योगदान द्वारा छोटे अनुपात में मितव्ययिता को बढ़ावा देते हैं।</p> <p>कथन 2: एकत्रित धन से जरूरतमंद सदस्यों को उचित ब्याज दरों पर छोटी किस्तों में चुकाने के लिए ऋण दिया जाता है।</p> <p>विकल्प:</p>	1



	<p>क्षमता विफल हो जाती है। नीचे दिए गए सही विकल्पों में से एक चुनें।</p> <p>a) अभिकथन (A) और कारण (R) दोनों सत्य हैं और कारण (R) अभिकथन (A) का सही स्पष्टीकरण है।</p> <p>b) अभिकथन (A) और कारण (R) दोनों सत्य हैं, तथा कारण (R) अभिकथन (A) का सही स्पष्टीकरण नहीं है।</p> <p>c) अभिकथन (A) सत्य है, परन्तु कारण (R) असत्य है।</p> <p>d) अभिकथन (A) गलत है लेकिन कारण (R) सत्य है।</p>	
	<p>Read the following statements, Assertion (A) and Reason (R) and choose one of the correct alternatives given below.</p> <p><b>Assertion (A):</b> Environment fails to perform its function of life sustenance.</p> <p><b>Reason (R) :</b> When resource extraction is less than regeneration ,the carrying capacity of environment fails.</p> <p><b>Alternatives:</b></p> <p>a) Both Assertion (A) and Reason (R) are true and Reason (R) is the correct explanation of Assertion (A).</p> <p>b) Both Assertion (A) and Reason (R) are true, and Reason (R) is not the correct explanation of Assertion (A).</p> <p>c) Assertion (A) is true, but Reason (R) is false.</p> <p>d) Assertion (A) is false but Reason (R) is true.</p>	
26	<p>निम्नलिखित में से कौन सा संगठन भारत में स्वास्थ्य क्षेत्र को नियंत्रित करता है</p> <p>a) यूजीसी      b) आईसीएमआर      c) एआईसीटीई      d) एनसीईआरटी</p>	1
	<p>Which of the following organization regulates the health sector in India</p> <p>a) UGC      b) ICMR      c) AICTE      d) NCERT</p>	
27	<p>उस देश की पहचान करें जिसने वर्ष 1988 में आर्थिक सुधार शुरू किए</p> <p>a) चीन      b) भारत      c) पाकिस्तान      d) बांग्लादेश</p>	1
	<p>Identify the country which introduced its economic reforms in the year 1988</p> <p>a) China      b) India      c) Pakistan      d) Bangladesh</p>	
28	<p>क्या आपको लगता है कि सरकार की नवरत्न नीति भारत में सार्वजनिक उपक्रमों के प्रदर्शन को बेहतर बनाने में मदद करेगी? कैसे?</p> <p>अथवा</p> <p>हरित क्रांति के लाभ कुछ राज्यों तक ही सीमित थे। दिए गए कथन का वैध तर्कों के साथ बचाव या खंडन करें।</p>	3
	<p>Do you think the Navratna policy of the government helps in improving the performance of PSUs in India? How?</p> <p style="text-align: center;"><b>OR</b></p>	

	“Benefits of green revolution were restricted to few states”. Defend or refute the given statement with valid arguments.	
29	<p>चीन में जनसंख्या नीति और उसके परिणामी प्रभावों के आधार पर दी गई छवि की व्याख्या करें।</p> <p>Interpret the given image on account of population policy and resultant effects in China.</p> 	3
30	<p>"मानव पूंजी" और "मानव विकास" शब्द एक जैसे लगते हैं, लेकिन उनके बीच स्पष्ट अंतर है। क्या आप सहमत हैं? अपने उत्तर को मान्य बिंदुओं के साथ समर्थन करें।</p> <p>The terms of “human capital” and “human development” sound similar but there is a clear distinction between them. Do you agree? Support your answer with valid points.</p>	4
31	<p>a) कृषि विपणन को परिभाषित करें</p> <p>b) टिकाऊ आजीविका के लिए कृषि विविधीकरण क्यों आवश्यक है?</p> <p>अथवा</p> <p>सतत विकास के लिए कड़ी मेहनत करना हमारी नैतिक और सामाजिक जिम्मेदारी है? क्या आप सहमत हैं? यदि हाँ, तो सतत विकास के उद्देश्य को प्राप्त करने के लिए क्या किया जाना चाहिए?</p>	4
	<p>a) Define agricultural marketing.</p> <p>b) Why is agriculture diversification essential for sustainable livelihood?</p> <p style="text-align: center;"><b>OR</b></p> <p>It is our moral and social responsibility to work hard for sustainable development. Do you agree? If yes, what should be done to achieve the objective of sustainable development?</p>	
32	<p>“ग्रीट लीप फॉरवर्ड अभियान का महत्व इसके लक्ष्यों, परिणामों और चीन पर स्थायी प्रभाव के कारण था।” दिए गए कथन के आलोक में, जीएलएफ अभियान की व्याख्या कीजिए।</p> <p>“The Greet Leap Forward campaign had its importance in its goals, outcomes and lasting impact on China”. In the light of the given statement, explain the GLF campaign.</p>	4

निम्नलिखित केस स्टडी को ध्यानपूर्वक पढ़ें और नीचे दिए गए प्रश्नों के उत्तर दें।

लोग आमतौर पर अपने जन्म स्थान से भावनात्मक रूप से जुड़े होते हैं। लेकिन लाखों लोग अपने जन्म और निवास स्थान को छोड़ देते हैं। इसके कई कारण हो सकते हैं। इन कारणों को दो व्यापक श्रेणियों में रखा जा सकता है, यानी पुश फैक्टर, जिसके कारण लोग अपने निवास स्थान या मूल स्थान को छोड़ देते हैं; और पुल फैक्टर, जो अलग-अलग जगहों से लोगों को आकर्षित करते हैं।

भारत में, लोग मुख्य रूप से गरीबी, भूमि पर उच्च जनसंख्या दबाव, स्वास्थ्य सेवा, शिक्षा आदि जैसी बुनियादी ढांचागत सुविधाओं की कमी के कारण ग्रामीण क्षेत्रों से शहरी क्षेत्रों में पलायन करते हैं। इन कारकों के अलावा, बाढ़, सूखा, चक्रवाती तूफान, भूकंप, सुनामी, युद्ध और स्थानीय संघर्ष जैसी प्राकृतिक आपदाएँ भी पलायन को बढ़ावा देती हैं। दूसरी ओर, ऐसे कई कारक हैं जो ग्रामीण क्षेत्रों से लोगों को शहरों की ओर आकर्षित करते हैं। शहरी क्षेत्रों में ग्रामीण प्रवासियों के बहुमत के लिए सबसे महत्वपूर्ण आकर्षण कारक बेहतर अवसर, नियमित काम की उपलब्धता और अपेक्षाकृत उच्च मजदूरी है। शिक्षा के बेहतर अवसर, बेहतर स्वास्थ्य सुविधाएँ और मनोरंजन के स्रोत आदि भी काफी महत्वपूर्ण आकर्षण कारक हैं।

इसलिए, प्रवासन अंतरिक्ष में अवसरों के असमान वितरण की प्रतिक्रिया है। लोग कम अवसर और कम सुरक्षा वाले स्थान से उच्च अवसर और बेहतर सुरक्षा वाले स्थान पर चले जाते हैं। यह बदले में, उन क्षेत्रों के लिए लाभ और समस्याएँ दोनों पैदा करता है, जहाँ से लोग पलायन करते हैं और जहाँ वे जाते हैं। आर्थिक, सामाजिक, सांस्कृतिक, राजनीतिक और जनसांख्यिकीय दृष्टि से इसके परिणाम देखे जा सकते हैं।

(a) समझाइए कि भारत में लोग मुख्यतः ग्रामीण क्षेत्रों से शहरी क्षेत्रों की ओर क्यों पलायन करते हैं?

(b) समझाइए कि प्रवास पर व्यय किस प्रकार मानव पूंजी निर्माण का एक स्रोत है?

**Read the following case study carefully and answer the questions that follow.**

People, generally are emotionally attached to their place of birth. But millions of people leave their places of birth and residence. There could be variety of reasons. These reasons can be put into two broad categories, i.e., push factor, these cause people to leave their place of residence or origin; and pull factors, which attract the people from different places.

In India, people migrate from rural to urban areas mainly due to poverty, high population pressure on the land, lack of basic infrastructural facilities like healthcare, education, etc. Apart from these factors, natural disaster such as flood, drought, cyclonic storms, earthquake, tsunami, wars and local conflicts also give extra push to migrate. On the other hand, there are pull factors which attract people from rural areas to cities. The most important pull factor for majority of the rural migrants to urban areas is the better opportunities, availability of regular work and relatively higher wages. Better opportunities for education, better health facilities and sources of entertainment, etc., are also quite important pull factors.

	<p>Hence, migration is a response to the uneven distribution of opportunities over space. People tend to move from place of low opportunity and low safety to the place of higher opportunity and better safety. This, in turn, creates both benefits and problems for the areas, people migrate from and migrate to. Consequences can be observed in economic, social, cultural, political and demographic terms.</p> <p>(a) Explain, why in India people mainly migrate from rural to urban areas?  (b) Explain, how expenditure on migration is a source of human capital formation?</p>	
34	<p>(a) भारतीय बाजार के साथ-साथ विदेशी बाजार में भी भारतीय हस्तशिल्प की मांग को अंग्रेजों ने व्यवस्थित रूप से नष्ट कर दिया। दिए गए कथन का वैध तर्कों के साथ बचाव या खंडन करें।</p> <p>(b) नियोजन उद्देश्य के रूप में 'समानता के साथ विकास' की व्याख्या कीजिए।  अथवा</p> <p>(i) भारत को अक्सर दुनिया का आउटसोर्सिंग हब कहा जाता है। कोई दो कारण बताइए।  (ii) उदारीकरण की नीति ने भारतीय रिजर्व बैंक की भूमिका को वित्तीय क्षेत्र में नियामक से बदलकर “सुविधाकर्ता” बना दिया। दिए गए कथन का वैध तर्कों के साथ बचाव या खंडन करें।</p>	6
	<p>(a) Demand for Indian Handicrafts in Indian market as well as foreign market was systematically destroyed by Britishers. Defend or refute the given statement with valid arguments.  (b) Explain 'growth with equity' as a planning objective.</p> <p style="text-align: center;"><b>OR</b></p> <p>(i) India is often called the outsourcing hub of the world. State any two reasons.  (ii) The policy of Liberalization changed the role of Reserve Bank of India from a regulator to a facilitator in the financial sector. Defend or refute the given statement with valid arguments.</p>	
*****		