

KENDRIYA VIDYALAYA SANGATHAN – TINSUKIA REGION
PRE-BOARD I EXAMINATION 2024-25
SUBJECT: SOCIAL SCIENCE

CLASS – X
TIME – 3 Hours

SUB- SOCIAL SCIENCE
MAXIMUM- MARKS - 80

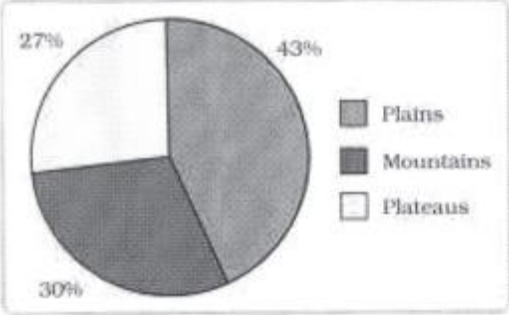
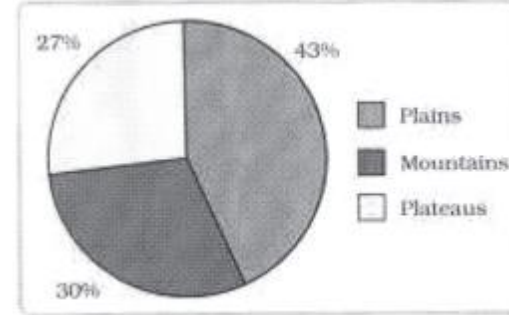
General Instructions :

- i. Question paper comprises of six sections – A, B, C, D, E and F. There are 37 questions in the question paper. All questions are compulsory.
- ii. Section A – From question 1 to 20 are MCQs of 1 mark each.
- iii. Section B – Question no. 21 to 24 are Very Short Answer Type Questions, carrying 2 marks each. Answer to each question should not exceed 40 words.
- iv. Section C contains Q.25 to Q.29 which are Short Answer Type Questions, carrying 3 marks each. Answer to each question should not exceed 60 words
- v. Section D – Question no. 30 to 33 are long answer type questions, carrying 5 marks each. Answer to each question should not exceed 120 words.
- vi. Section-E - Questions no from 34 to 36 are case based questions with three sub questions and are of 4 marks each
- vii. Section F – Question no. 37 is map based, carrying 5 marks with two parts, 37a from History (2 marks) and 37b from Geography (3 marks).
- viii. There is no overall choice in the question paper.
- ix. In addition to this, separate instructions are given with each section and question, wherever necessary.

सामान्य निर्देश:-



- i. प्रश्न पत्र में 6 खंड शामिल हैं - ए, बी, सी, डी, ई और एफ। प्रश्न पत्र में 37 प्रश्न हैं। सभी प्रश्न अनिवार्य हैं।
- ii. खंड ए-प्रश्न संख्या 1 से 20 प्रत्येक 1 अंक के वस्तुनिष्ठ प्रकार के प्रश्न हैं।
- iii. खंड बी- प्रश्न संख्या 21 से 24 अति लघु उत्तरीय प्रश्न हैं, प्रत्येक प्रश्न 2 अंक का है। प्रत्येक प्रश्न का उत्तर 40 शब्दों से अधिक नहीं होना चाहिए।
- iv. खंड सी-प्रश्न संख्या. 25 से 29 लघु उत्तरीय प्रकार के प्रश्न हैं, प्रत्येक 3 अंक का है। प्रत्येक प्रश्न का उत्तर 60 शब्दों से अधिक नहीं होना चाहिए।
- v. खंड डी - प्रश्न संख्या. 30 से 33 दीर्घ उत्तरीय प्रश्न, प्रत्येक 5 अंक का। प्रत्येक प्रश्न का उत्तर 120 शब्दों से अधिक नहीं होना चाहिए।
- vi. अनुभाग ई- प्रश्न संख्या. 34 से 36 केस आधारित प्रश्न हैं जिनमें तीन उप प्रश्न हैं और प्रत्येक 4 अंक का है।
- vii. खंड एफ-प्रश्न संख्या. 37 मानचित्र आधारित है, जिसमें दो भागों के साथ 5 अंक हैं, 37.1 इतिहास से (2 अंक) और 37.2 भूगोल से (3 अंक)।
- viii. प्रश्न पत्र में समग्र रूप से कोई विकल्प नहीं है। हालाँकि, कुछ प्रश्नों में आंतरिक विकल्प प्रदान किया गया है। ऐसे प्रश्नों में से केवल एक विकल्प का ही प्रयास करना होता है।
- ix. इसके अतिरिक्त, जहां भी आवश्यक हो, प्रत्येक अनुभाग और प्रश्न के साथ अलग-अलग निर्देश दिए गए हैं।

Q.NO	SECTION – A MCQS	(1×20=20)
1.	10,000,000 people died in Ireland between 1845-1849 due to (a) potato famine (b) epidemic (c) foreign invasion (d) drought 1845-1849 के बीच आयरलैंड में 10,000,000 लोगों की मृत्यु किसके कारण हुई ? (ए) आलू अकाल (बी) महामारी (सी) विदेशी आक्रमण (डी) सूखा	[1]
2.	The Bengal Gazette was edited by (A) Gangadhar Bhattacharya (B) Raja Rammohun Roy (C) James Augustus Hickey (D) Richard M. Hoe बंगाल गजट का संपादन किसके द्वारा किया गया था? (ए) गंगाधर भट्टाचार्य (बी) राजा राममोहन राय (सी) जेम्स ऑगस्टस हिककी (डी) रिचर्ड एम. होए	[1]

3.	<p>Diomond Sutra is the oldest printed book of (A) Japan (B) India (C) Korea (D) None of these</p> <p>डायमंड सूत्र सबसे पुरानी मुद्रित पुस्तक है (ए) जापान (बी) भारत (सी) कोरिया (डी) इनमें से कोई नहीं</p>	[1]
4.	<p>Who was the writer of the book 'Hind Swaraj'?' (A) Rabindranath Tagore (B) Mahatma Gandhi (C) Pt. J. L. Nehru (D) None of these</p> <p>'हिन्द स्वराज' पुस्तक के लेखक कौन थे? (ए) रवीन्द्रनाथ टैगोर (बी) महात्मा गांधी (सी) पं. जे. एल. नेहरू (डी) इनमें से कोई नहीं</p>	[1]
5.	<p>Interpret the following pie diagram and answer the following question.</p>  <p>Which is the significance of 43 percent land under plains? a) It provides facilities for agriculture and industry b) It provides facilities for tourism c) It ensures perennial flow of some river d) It possesses rich reserves of minerals, fossil fuels and forests</p> <p>निम्नलिखित पाई आरेख की व्याख्या करें और निम्नलिखित प्रश्न का उत्तर दें।</p>  <p>मैदानी भाग के अंतर्गत 43 प्रतिशत भूमि का क्या महत्व है? ए) यह कृषि और उद्योग के लिए सुविधाएं प्रदान करता है बी) यह पर्यटन के लिए सुविधाएं प्रदान करता है ग) यह किसी नदी के बारहमासी प्रवाह को सुनिश्चित करता है घ) इसमें खनिजों, जीवाश्म ईंधन और जंगलों के समृद्ध भंडार हैं</p>	[1]
6.	<p>"Project tiger" One of the well publicized wildlife campaigns in the world, was launched in (A) 1972 (B) 1974 (C) 1975 (D) 1973</p> <p>विश्व में बहुप्रचारित वन्यजीव अभियानों में से एक "प्रोजेक्ट टाइगर" कहाँ शुरू किया गया था? (ए) 1972 (बी) 1974</p>	[1]

	(सी) 1975	(डी) 1973																			
7.	<p>Read the following statements, choose the correct option. Assertion (A) : Minerals are an indispensable part of our lives Reason (R) : Minerals have a universal use, they are used to manufacture everything we use in our day to day lives. a) Both A and R are true and R is the correct explanation of A. b) Both A and R are true, but R is not the correct explanation of A c) A is true but R is wrong d) A is wrong but R is true</p> <p>निम्नलिखित कथनों को पढ़ें, सही विकल्प चुनें। दावा (ए) : खनिज हमारे जीवन का एक अनिवार्य हिस्सा हैं कारण (आर) : खनिजों का सार्वभौमिक उपयोग होता है, उनका उपयोग हमारे दैनिक जीवन में उपयोग की जाने वाली हर चीज के निर्माण के लिए किया जाता है। ए) ए और आर दोनों सत्य हैं और आर, ए का सही स्पष्टीकरण है। बी) ए और आर दोनों सत्य हैं, लेकिन आर, ए का सही स्पष्टीकरण नहीं है सी) ए सच है लेकिन आर गलत है डी) ए गलत है लेकिन आर सत्य है</p>		[1]																		
8.	<p>A belief that the majority community should be able to rule a country in whichever way it wants, by disregarding the wishes and needs of the minority is a) Power sharing b) Central Government c) Majoritarianism d) Community Government</p> <p>यह धारणा है कि बहुसंख्यक समुदाय को अल्पसंख्यकों की इच्छाओं और जरूरतों की उपेक्षा करके, जिस तरह से वह चाहे, किसी देश पर शासन करने में सक्षम होना चाहिए। ए) सत्ता की साझेदारी बी) केंद्र सरकार सी) बहुसंख्यकवाद डी) सामुदायिक सरकार</p>		[1]																		
9.	<p>Match list I with list II and select the correct answer using the codes below in the lists.</p> <table border="1" style="width: 100%; border-collapse: collapse;"> <thead> <tr> <th style="width: 50%;">List I</th> <th style="width: 50%;">List II</th> </tr> </thead> <tbody> <tr> <td>1) Power sharing</td> <td>a) Power shared among different levels of the government</td> </tr> <tr> <td>2) Check and balances</td> <td>b) Reduce the possibility of conflict between social groups</td> </tr> <tr> <td>3) Vertical divisions</td> <td>c) Example of power sharing among different social groups</td> </tr> <tr> <td>4) Reserved constituencies</td> <td>d) Power sharing among different organs of the government</td> </tr> </tbody> </table> <p>a) 1 - c, 2 - d, 3 - a, 4 - b b) 1 - d, 2 - d, 3 - c, 4 - a c) 1 - b, 2 - d, 3 - a, 4 - c d) 1 - a, 2 - c, 3 - d, 4 - b</p> <p>सूची I को सूची II से सुमेलित करें और नीचे दिए गए कोड का उपयोग करके सही उत्तर चुनें सूचियाँ।</p> <table style="width: 100%;"> <tr> <td style="width: 50%; text-align: center;">सूची I</td> <td style="width: 50%; text-align: center;">सूची II</td> </tr> <tr> <td>1) सत्ता का बंटवारा सरकार</td> <td>क) विभिन्न स्तरों के बीच सत्ता का बंटवारा</td> </tr> <tr> <td>2) जाँच और संतुलन</td> <td>ख) संघर्ष की संभावना कम करें सामाजिक समूहों के बीच</td> </tr> <tr> <td>3) ऊर्ध्वाधर विभाजन</td> <td>ग) आपस में सत्ता की साझेदारी का उदाहरण विभिन्न सामाजिक समूह</td> </tr> </table>		List I	List II	1) Power sharing	a) Power shared among different levels of the government	2) Check and balances	b) Reduce the possibility of conflict between social groups	3) Vertical divisions	c) Example of power sharing among different social groups	4) Reserved constituencies	d) Power sharing among different organs of the government	सूची I	सूची II	1) सत्ता का बंटवारा सरकार	क) विभिन्न स्तरों के बीच सत्ता का बंटवारा	2) जाँच और संतुलन	ख) संघर्ष की संभावना कम करें सामाजिक समूहों के बीच	3) ऊर्ध्वाधर विभाजन	ग) आपस में सत्ता की साझेदारी का उदाहरण विभिन्न सामाजिक समूह	[1]
List I	List II																				
1) Power sharing	a) Power shared among different levels of the government																				
2) Check and balances	b) Reduce the possibility of conflict between social groups																				
3) Vertical divisions	c) Example of power sharing among different social groups																				
4) Reserved constituencies	d) Power sharing among different organs of the government																				
सूची I	सूची II																				
1) सत्ता का बंटवारा सरकार	क) विभिन्न स्तरों के बीच सत्ता का बंटवारा																				
2) जाँच और संतुलन	ख) संघर्ष की संभावना कम करें सामाजिक समूहों के बीच																				
3) ऊर्ध्वाधर विभाजन	ग) आपस में सत्ता की साझेदारी का उदाहरण विभिन्न सामाजिक समूह																				

<p>4) आरक्षित निर्वाचन क्षेत्र</p> <p>ए) 1 - सी, 2 - डी, 3 - ए, 4 - बी 4 - ए</p> <p>सी) 1 - बी, 2 - डी, 3 - ए, 4 - सी 4 - बी</p>	<p>घ) विभिन्न अंगों के बीच सत्ता की साझेदारी सरकार के</p> <p>बी) 1 - डी, 2 - डी, 3 - सी, 4 - ए</p> <p>डी) 1 - ए, 2 - सी, 3 - डी, 4 - बी</p>	
--	---	--

<p>10.</p>	<p>Study the picture and answer the question that follows: Which of the following options best signifies this cartoon?</p>  <p>a) Demand for separate state from democratic government b) Democratic government is facing territorial issues with the bordering states c) Democratic government is coping with multiple pressures through accommodation d) Democratic government accepts demands based on separate state</p> <p>चित्र का अध्ययन करें और निम्नलिखित प्रश्न का उत्तर दें: निम्नलिखित में से कौन सा विकल्प इस कार्टून को सबसे अच्छा दर्शाता है?</p>  <p>ए) लोकतांत्रिक सरकार से अलग राज्य की मांग बी) लोकतांत्रिक सरकार को सीमावर्ती राज्यों के साथ क्षेत्रीय मुद्दों का सामना करना पड़ रहा है ग) लोकतांत्रिक सरकार समायोजन के माध्यम से कई दबावों का सामना कर रही है</p>	<p>[1]</p>
------------	---	------------

	डी) लोकतांत्रिक सरकार अलग राज्य पर आधारित मांगों को स्वीकार करती है	
11.	<p>Consider the following statements on the practice of federalism in India. Identify those which hold true for decentralisation after 1992.</p> <p>A. Local governments did not have any power or resources of their own. B. It became constitutionally mandatory to hold regular elections to local government bodies. C. The state governments are required to share some powers and revenue with local government bodies.</p> <p>D. No seats are reserved in the elected bodies for scheduled castes, scheduled tribes and other backward classes.</p> <p>(a) B and C (b) A and C (c) A and D (d) B and D</p> <p>भारत में संघवाद की प्रथा पर निम्नलिखित कथनों पर विचार करें। उन लोगों की पहचान करें जो 1992 के बाद विकेंद्रीकरण के लिए सही हैं।</p> <p>A. स्थानीय सरकारों के पास अपनी कोई शक्ति या संसाधन नहीं थे। B. स्थानीय सरकारी निकायों के लिए नियमित चुनाव कराना संवैधानिक रूप से अनिवार्य हो गया। C. राज्य सरकारों को स्थानीय सरकारी निकायों के साथ कुछ शक्तियां और राजस्व साझा करना आवश्यक है। D. निर्वाचित निकायों में अनुसूचित जाति, अनुसूचित जनजाति और अन्य पिछड़े वर्गों के लिए कोई सीटें आरक्षित नहीं हैं।</p> <p>(ए) बी और सी (बी) ए और सी (सी) ए और डी (डी) बी और डी</p>	[1]
12.	<p>Read the following statements, choose correct option.</p> <p>Assertion (A) : Equal Remuneration Act. 1976, provides that equal wages should be paid for equal work, irrespective of gender and caste. Reason (R) : Women are physically weak so they are righteously paid less than men.</p> <p>a) If both assertion and reason are true and reason is the correct explanation of assertion. b) If both assertion and reason are true but reason is not the correct explanation of assertion. c) If assertion is true but reason is false. d) If both assertion and reason are false.</p> <p>निम्नलिखित कथनों को पढ़ें, सही विकल्प चुनें।</p> <p>दावा (ए) : समान पारिश्रमिक अधिनियम। 1976, प्रावधान करता है कि समान वेतन होना चाहिए</p> <p>लिंग और जाति पर ध्यान दिए बिना समान काम के लिए भुगतान।</p> <p>कारण (आर) : महिलाएं शारीरिक रूप से कमजोर होती हैं इसलिए उन्हें पुरुषों की तुलना में कम वेतन दिया जाता है।</p> <p>ए) यदि दावा और कारण दोनों सत्य हैं और कारण, दावे की सही व्याख्या है। बी) यदि दावा और कारण दोनों सत्य हैं लेकिन कारण, दावे की सही व्याख्या नहीं है। सी) यदि दावा सत्य है लेकिन कारण गलत है। डी) यदि दावा और कारण दोनों गलत हैं।</p>	[1]

13.	<p>Read the information given below and select the correct option. Formed in 1984 under the leadership of Kanshi Ram. Seeks to represent and secure power for the bahujan Samaj which includes the dalits, adivasis, OBCs and religious minorities. Draws inspiration from the ideas and teachings of Shahu Maharaj, Mahatma Phule, Periyar Ramaswami Naicker and Babasaheb Ambedkar. Stands for the cause of securing the interests and welfare of the dalits and oppressed people. a) Communist Party of India-Marxist (CPI-M) b) Bahujan Samaj Party (BSP) c) Bharatiya Janata Party (BJP) d) Indian National Congress (INC)</p> <p>नीचे दी गई जानकारी पढ़ें और सही विकल्प चुनें। 1984 में कांशीराम के नेतृत्व में गठित। प्रतिनिधित्व करना और सुरक्षित करना चाहता है बहुजन समाज के लिए सत्ता जिसमें दलित, आदिवासी, ओबीसी और धार्मिक शामिल हैं अल्पसंख्यक. महात्मा शाहू महाराज के विचारों और शिक्षाओं से प्रेरणा लेते हैं फुले, पेरियार रामास्वामी नायकर और बाबासाहेब अम्बेडकर। के मकसद के लिए खड़ा है दलितों और उत्पीड़ित लोगों के हितों और कल्याण को सुरक्षित करना। ए) भारतीय कम्युनिस्ट पार्टी-मार्क्सवादी (CPI-M) बी) बहुजन समाज पार्टी (बसपा) सी) भारतीय जनता पार्टी (भाजपा) डी) भारतीय राष्ट्रीय कांग्रेस (INC)</p>	[1]																																				
14.	<p>Read the given data and find out which country has most equitable distribution of income. Monthly income of five families in country A and country B.</p> <table border="1" data-bbox="229 1070 1353 1267"> <thead> <tr> <th></th> <th>I</th> <th>II</th> <th>III</th> <th>IV</th> <th>V</th> </tr> </thead> <tbody> <tr> <td>A:</td> <td>9500</td> <td>9600</td> <td>10000</td> <td>10400</td> <td>10500</td> </tr> <tr> <td>B:</td> <td>3000</td> <td>2000</td> <td>5000</td> <td>4000</td> <td>36000</td> </tr> </tbody> </table> <p>a) Country A b) Country B c) Country A and B c) None of these</p> <p>दिए गए आंकड़ों को पढ़ें और पता लगाएं कि किस देश में आय का सबसे अधिक न्यायसंगत वितरण है। देश A और देश B में पाँच परिवारों की मासिक आय।</p> <table border="1" data-bbox="229 1529 1353 1727"> <thead> <tr> <th></th> <th>I</th> <th>II</th> <th>III</th> <th>IV</th> <th>V</th> </tr> </thead> <tbody> <tr> <td>A:</td> <td>9500</td> <td>9600</td> <td>10000</td> <td>10400</td> <td>10500</td> </tr> <tr> <td>B:</td> <td>3000</td> <td>2000</td> <td>5000</td> <td>4000</td> <td>36000</td> </tr> </tbody> </table> <p>ए) देश ए बी) देश बी सी) देश ए और बी डी) इनमें से कोई नहीं</p>		I	II	III	IV	V	A:	9500	9600	10000	10400	10500	B:	3000	2000	5000	4000	36000		I	II	III	IV	V	A:	9500	9600	10000	10400	10500	B:	3000	2000	5000	4000	36000	[1]
	I	II	III	IV	V																																	
A:	9500	9600	10000	10400	10500																																	
B:	3000	2000	5000	4000	36000																																	
	I	II	III	IV	V																																	
A:	9500	9600	10000	10400	10500																																	
B:	3000	2000	5000	4000	36000																																	
15.	<p>Economic development by maintaining the natural resources for present and future use is known as</p> <p>a) sustainable development b) planned development c) human development Index d) development</p> <p>वर्तमान और भविष्य के उपयोग के लिए प्राकृतिक संसाधनों को बनाए रखते हुए आर्थिक विकास</p>	[1]																																				

	iv) व्यवहार में, देशों के बीच व्यापार का पालन नहीं किया जाता है। ए) iv - i, iii, ii बी) iii - iv - i - ii सी) ii - i - iv - iii डी) i - ii - iii - iv	
20.	Which organisation supports liberalisation of foreign trade and investments in India? a) International Labour Organisation (ILO) b) World Bank c) World Trade Organisation (WTO) d) International Monetary Fund (IMF) कौन सा संगठन भारत में विदेशी व्यापार और निवेश के उदारीकरण का समर्थन करता है? ए) अंतर्राष्ट्रीय श्रम संगठन बी) विश्व बैंक सी) विश्व व्यापार संगठन डी) अंतर्राष्ट्रीय मुद्रा कोष	[1]

Q.NO	SECTION – B VERY SHORT ANSWER QUESTIONS-	(2×4=8)
21.	What were silk routes ? Explain two points. रेशम मार्ग क्या थे? दो बिंदु स्पष्ट करें.	[2]
22.	How is it possible to grow rice in areas of less rain like Punjab and Haryana? पंजाब और हरियाणा जैसे कम वर्षा वाले क्षेत्रों में चावल उगाना कैसे संभव है? OR Why are pulses grown in rotation with other crops? दालें अन्य फसलों के साथ चक्रानुक्रम में क्यों उगाई जाती हैं?	[2]
23.	Define Feminist Movements. नारीवादी आंदोलनों को परिभाषित करें OR How does religion influence the political set up in our country? धर्म हमारे देश में राजनीतिक व्यवस्था को किस प्रकार प्रभावित करता है?	[2]
24.	How far is it correct to say that disguised unemployment can also be called underemployment? Explain. यह कहना कहां तक सही है कि प्रच्छन्न बेरोजगारी को अल्परोजगार भी कहा जा सकता है? व्याख्या करना।	[2]

	SECTION – C SHORT ANSWER BASED QUESTIONS	(3×5=15)
25.	How was civil disobedience movement different from the non-cooperation movement? सविनय अवज्ञा आंदोलन असहयोग आंदोलन से किस प्रकार भिन्न था?	[3]
26.	What are the main characteristics of commercial farming? Give some examples of commercial crops in India. व्यावसायिक खेती की मुख्य विशेषताएँ क्या हैं? भारत में व्यावसायिक फसलों के कुछ उदाहरण दीजिए।	[3]
27.	Explain four features of the federal form of government. संघीय शासन व्यवस्था की चार विशेषताएँ बताइये।	[3]
28.	'Barriers on foreign trade and foreign investment were removed to a large extent in India since 1991.' Justify the statement. '1991 के बाद से भारत में विदेशी व्यापार और विदेशी निवेश पर बाधाएँ काफी हद तक दूर हो गईं।' कथन को सही ठहराएँ।	[3]
29.	What are the two sectors of economic activities on the basis of the ownership of resources? Explain.	[3]

	संसाधनों के स्वामित्व के आधार पर आर्थिक गतिविधियों के दो क्षेत्र कौन से हैं? व्याख्या करना।	
--	---	--

SECTION-D LONG ANSWER BASED QUESTIONS		(5×4=20)
30.	<p>“The first clear expression of nationalism came with the French Revolution in 1789”. Explain the meaning of nationalism and throw light on the statement. “राष्ट्रवाद की पहली स्पष्ट अभिव्यक्ति 1789 में फ्रांसीसी क्रांति के साथ हुई। राष्ट्रवाद का अर्थ स्पष्ट कीजिए तथा कथन पर प्रकाश डालिए।</p> <p style="text-align: center;">Or</p> <p>How did the Balkan region become a source of nationalist tension in Europe after 1871? 1871 के बाद बाल्कन क्षेत्र यूरोप में राष्ट्रवादी तनाव का स्रोत कैसे बन गया?</p>	[5]
31.	<p>Evaluate the factors which are responsible for the location of jute industry in West Bengal. उन कारकों का मूल्यांकन करें जो पश्चिम बंगाल में जूट उद्योग की स्थिति के लिए जिम्मेदार हैं।</p> <p style="text-align: center;">OR</p> <p>Describe the various physical and human factors responsible for the location of industries. उद्योगों की अवस्थिति के लिए उत्तरदायी विभिन्न भौतिक एवं मानवीय कारकों का वर्णन करें।</p>	[5]
32.	<p>“All over the world, people express their dissatisfaction with the failure of political parties to perform their functions well.” Analyze the statement with arguments. “दुनिया भर में, लोग राजनीतिक दलों द्वारा अपना कार्य ठीक से करने में विफलता पर अपना असंतोष व्यक्त करते हैं।” कथन का तर्क सहित विश्लेषण कीजिये।</p>	[5]
33.	<p>Why is tertiary sector growing so rapidly in India ? Explain it with four reasons. भारत में तृतीयक क्षेत्र इतनी तेजी से क्यों बढ़ रहा है? इसे चार कारणों से समझाइये।</p> <p style="text-align: center;">Or</p> <p>What are the disadvantages of working in an unorganized sector? Suggest any two ways to protect the workers working in an unorganized sector. असंगठित क्षेत्र में काम करने के क्या नुकसान हैं? असंगठित क्षेत्र में काम करने वाले श्रमिकों की सुरक्षा के लिए कोई दो उपाय सुझाएँ।</p>	[5]

SECTION-E CASE BASED QUESTIONS		(4×3=12)
34.	<p>Read the passage below and answer the following questions. Even before factories began to dot the landscape in England and Europe, there was large-scale industrial production for an international market. This was not based on factories. Many historians now refer to this phase of industrialization as proto - industrialization. In the seventeenth and eighteenth centuries, merchants from the towns in Europe began moving to the countryside, supplying money to peasants and artisans, persuading them to produce for an international market. With the expansion of world trade and the acquisition of colonies in different parts of the world, the demand for goods began growing. But merchants could not expand production within towns.</p> <p>i) What do you mean by ‘Proto’? 1</p> <p>ii) In the 17th and 18th centuries, merchants from the towns in Europe began moving to the countryside. Give reasons. 2</p>	[4]

	<p>iii) In the countryside poor peasants and artisans began working for merchants based in the towns. Give reason. 1</p> <p>नीचे दिए गए गद्यांश को पढ़ें और निम्नलिखित प्रश्नों के उत्तर दें।</p> <p>इंग्लैंड और यूरोप में फैक्ट्रियाँ शुरू होने से पहले ही, अंतर्राष्ट्रीय बाज़ार के लिए बड़े पैमाने पर औद्योगिक उत्पादन होता था। यह फैक्ट्रियों पर आधारित नहीं था। कई इतिहासकार अब औद्योगिकीकरण के इस चरण को प्रोटो-औद्योगिकीकरण के रूप में संदर्भित करते हैं। सत्रहवीं और अठारहवीं शताब्दी में, यूरोप के शहरों से व्यापारियों ने ग्रामीण इलाकों में जाना शुरू कर दिया, किसानों और कारीगरों को धन की आपूर्ति की, और उन्हें अंतरराष्ट्रीय बाजार के लिए उत्पादन करने के लिए राजी किया। विश्व व्यापार के विस्तार और दुनिया के विभिन्न हिस्सों में उपनिवेशों के अधिग्रहण के साथ, वस्तुओं की मांग बढ़ने लगी। लेकिन व्यापारी शहरों के भीतर उत्पादन का विस्तार नहीं कर सके।</p> <p>i) 'प्रोटो' से आपका क्या तात्पर्य है? 1</p> <p>ii) 17वीं और 18वीं शताब्दी में, यूरोप के शहरों से व्यापारी ग्रामीण इलाकों की ओर जाने लगे। कारण दें। 2</p> <p>iii) ग्रामीण इलाकों में गरीब किसानों और कारीगरों ने शहरों में स्थित व्यापारियों के लिए काम करना शुरू कर दिया। कारण देना। 1</p>	
35.	<p>Read the passage below and answer that follows.</p> <p>Given the abundance and renewability of water, it is difficult to imagine that we may suffer from water scarcity. The moment we speak of water shortages, we immediately associate it with regions having low rainfall or those that are drought prone. We instantaneously visualise the deserts of Rajasthan and women balancing many 'matkas' (earthen pots) used for collecting and storing water and travelling long distances to get water. Multi-purpose projects, launched after Independence with their integrated water resources management approach, were thought of as the vehicle that would lead the nation to development and progress overcoming the handicap of its colonial past. Jawaharlal Nehru proudly proclaimed the dams as the 'temples of modern India'; the reason being that it would integrate development of agriculture and the village economy with rapid industrialisation and growth of the urban economy.</p> <p>i) What is the main cause of water scarcity? 1</p> <p>ii) Why did Jawaharlal Nehru proclaim dams as 'temples of modern India'? 1</p> <p>iii) How do dams help in conserving and managing water? 2</p> <p>नीचे दिए गए गद्यांश को पढ़ें और उसका उत्तर दें।</p> <p>पानी की प्रचुरता और नवीकरणीयता को देखते हुए, यह कल्पना करना कठिन है कि हम पानी की कमी से पीड़ित हो सकते हैं। जैसे ही हम पानी की कमी की बात करते हैं, हम तुरंत इसे कम वर्षा वाले या सूखाग्रस्त क्षेत्रों से जोड़ देते हैं। हम तुरंत राजस्थान के रेगिस्तानों की कल्पना करते हैं और महिलाएं पानी इकट्ठा करने और भंडारण के लिए इस्तेमाल किए जाने वाले कई 'मटका' (मिट्टी के बर्तन) को संतुलित करती हैं और पानी लाने के लिए लंबी दूरी तय करती हैं।</p> <p>स्वतंत्रता के बाद अपने एकीकृत जल संसाधन प्रबंधन दृष्टिकोण के साथ शुरू की गई बहुउद्देश्यीय परियोजनाओं को ऐसे माध्यम के रूप में सोचा गया था जो देश को उसके औपनिवेशिक अतीत की बाधाओं को दूर करते हुए विकास और प्रगति की ओर ले जाएगा। जवाहरलाल नेहरू ने गर्व से बांधों को 'आधुनिक भारत के मंदिर' घोषित किया;</p>	[4]

	<p>इसका कारण यह है कि यह कृषि और ग्रामीण अर्थव्यवस्था के विकास को तेजी से औद्योगीकरण और शहरी अर्थव्यवस्था के विकास के साथ एकीकृत करेगा।</p> <p>i) जल की कमी का मुख्य कारण क्या है? 1</p> <p>ii) जवाहरलाल नेहरू ने बांधों को 'आधुनिक भारत के मंदिर' क्यों घोषित किया? 1</p> <p>iii) बांध पानी के संरक्षण और प्रबंधन में किस प्रकार मदद करते हैं? 2</p>	
36.	<p>It will be a fair expectation that democracy should produce a harmonious social life. Democracies accommodate various social divisions. Belgium has successfully negotiated differences among ethnic populations.</p> <p>It is necessary to understand that democracy is not simply rule by majority opinion. The majority always needs to work with the minority so that governments function to represent the general view. Majority and minority opinions are not permanent.</p> <p>Rule by majority means that in case if every decision or in case of every election, different persons and groups may and can form a majority. Democracy remains democracy only as long as every citizen has a chance of being in majority on the basis of birth, then the democratic rule ceases to be accommodative for that person or group. Take the case of dignity of women. Most societies across the world were historically male dominated societies. Long struggles by women have create some sensitivity today that expect to and equal treatment of women are necessary ingredients of a democratic society. That does not mean that women are actually always treated with respect. But once the principle is recognised , it become easier for women to wage a struggle against what is now unacceptable legally and morally. In a non-democratic set up, this unacceptability would not have legal basis because the principle of individual freedom and dignity would not have the legal and moral force there.</p> <p>Democracy is a better form of government when compared with dictatorship or any other alternatives. When we talk to people around us, most of them support democracy against other alternatives, such as rule by a monarch or military or religious leaders.</p> <p>i) What are the conditions under which democracies accommodate social diversities? 1</p> <p>ii) Do you feel that democracy is better form compared to other alternative. Why? 1</p> <p>iii) How does democracy maintain the dignity of women? Explain. 2</p> <p>यह एक उचित अपेक्षा होगी कि लोकतंत्र एक सामंजस्यपूर्ण सामाजिक जीवन का निर्माण करे।</p> <p>लोकतंत्र विभिन्न सामाजिक विभाजनों को समायोजित करता है। बेल्जियम ने जातीय आबादी के बीच मतभेदों पर सफलतापूर्वक बातचीत की है।</p> <p>यह समझना आवश्यक है कि लोकतंत्र केवल बहुमत की राय से शासन नहीं है। बहुमत को हमेशा अल्पसंख्यक के साथ काम करने की आवश्यकता होती है ताकि सरकारें सामान्य दृष्टिकोण का प्रतिनिधित्व करने के लिए कार्य करें। बहुमत और अल्पसंख्यक की राय स्थायी नहीं होती।</p> <p>बहुमत द्वारा शासन का अर्थ है कि प्रत्येक निर्णय के मामले में या प्रत्येक चुनाव के मामले में, अलग-अलग व्यक्ति और समूह बहुमत बना सकते हैं और बना सकते हैं। लोकतंत्र तभी तक लोकतंत्र रहता है जब तक प्रत्येक नागरिक को जन्म के आधार पर बहुमत में होने का मौका मिलता है, तब तक लोकतांत्रिक शासन उस व्यक्ति या समूह के लिए उदार नहीं रह जाता है। महिलाओं की अस्मिता का मामला लीजिए. दुनिया भर में अधिकांश समाज ऐतिहासिक रूप से पुरुष प्रधान समाज थे। महिलाओं के लंबे संघर्षों ने आज कुछ संवेदनशीलता पैदा की है कि महिलाओं का सम्मान और समान व्यवहार</p>	[4]

एक लोकतांत्रिक समाज के आवश्यक तत्व हैं। इसका मतलब यह नहीं है कि महिलाओं के साथ वास्तव में हमेशा सम्मान की दृष्टि से व्यवहार किया जाता है। लेकिन एक बार सिद्धांत को मान्यता मिल जाने के बाद, महिलाओं के लिए उस चीज़ के खिलाफ संघर्ष करना आसान हो जाता है जो अब कानूनी और नैतिक रूप से अस्वीकार्य है। किसी गैर-लोकतांत्रिक व्यवस्था में इस अस्वीकार्यता का कानूनी आधार नहीं होगा क्योंकि व्यक्तिगत स्वतंत्रता और गरिमा के सिद्धांत को वहां कानूनी और नैतिक बल नहीं मिलेगा। तानाशाही या किसी अन्य विकल्प की तुलना में लोकतंत्र सरकार का एक बेहतर रूप है। जब हम अपने आस-पास के लोगों से बात करते हैं, तो उनमें से अधिकांश अन्य विकल्पों के विरुद्ध लोकतंत्र का समर्थन करते हैं, जैसे कि राजा या सैन्य या धार्मिक नेताओं का शासन।

i) वे कौन सी स्थितियाँ हैं जिनके तहत लोकतंत्र सामाजिक विविधताओं को समायोजित करता है? 1

ii) क्या आपको लगता है कि लोकतंत्र अन्य विकल्पों की तुलना में बेहतर है। क्यों? 1

iii) लोकतंत्र महिलाओं की गरिमा को कैसे बनाए रखता है? व्याख्या करना। 2

SECTION-F

MAP SKILL BASED QUESTIONS

(2+3=5)

37. a. Two places A and B have been marked on the given outline map of India. Identify them and write their correct names on the lines drawn near them.

A. The place where the Cotton mill workers satyagraha took place.

B. Indian National congress session was held at this place in DEC. 1920.

Note: The following question is for Visually Impaired Candidates only in lieu of Question 37 (a).

A. Name the place where the Cotton mill workers satyagraha took place

B. Name the place where the Indian National Congress session was held in Dec 1920.

37. ए. भारत के दिए गए रूपरेखा मानचित्र पर दो स्थान A और B अंकित किए गए हैं। उन्हें पहचानें और उनके पास खींची गई रेखाओं पर उनका सही नाम लिखें।

A. वह स्थान जहाँ कपास मिल मजदूरों का सत्याग्रह हुआ था।

B. भारतीय राष्ट्रीय कांग्रेस का अधिवेशन दिसम्बर में इसी स्थान पर हुआ था। 1920.

नोट: निम्नलिखित प्रश्न प्रश्न 37 (ए) के स्थान पर केवल दृष्टिबाधित उम्मीदवारों के लिए है।

A. उस स्थान का नाम बताइए जहाँ कपास मिल मजदूरों का सत्याग्रह हुआ था

B. उस स्थान का नाम बताएं जहाँ दिसंबर 1920 में भारतीय राष्ट्रीय कांग्रेस का अधिवेशन हुआ था।

37.b On the same outline map of India locate and label any three of the following with suitable symbols.

i. Namrup power plant .

ii. A coal mine in Jharkhand.

iii. The Nagarjuna Sagar dam in India.

iv. Vishakhapatnam Sea port

37.बी भारत के रूपरेखा मानचित्र पर निम्नलिखित में से किन्हीं तीन को उपयुक्त प्रतीकों के साथ खोजें और लेबल करें।
मैं। नामरूप पावर प्लांट.

द्वितीय. झारखंड में एक कोयला खदान.

iii. भारत में नागार्जुन सागर बांध।

iv. विशाखापत्तनम समुद्री बंदरगाह

