

**PERIODIC TEST-2 (2025-26)**

**CLASS – IV TIME – 1 HOUR SUBJECT – ENGLISH MARKS – 30 NAME OF THE STUDENT - \_\_\_\_\_ ROLL NO . \_\_\_\_\_**

COMPET EN CIES	READIN G (10)	WRITING (05)	GRAMMA R (5)	CREATIVE WRITING (05)	SPELLING S VOCABUL A RY (05)	TOTAL (30)
MARKS						

INVIGILATOR’S SIGN EXAMINER’S SIGN \_\_\_\_\_ **READING**  
**(10)**

Q. Read the given poem and answer the following questions:

**Graceful girl Geeta**  
**practices on her skates,**  
**and learns daily from her mistakes.**  
**Little boy Lhamo,**  
**proudly plays a guitar,**  
**while his friend joins him with a sitar.**  
**Swift girl Shabana,**  
**after winning a cycle race,**  
**happily celebrates her fastest pace.**

Q.1. Who learns daily from her mistakes?

\_\_\_\_\_

Q.2. After winning a cycle race, who happily celebrates her fastest pace?

\_\_\_\_\_

Q.3 Complete the sentence.

Little boy Lhamo,  
.....plays a guitar.

Q.4. Write any one rhyming word from the above poem.

\_\_\_\_\_

Q.5. Find out the opposite word of ‘Big’ from the above poem.

\_\_\_\_\_

**Read the passage and answer the following:**

A crow and a deer who were good friends lived in a forest. Every day, the deer came to the tree to talk to the very attractive as a prey to any bigger animal. But the crow was very protective about his friend, so no animal dared to attack the deer.

A jackal had been observing closeness since many days. The plump deer tempted him very much and therefore, after much pondering he finally decided to win the confidence of the deer.

Q.6. Where do the crow and the deer live?

---

Q.7. How was the deer ?

---

Q.8. Who was very protective?

---

Q.9. Who tempted the jackal?

---

Q.10. Who had been observing their closeness since many days?

---

**WRITING (05)****Answer the following questions:**

Q.11. Which game do you generally play in school?

---

Q.12.

What is the name of Deepa's team and who are they competing against?

---

Q.13.

Who told Prakash about Lagori, and what name does he use for it?

---



---

**GRAMMAR (05)**

Q.14. Circle the word that does not have the same meaning as the word in bracket.

Today there was an exciting football (contest) at school.

(i) Match (ii) playground (iii) activity

Or

The whole school ( praised ) the victory of the basketball team.

(i) Celebrated (ii) ignored (iii) cheered

Q.15. Fill in the blank with appropriate describing word.

Healthy and \_\_\_\_\_ food is liked by every one.

Or

Tara told me.....story.

Q.16. Fill in the blank with naming word that suit the first word.

Beautiful.....

Or

Happy.....

Q.17. Re arrange the words to form meaningful sentence.

Fresh / need/ everyday/water / plants.

---

Or

Looked/Prakash/ at /surprise/everybody/with.

---

Q.18. Make one interrogative / question sentence.

---

**CREATIVE WRITING (05)**

Q.19. Write few lines about your favourite” games / sports ( 60- 70 words)

Or

Observe the picture and write atleast 5-6 lines about it.




---

---

---

---

---

---

---

---

**SPELLINGS/ VOCABULARY (05)**

Q.20. Substitute the sentence by one word.

A child of a person's aunt or uncle is called.

Or

Error or things done incorrectly.

Q.21. Unscramble the letters to form a word.

(i). D E O T I U S

---

(i) O N B U D Y R A

---

Fill in the blank with word that have double letters.

Q.22. The parrot is .....in colour.

Q.23. Write the meaning of :

Brave:.....

PM SHRI KENDRIYA VIDYALAYA MALKAPURAM

PERIODIC TEST- II

CLASS- IV

SUBJECT- ENGLISH

Name- \_\_\_\_\_ Class & Section- \_\_\_\_\_ Roll No. \_\_\_\_\_

Sign. of the Invigilator- \_\_\_\_\_ Sign. of the Examiner- \_\_\_\_\_

READIN G (5)	WRITIN G (5)	GRAMMA R (5)	CREATIV E WRITING (5)	SPELLIN G (5)	VOCABULAR Y (5)	TOTA L (30)

READING (5)

Q1. Read the given story carefully and answer the questions that follow-

The Lost Puppy

One morning, Ria found a small puppy shivering near the school gate. Many children walked past, but Ria stopped and gently picked it up. She gave it water and kept it warm in her scarf. After school, she searched the nearby houses and finally found the puppy's owner, an old man who was very worried. He thanked Ria for her kindness. Ria felt happy knowing a small act of care can make a big difference.

a) Where did Ria find the puppy? (1)

Ans. \_\_\_\_\_

b) What did Ria use to keep the puppy warm? (1)

Ans. \_\_\_\_\_

c) "Ria found a puppy shivering near the school gate".

Have you ever seen someone shivering? Write a situation when you noticed a person/ animal shivering and explain why? (CBQ-1)

Ans. \_\_\_\_\_

\_\_\_\_\_

d) Complete the blanks by using the opposites- (CBQ-1)

Small puppy- \_\_\_\_\_

Old man- \_\_\_\_\_

e) From the line- (CBQ-1)

“Ria found a small puppy shivering near the school gate”

- Circle the two adjectives (describing words)
- Underline the two verbs (action words)

### WRITING (5)

Q2. Answer the following questions-

a) What are the two teams in the game of ‘Hekko’ called? (1)

Ans. \_\_\_\_\_

b) What did the villagers do after the Sundarpur Tigers won the match? (2)

Ans. \_\_\_\_\_

---

Q3. Read the given lines and answer the questions that follow- (CBQ-2)

Active boy Anant

Plays the game of hockey

Even when the ground is rocky.

a) Name the poem from which these lines are taken.

\_\_\_\_\_

b) Write the rhyming word for-

Hockey- \_\_\_\_\_ game- \_\_\_\_\_

### GRAMMAR (10)

Q4. Read the sentences and choose the correct option- (1)

a) \_\_\_\_\_ is a big park in my neighbourhood.  
(Their/ There)

Q5. Read the given sentences and select whether it a statement (S) or a question (Q)- (2)

☐

a) We saw leopards in the zoo.

b) When did you come back from the trip?

Q6. Rewrite the words to form a meaningful sentence- (1)

stable/ the/ in/ horses/ are/ the

---

Q7. Read the hint and write the missing double letters to complete the word- (1)

a) O R \_\_\_\_ N \_\_\_\_ E ( hint- a fruit)

b) B U \_\_\_\_ \_\_\_\_ E R ( hint- goes on toast)

### SPELLING

Q.8 Tick the correct spelling.

1. Champion / Champean

2. Decision/ Deseason

3. Braell / Braille

4. Script /Skreep


5. Player /Pleyer

### CREATIVE WRITING (5)

(CBQ-5)

Q12. You are celebrating '**SPORTS DAY**' in your school. Look at the given picture, and use the given hints to write 5 sentences on how you celebrated the sports day and participated in various events. Share your experiences.

March past	racing track	cheering loudly	fun games
medals and certificates	refreshments	victory	celebration
participation	happiness		



---

---

---

---

---

---

---

---

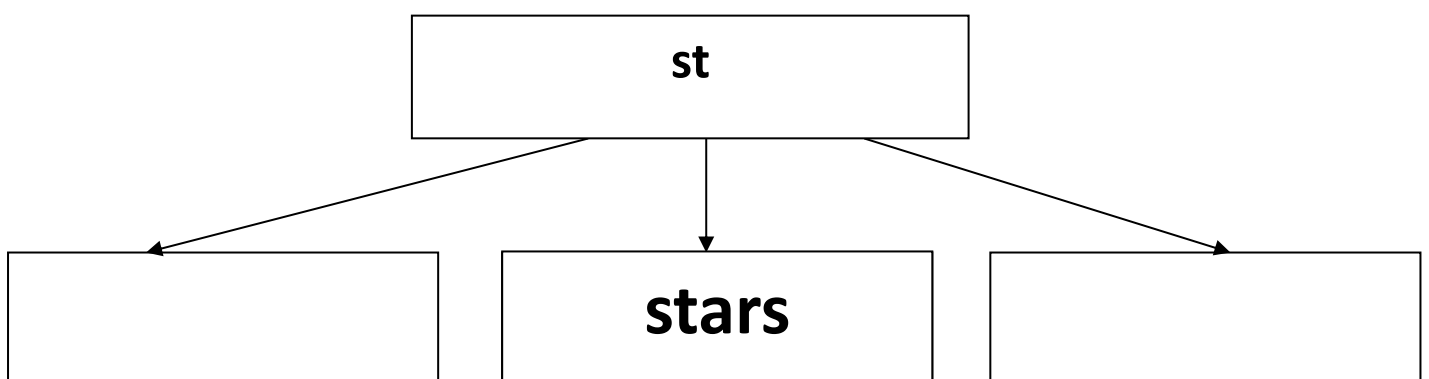
---

---

VOCABULARY BUILDING (5)

Q13. Write two words from each blend sound-

(2)





Q14. Match the words with their meanings-

(2)

Superiority

speed/ how fast someone can move

Surrender

happy/ full of joy

Cheerful

being better/ stronger

Pace

to give up or admit defeat

Q15. Pick any one word and use it in a sentence-

(1)

players

rhythm

opponent

---

# P M SHRI KV MALKAPURAM

## PERIODIC TEST-2 (2025-26)

CLASS – IV

TIME – 1 HOUR

SUBJECT – ENGLISH

MARKS – 30

NAME OF THE STUDENT - \_\_\_\_\_ ROLL NO . \_\_\_\_\_

COMPETENCIES	READING (10)	WRITING (05)	GRAMMAR (5)	CREATIVE WRITING (05)	SPELLINGS VOCABULARY (05)	TOTAL (30)
MARKS						

INVIGILATOR'S SIGN

EXAMINER'S SIGN

### READING (10)

Q. Read the given poem and answer the following questions:

**Graceful girl Geeta**

**practices on her skates,**

**and learns daily from her mistakes.**

**Little boy Lhamo,**

**proudly plays a guitar,**

**while his friend joins him with a sitar.**

**Swift girl Shabana,**

**after winning a cycle race,**

**happily celebrates her fastest pace.**

Q.1. Who learns daily from her mistakes?

\_\_\_\_\_

Q.2. After winning a cycle race, who happily celebrates her fastest pace?

\_\_\_\_\_

Q.3. Complete the sentence.

Little boy Lhamo,

.....plays a guitar.

Q.4. Write any one rhyming word from the above poem.

\_\_\_\_\_

Q.5. Find out the opposite word of 'Big' from the above poem.

\_\_\_\_\_

**Read the passage and answer the following:**

A crow and a deer who were good friends lived in a forest. Every day, the deer came to the tree to talk to the very attractive as a prey to any bigger animal. But the crow was very protective about his friend, so no animal dared to attack the deer.

A jackal had been observing closeness since many days. The plump deer tempted him very much and therefore, after much pondering he finally decided to win the confidence of the deer.

Q.6. Where do the crow and the deer live?

---

Q.7. How was the deer ?

---

Q.8. Who was very protective?

---

Q.9. Who tempted the jackal?

---

Q.10. Who had been observing their closeness since many days?

---

**WRITING (05)**

**Answer the following questions:**

Q.11. Which game do you generally play in school?

---

---

Q.12. What is the name of Deepa's team and who are they competing against?

---

---

Q.13. Who told Prakash about Lagori, and what name does he use for it?

---

---

### **GRAMMAR (05)**

Q.14. Circle the word that does not have the same meaning as the word in bracket.

Today there was an exciting football (contest) at school.

- (i) Match                      (ii) playground                      (iii) activity

Or

The whole school (praised) the victory of the basketball team.

- (i) Celebrated                      (ii) ignored                      (iii) cheered

Q.15. Fill in the blank with appropriate describing word.

Healthy and \_\_\_\_\_ food is liked by every one.

Or

Tara told me.....story.

Q.16. Fill in the blank with naming word that suit the first word.

Beautiful.....

Or

Happy.....

Q.17. Re arrange the words to form meaningful sentence.

Fresh / need/ everyday/water / plants.

---

OR

Looked/Prakash/ at /surprise/everybody/with.

---

Q.18. Make one interrogative / question sentence.

---

### **CREATIVE WRITING (05)**

Q.19. Write few lines about your favourite” games / sports ( 60- 70 words)

OR

Observe the picture and write at least 5-6 lines about it.



---

---

---

---

---

---

---

---

**SPELLINGS/ VOCABULARY (05)**

Q.20. Substitute the sentence by one word.

A child of a person's aunt or uncle is called.

OR

Error or things done incorrectly.

Q.21. Unscramble the letters to form a word.

(i). D E O T I U S

---

(ii) O N B U D Y R A

---

Fill in the blank with word that have double letters.

Q.22. The parrot is .....in colour.

Q.23. Write the meaning of :

Brave:.....

PM SHRI KENDRIYA VIDYALAYA – MALKAPURAM

PT -2 MODEL PAPER (2025-26)

SUBJECT: TWAU

Marks : 30

Class : IV Name----- Roll ----- Sec-----

Competency	Observation (10)	Identification and Classification (10)	Discovery of facts (10)	Total(30)
Marks				


**I . Observe the given picture and write their name (6x1=6M)**



a) \_\_\_\_\_



b) \_\_\_\_\_



c) \_\_\_\_\_



d) \_\_\_\_\_



e) \_\_\_\_\_

f) \_\_\_\_\_

2) Draw any two food items (2X1=2M)

a) \_\_\_\_\_

b) \_\_\_\_\_

**3) Tick the correct option (2X1=2M)**

- a) You do not have to feel uncomfortable or ugly in that time you say (Yes /No )  
b) Do you think all objects can spin (Yes/No)

**II) Identification any clarifications (4X1=4M)**

**1) Write True/False**

- a) A boat made with Glass (True/False)  
b) Spinning Tops have been used in India for Lakhs of years.(True/False)  
c) Less use of Tv and Mobile is a Good habbit (True/False)  
d) Onam festival celebrated in Kerala ( True/False)

**2) Name any two favourite foods (2X1=2M)**

- a) \_\_\_\_\_  
b) \_\_\_\_\_

**3) Name any two spinning items (2X1=2M)**

- a) \_\_\_\_\_  
b) \_\_\_\_\_

**4) Classify the following sink and float things.(4X 1/2 = 2M)**

(Marble, Leaf , Spoon, Wax ).

Things that Float	Things that Sink

**III) Discovery of facts**

**(1) Fill in the blanks**

- 1) How many players are there in Kho Kho Game \_\_\_\_\_
- 2) World Yogaday celebrated on \_\_\_\_\_
- 3) \_\_\_\_\_ is a slows down it begins to shake.
- 4) A charakha is \_\_\_\_\_ wheel
- 5) Food gives us \_\_\_\_\_ to work and play
- 6) \_\_\_\_\_ shapes will make the best spinner

2) what role does your tongue Play in this process? (2M)

3) write any 2 spinning item names?(2M)



PM SHRI KENDRIYA VIDYALAYA – MALKAPURAM

PT -2 MODEL PAPER (2025-26)

SUBJECT: TWAU

Marks : 30

Class : IV Name----- Roll ----- Sec-----

Competency	Observation (10)	Identification and Classification (10)	Discovery of facts (10)	Total(30)
Marks				

**I . Observe the given picture and write their name (6x1=6M)**



a) \_\_\_\_\_



d) \_\_\_\_\_



b) \_\_\_\_\_



e) \_\_\_\_\_



c) \_\_\_\_\_



f) \_\_\_\_\_

**2) Draw any two food items (2X1=2M)**

a) \_\_\_\_\_

b) \_\_\_\_\_

**3) Tick the correct option (2X1=2M)**

- a) You do not have to feel uncomfortable or ugly in that time you say (Yes /No )
- b) Do you think all objects can spin (Yes/No)

**II) Identification any clarifications (4X1=4M)**

**1) Write True/False**

- a) A boat made with Glass (True/False)
- b) Spinning Tops have been used in India for Lakhs of years.(True/False)
- c) Less use of Tv and Mobile is a Good habbit (True/False)
- d) Onam festival celebrated in Kerala ( True/False)

**2) Name any two favourite foods (2X1=2M)**

- a) \_\_\_\_\_
- b) \_\_\_\_\_

**3) Name any two spinning items (2X1=2M)**

- a) \_\_\_\_\_
- b) \_\_\_\_\_

**4) Classify the following sink and float things.(4X 1/2 = 2M)**

(Marble, Leaf , Spoon, Wax ).

Things that Float	Things that Sink

### **III) Discovery of facts**

#### **(1) Fill in the blanks :**

- 1) How many players are there in Kho Kho Game \_\_\_\_\_
- 2) World Yogaday celebrated on \_\_\_\_\_
- 3) \_\_\_\_\_ is a slows down it begins to shake.
- 4) A charakha is \_\_\_\_\_ wheel
- 5) Food gives us \_\_\_\_\_ to work and play
- 6) \_\_\_\_\_ shapes will make the best spinner

2) what role does your tongue Play in this process? (2M)

3) write any 2 spinning item names?(2M)

# पी एमश्री केन्द्रीय विद्यालय - मल्कापुरम पीरियोडिक

टेस्ट (PT) परीक्षा (2025-26) विषय : हिन्दी

नाम : \_\_\_\_\_ अनुक्रमांक : \_\_\_\_\_ कक्षा : 4

वर्ग : \_\_\_\_\_ दिनांक : \_\_\_\_\_

कुल अंक : 30 समय : 90 मिनट

परीक्षक के हस्ताक्षर : \_\_\_\_\_ निरीक्षक के हस्ताक्षर : \_\_\_\_\_

## अंक विभाजन तालिका

	पठ					कुल
दक्षताएँ	न	गद्य/पद्य	व्याकरण	सृजनात्मक लेखन	वर्तनी	अंक
अंक	10	5	5	5	5	30

## पठन (10 अंक)

प्रश्न 1. नीचे दिए गए गद्यांश को पढ़कर प्रश्नों के उत्तर लिखिए : (10 अंक)

ओणम के समय केरल में चारों ओर खुशी का माहौल रहता है। लोग अपने घरों को फूलों से सजाते हैं और नए कपड़े पहनते हैं। बच्चे खेल-कूद करते हैं और परिवार के सभी सदस्य मिलकर स्वादिष्ट पकवान बनाते हैं। यह त्योहार हमें मिल-जुलकर रहने और खुशी बाँटने की सीख देता है।

क) ओणम किस राज्य का त्योहार है?

\_\_\_\_\_

ख) लोग अपने घरों को किससे सजाते हैं?

\_\_\_\_\_

ग) बच्चे ओणम पर क्या करते हैं?

\_\_\_\_\_

घ) परिवार के लोग क्या बनाते हैं?

---

---

ड) ओणम हमें क्या सीख देता है?

---

---

---

### गद्य/पद्य (5 अंक)

प्रश्न 1. राजा ने नकली हीरो का पुरस्कार किन्हें और क्यों दिया ?

---

---

प्रश्न 2 लड़कू दादा ने क्या क्या सुझाव दिए?

---

---

प्रश्न 3 ओणम का त्यौहार कब मनाया जाता है?

---

---

---

### व्याकरण (5 अंक)

प्रश्न 3. (5 अंक)

क) वचन बदलो (2)

1. लड़का - \_\_\_\_\_

2. खुशी - \_\_\_\_\_

ख) राम / सुंदर/ तुम ( संज्ञा शब्द पर चिह्न लगाए)(1)

ग) निम्न शब्दों के विलोम लिखिए : (2)

1. मीठा - \_\_\_\_\_

2. नया - \_\_\_\_\_

---

## सृजनात्मक लेखन (5 अंक)

**प्रश्न 4. (5 अंक)**

निम्न में से किसी एक विषय पर 5-6 वाक्य लिखिए : 1. मेरा प्रिय त्योहार (ओणम) 2. मिठाइयों का सम्मेलन – कल्पना के आधार पर

[illegible]

### वर्तनी (5 अंक)

**प्रश्न 5. (5 अंक)**

क) सही वर्तनी लिखिए : (3)

1. मिठाई / मिठाई
2. जलैबी / जलेबी
3. त्योहार / त्योहार

ख) दिए गए शब्दों से वाक्य बनाइए : (2)

1. हीरा- \_\_\_\_\_  
2. सम्मेलन - \_\_\_\_\_

# पी एमश्री केन्द्रीय विद्यालय - मल्कापुरम

द्वितीय आवधिक परीक्षा (2025-26)

विषय- हिन्दी

नाम : \_\_\_\_\_ अनुक्रमांक : \_\_\_\_\_ दिनांक \_\_\_\_\_ दिवस \_\_\_\_\_

कक्षा - 4 वर्ग- \_\_\_\_\_ कुल अंक - 30 समय - 90 मिनट

परीक्षक के हस्ताक्षर \_\_\_\_\_ निरीक्षक के हस्ताक्षर \_\_\_\_\_

दक्षताएं	पठन	गद्य/पद्य	व्याकरण	सृजनात्मक लेखन	वर्तनी	कुल अंक
अंक	10	5	5	5	5	30

## पठन

प्रश्न 1. नीचे दिए गए गद्यांश को पढ़कर प्रश्नों के उत्तर लिखें- (10 अंक)

एक तपती दोपहर, सुमन और उसके दोस्तों ने पास के जंगल घूमने का फैसला किया। उन्होंने अपने साथ खाने के लिए कुछ नाश्ता रखा अपनी लंबी पैदल यात्रा के लिए जूते पहने, और अपने साहसिक कार्य पर निकल पड़े। जैसे ही उन्होंने जंगल में प्रवेश किया, ऊंचे पेड़ों और पक्षियों की मधुर चहचहाहट ने उनका स्वागत किया। उन्होंने एक संकरी पगडंडी पर जाने का निर्णय लिया जो उन्हें जंगल में और अंदर ले गई। सुमन ने रास्ते में खिले हुए रंग-बिरंगे जंगली फूलों को देखा। अचानक उन्हें सरसराहट की आवाज सुनाई दी। उन्होंने पीछे मुड़कर देखा तो झाड़ियों के बीच से एक हिरण शालीनता से उछल रहा था। उत्साह से, उन सबने अपनी खोज जारी रखी और एक ठंडे पानी के झरने के पास आ गए। उन्होंने अपने पैरों को ठंडे पानी में डुबोया और एक-दूसरे पर चंचलता से छींटे मारे। कुछ देर आराम करने के बाद, वे अपने वन भ्रमण की साहसिक यादों को संजोते हुए और अपने ऊपर गर्व महसूस करते हुए घर वापस आ गए।

क) सुमन और उसके दोस्तों ने कहाँ घूमने का फैसला किया?

\_\_\_\_\_

\_\_\_\_\_

ख) अपने साथ उन्होंने क्या रखा ?

---

---

ग) जंगल में उनका स्वागत किसने किया?

---

---

घ) एक संकरी पगडंडी उन्हें किधर ले गई?

---

---

ड) झाड़ियों में क्या उछल रहा था?

---

---

च) झरने का पानी कैसा था?

---

छ) गद्यांश में किस जानवर का नाम आया है?

---

ज) गद्यांश को आप क्या शीर्षक देना चाहेंगे?

---

झ) सही विशेषण शब्द लगाओ ।

-----पेड़

(ण) बहुवचन लिखो: याद ------

### गद्य/पद्य

प्रश्न 1. राजा ने नकली हीरों का पुरस्कार किसे और क्यों दिया?(पाठ -नकली हीरे)(2)

---

---

---

---



प्रश्न 2 "यह क्या है चक्कर, छिपा हुआ क्या इसमें पेंटर?"

यह पंक्ति 'कैमरा' कविता में किसके द्वारा कही गई है और क्यों?(2)(कविता- कैमरा)

---

---

---

प्रश्न 3 ओणम का त्योहार किस राज्य में मनाते हैं?(पाठ -ओणम के रंग)(1)

---

### व्याकरण

(1×5 = 5 अंक)

प्रश्न 1. नीचे लिखे वाक्यों में विशेषता बताने वाले शब्द पर गोला लगाओ।

(क) ठंडी हवा के सामने मत बैठो।

(ख) मेरे पास दो पेंसिल है।

प्रश्न 2 वचन बदल कर लिखो।

एक \_\_\_\_\_

पेड़ा \_\_\_\_\_

प्रश्न 3 - नीचे दिए गए वाक्यों में रेखांकित शब्दों के विपरीत अर्थ वाले शब्द लिखिए:

(क) जल्दी जाकर फोटो खिंचवाइए, \_\_\_\_\_ मत कीजिए।

(ख) शत्रु को भी \_\_\_\_\_ बना लेना महानता का गुण है।

प्रश्न 4 वाक्य में नाम वाले शब्द / संज्ञा शब्द ढूंढो व उस पर गोला लगाओ :-

राजा ने नवयुवक को पुरस्कार दिया।

प्रश्न 5 'मन में लड्डू फूटना' का अर्थ है अत्यधिक प्रसन्न होना। इसी प्रकार फलों, मसाले और साग तरकारियों पर आधारित कोई दो मुहावरे लिखिए:

(1) \_\_\_\_\_

(2) \_\_\_\_\_

### **सृजनात्मक लेखन**

**प्रश्न 1. स्वस्थ रहने के लिए आप क्या-क्या करते हैं? इससे संबंधित पांच वाक्य लिखिए।**

---

---

---

---

---

**या**

**नीचे दिए गए चित्रों को देखिए व इनके बीच की बातचीत को 60-70 शब्दों में लिखिए।**



### वर्तनी

प्रश्न 1 नीचे पहिए में कुछ वर्ण और मात्राएं दी गई है। इनका प्रयोग करते हुए चार शब्द बनाइए, जैसे चाचा, खेल आदि। वर्णों और मात्राओं का प्रयोग एक से अधिक बार किया जा सकता है।



क)\_\_\_\_\_ख)\_\_\_\_\_

प्रश्न 2 - निम्न वर्णों को क्रम में लिख कर अर्थपूर्ण शब्द बनाओ-

1)र/ द/ बा /री - \_\_\_\_\_

2) पा /व /दी /ली- \_\_\_\_\_

प्रश्न 3. सही मात्रा लगा कर नया शब्द बनाओ ।

1) हरा - \_\_\_\_\_

2) नाम - \_\_\_\_\_

प्रश्न 4. सही शब्द पर गोला लगाओ:-

(1) संसार / सनसार

(2) दवाइ / दवाई

प्रश्न 5. शब्दों को सही क्रम में लगाकर वाक्य को शुद्ध करके लिखो:-

मिठाई/ कहेगा/ हमें /कौन/ फिर ?

---

**पी एमश्री केन्द्रीय विद्यालय - मल्कापुरम**  
**द्वितीय आवधिक परीक्षा (2025-26)**  
**विषय- हिन्दी**

नाम : \_\_\_\_\_ अनुक्रमांक : \_\_\_\_\_  
दिनांक \_\_\_\_\_

कक्षा – 4      वर्ग- \_\_\_\_\_      कुल अंक - 30  
समय – 90 मिनट

परीक्षक के हस्ताक्षर \_\_\_\_\_  
निरीक्षक के हस्ताक्षर \_\_\_\_\_

दक्षता एं	पठन	गद्य/प द्य	व्याकर ण	सृजना त्मक लेखन	वर्तनी	कुल अंक
अंक	5	5	10	5	5	30

**पठन**(5 अंक)

नीचे दिए गए गद्यांश को पढ़कर प्रश्नों के उत्तर लिखें-

पिनकोड (PIN Code) छह अंकों की संख्या होती है। इसे किसी विशेष क्षेत्र की पहचान के लिए प्रयोग किया जाता है। यह मुख्य रूप से डाक (चिट्ठी और पार्सल) भेजने और प्राप्त करने में सहायता करता है। उदाहरण के लिए, यदि किसी गाँव या नगर में कोई चिट्ठी भेजनी हो, तो उस स्थान का पिनकोड

डालकर यह सुनिश्चित किया जाता है कि चिट्ठी सही पते पर पहुँचे। पिनकोड का पहला अंक राज्य को बताता है। दूसरा और तीसरा अंक जिले की जानकारी देते हैं। अंतिम तीन अंक डाकघर की पहचान बताते हैं।

1)पिनकोड क्या होता है? (1 अंक)

---

---

2)पिनकोड का उपयोग किस काम के लिए किया जाता है? (1 अंक)

---

---

3)पिनकोड का पहला अंक क्या बताता है? (1 अंक)

---

---

4)पिनकोड के दूसरा और तीसरा अंक क्या दर्शाते हैं? (1 अंक)

---

---

---

5)पिनकोड के अंतिम तीन अंक क्या बताते हैं? (1 अंक)

---

---

---

गद्य/पद्य(5 अंक)

प्रश्न-1)ओणम का त्योहार किस राज्य में मनाते हैं?(1)

---

---

प्रश्न-2) राजा ने नकली हीरों का पुरस्कार किसे और क्यों दिया?(2)

---

---

प्रश्न-3) अमर ने जयपुर में क्या-क्या देखा?

---

---

---

### व्याकरण(1×10=10)

निर्देशानुसार उत्तर दीजिए।

1) समान अर्थ लिखो :

क) ठहरना = \_\_\_\_\_

ख) वृद्ध = \_\_\_\_\_

2) विलोम अर्थ लिखो :

क) सही × \_\_\_\_\_

ख) मिठास × \_\_\_\_\_

3) लिंग बदलो :

क) युवक - \_\_\_\_\_

ख) दादा - \_\_\_\_\_



4) वचन बदलो:

क) जलेबी - \_\_\_\_\_

ख) पेड़ा - \_\_\_\_\_

5) समान तुक वाले शब्द लिखो :

क) मेल - \_\_\_\_\_

ख) टेढ़ी - \_\_\_\_\_

6) सही स्थान पर योजक चिन्ह (-) लगाइए :

क) रात दिन - \_\_\_\_\_

ख) रंग बिरंगे -- \_\_\_\_\_

7) संज्ञा शब्द पर गोला लगाओ :

राजा ने लवकुश को पुरस्कार दिया।

8) मुहावरे का अर्थ लिखिए :

मन में लड्डू फूटना - \_\_\_\_\_

9) मात्रा हटाकर नए शब्द बनाइए

क) कही - \_\_\_\_\_

ख) पढ़ी - \_\_\_\_\_

10) उपसर्ग पहचान कर लिखिए

क) उपयोग - \_\_\_\_\_

ख) अनुशासन - \_\_\_\_\_

## सृजनात्मक लेखन (5अंक)

सब्जियाँ की बातचीत को पूरा कीजिए।

आलू - मैं सब्जियों का राजा हूँ। मेरे बिना सारी सब्जियाँ अधूरी हैं।

बैंगन - तुम राजा हो तो क्या हुआ? मैं भी कम स्वादिष्ट नहीं!

टमाटर - .....

प्याज़ - .....

मिर्च - .....

भिंडी - .....

गोभी - .....

## वर्तनी(5अंक)

प्रश्न 1- शब्द पहेली को निर्देशों की सहायता से हल कीजिए -

क) राजस्थान का एक प्रसिद्ध पर्यटन स्थल - ह वा \_\_\_\_\_

ख) हैदराबाद में एक प्रसिद्ध मीनार - चा \_\_\_\_\_ र

प्रश्न 2 - निम्न वर्णों को क्रम में लिख कर अर्थपूर्ण शब्द बनाओ-

1) र/ द/ बा /री - \_\_\_\_\_

2) पा /व /दी /ली- \_\_\_\_\_

प्रश्न 3. सही मात्रा लगा कर नया शब्द बनाओ ।

1) बस - \_\_\_\_\_

2) फल - \_\_\_\_\_

प्रश्न 4- सही शब्द पर गोला लगाओ:-

(1) वमन/वामन

(2) कथक/कतक

प्रश्न 5- शब्दों को सही क्रम में लगाकर वाक्य को शुद्ध करके लिखो:-

मिठाई/ कहेगा/ हमें /कौन/ फिर ?

---

## आवधिक परीक्षा – 2 (2025-26)

कक्षा – IV / \_\_\_\_\_

समय – 1 घंटा

विषय – हिंदी

अंक – 30

छात्र/छात्रा का नाम - \_\_\_\_\_

अनुक्रमांक

दक्षताएं	पठन (10)	लेखन (05)	व्याकरण (05)	सृजनात्मक लेखन (05)	वर्तनी/ शब्दावली (05)	कुल अंक (30)
अंक						

निरीक्षक हस्ताक्षर

परीक्षक

हस्ताक्षर

पठन (10)

**प्रश्न 1) दिए गए गद्यांश को पढ़कर पूछे गए प्रश्नों के सही उत्तर का चुनाव कीजिए।**

एक छोटा-सा गाँव था जिसका नाम हरितपुर था। यह गाँव अपने घने पेड़ों, साफ हवा और सुंदर खेतों के लिए मशहूर था। गाँव के बच्चे हर शाम खेतों के पास खेलते थे और प्रकृति के बारे में नई-नई बातें सीखते थे। गाँव की सबसे खास बात थी वहाँ का छोटा तालाब। तालाब में साफ पानी रहता था और कई तरह की मछलियाँ तैरती रहती थीं। गाँव वाले तालाब का बहुत ध्यान रखते थे। वे उसमें कभी कचरा नहीं डालते थे और आसपास पेड़ लगाए थे ताकि छाया बनी रहे। एक दिन सभी बच्चों ने मिलकर सफाई अभियान चलाया। उन्होंने तालाब के किनारों से सूखे पत्ते और प्लास्टिक की चीजें हटाईं। सफाई के बाद तालाब और भी सुंदर दिखने लगा। इससे बच्चों को पर्यावरण की रक्षा का महत्व समझ में आया।

1. गाँव की सबसे खास जगह कौन-सी थी?

i) खेत

ii) खेल का मैदान

iii) तालाब

iv) बाजार

2. गाँव किस बात के लिए मशहूर था?

i) ऊँची इमारतों के लिए

iii) बड़े बाज़ार के लिए

ii) घने पेड़ों और सुंदर खेतों के लिए

iv) बस स्टैंड के लिए

3. "पर्यावरण" शब्द का अर्थ किससे जुड़ा है?

i) खेल

ii) प्राकृतिक चीजें

iii) पढ़ाई

iv) कपड़े

4. रिक्त स्थान भरिए-

गाँव का नाम \_\_\_\_\_ था।

5. बच्चों ने तालाब के किनारों से क्या हटाया? \_\_\_\_\_

## प्रश्न 2) दिए गए गद्यांश को पढ़कर पूछे गए प्रश्नों के सही उत्तर का चुनाव कीजिए ।

एक जंगल में परिजात का एक पेड़ था। परिजात का कोई मुकाबला नहीं था। उसकी सुंदरता बेजोड़ थी। उसका रंग-रूप निराला था। परिजात को भी अपने गुणों का पूरा-पूरा पता था। नीले आसमान में सिर उठाए इस शान से खड़ा रहता, मानों पेड़ों का सरताज हो। जब बहार के दिन आते तो परिजात अनगिनत नन्हें-नन्हें फूलों से लद जाता, लगता मानों किसी ने आकाश से सारे तारे तोड़कर परिजात की शाखाओं पर टाँक दिए हो। नन्हें फूलों से झिलमिलाता परिजात जब सुगंध भरी पराग जंगल में बिखेरता तो जंगल नंदन बन जाता। चुंबक की तरह परिजात सबको अपनी तरफ़ खींचता, जिसे देखो, वही परिजात की तरफ़ भागता। सतरंगी शालें ओढ़े चटकीली तितलियाँ सहेलियों के साथ झूंड का झूंड बनाकर परिजात का श्रृंगार देखने आतीं तथा जाते-जाते फूलों को खींचकर ढेरों पराग अपने साथ ले जाती।

i- जंगल में किसका पेड़ था?

(क) नीम (ख) पारिजात (ग) पीपल (घ) आम

ii- परिजात अपने आप को स्वयं क्या समझता था?

(क) पेड़ों का सरताज (ख) पेड़ों का दास (ग) ईश्वर (घ) इनमें से कोई नहीं

iii वह अनगिनत फूलों से कब लद जाता था?

(क) बहार में (ख) पतझड़ में (ग) वर्ष में (घ) सर्दी में

iv- तितलियाँ क्या करती थीं?

(क) उसके फूलों का पराग ले जाती थीं

(ख) फूल ले जाती थीं

(ग) डालों पर गाना गाती थीं

(घ) कुछ नहीं करती थीं

v- इस गद्यांश का शीर्षक है

(क) परिजात एक वृक्ष  
राजा

(ख) परिजात पेड़ों का सरताज

(ग) परिजात जंगल का

### लेखन (05)

प्रश्न 3) पाठ में आए किस उल्लेख के आधार पर कहा जा सकता है कि महाबली अपनी प्रजा से बहुत प्रेम करते हैं?

---

---

---

प्रश्न 4) रसगुल्ले भाई के अनुसार मिठाइयों की उपेक्षा का क्या कारण है?

---

---

---

प्रश्न 5) स्वस्थ रहने के लिए आप क्या क्या करते हैं ? इस पर चार वाक्य लिखें ।

---

---

---

---

---

### व्याकरण (05)

प्रश्न 6) विलोम शब्द लिख कर वाक्य को पूरा करें ।

शत्रु को भी----- बना लेना महानता है ।

हमें----- आदतों को छोड़ कर अच्छी आदतों को अपनाना चाहिए ।

प्रश्न 7) वचन बदल कर लिखें ।

मिठाई -----

जलेबी -----

प्रश्न 8) अर्थ पढ़ कर मुहावरे का पता लगाइए तथा वाक्य बनाइए ।

किसी मनचाही वस्तु को न पाने पर , उसे बेकार या बुरा कहना

---

प्रश्न 9) खाली स्थान में उचित विशेषण शब्द लिखिए ।

क) ओणम में महाबली की मूर्तियों को \_\_\_\_\_ द्रोण के फूलों से सजाया जाता है ।

ख) कननपुर के \_\_\_\_\_ राजा का एक ही बेटा था ।

प्रश्न 10) निम्न वाक्य में संज्ञा शब्द छांटें ।

फूलों की सुगंध चारों ओर फैल गई । \_\_\_\_\_

सुषमा चाय बना रही है । \_\_\_\_\_

### सृजनात्मक लेखन (05)

प्रश्न 11) भारत के राज्यों में मनाए जाने वाले त्योहार के नाम लिखें जो ओणम से मिलते जुलते हैं ।  
उसकी कौन-सी बातें ओणम से मिलती जुलती हैं । या

रिषभ और गुरमीत एक दिन घर में खेल रहे थे कि अचानक उन्हें रसोईघर से कुछ आवाज़ आई। वहां साग- भाजियाँ आपस में बातें कर रही थी। उनकी बातचीत को पूरा कीजिए।

---

---

---

---

---

---

---

---

### वर्तनी/ शब्दावली (05)

प्रश्न 12) सही मात्रा लगाकर शब्द बनाइए।

क) प र ण क \_\_\_\_\_ ख) न क ल \_\_\_\_\_

प्रश्न 13 ) जोड़कर नए शब्द बनाओ।

क) मोहन+ भोग - \_\_\_\_\_ ख) काजू+ कतली- \_\_\_\_\_

प्रश्न 14 ) सही सबध पर गोला लगाएं।

सथरा      सत्रह      सतरह

विश्वास      विषवास      वीसवास

प्रश्न 15) नीचे दिए शब्दों से वाक्य बनाइए।

धीरे-धीरे \_\_\_\_\_

भिन्न-भिन्न \_\_\_\_\_

प्रश्न 16) शब्दों के अर्थ लिखो।

त्योहार = \_\_\_\_\_

संदेह = \_\_\_\_\_



**PERIODIC TEST – 2 ( SET - A)(2025-26)**

CLASS – IV TIME – 1 Hour

SUBJECT – MATHEMATICS DATE-

MARKS – 30

NAME \_\_\_\_\_

ROLL NO . \_\_\_\_\_

COMPETENCIES	KNOWLEDGE (5)& UNDERSTANDING (5)	ABILITY TO COMPUTE (10)	PROBLEM SOLVING ABILITY (10)	TOTAL (30)
MARKS				

INVIGILATOR'S SIGN \_\_\_\_\_

EXAMINER'S SIGN \_\_\_\_\_

**KNOWLEDGE (5M)**

**VSA 3x1= 3M**

**Q1. Choose the correct answer:**

**I) The multiple of 7 is \_\_\_\_\_**

**a) 30. b) 35. c) 72. d) 40**

**ii) 7000 grams = \_\_\_\_\_ kg**

**a) 70. b) 100. c) 7. d) 700**

**iii) In a leap year, February has \_\_\_\_\_ days**

**a) 29. b) 28. c) 30. d) 31**

**SHORT ANSWER 1X2= 2M**

**Q2. Write the time**



**UNDERSTANDING (5M)**

**VSA 3x1= 3M**

**Q1 Write 4 alphabets which have same mirror image (vertically symmetrical).**

\_\_\_\_\_

---

**a) 1000    b) 200    c) 250    d) 500**

---

---

---

**i) 10** \_\_\_\_\_ **ii) 14** \_\_\_\_\_

**7645, 7670, 7695, \_\_\_\_\_, \_\_\_\_\_, \_\_\_\_\_,**

**501, 601, 701,** \_\_\_\_\_, \_\_\_\_\_, \_\_\_\_\_, \_\_\_\_\_

**Q8 Solve the following: 4M I)  $215 \times 9 =$  \_\_\_\_\_**

ii)  $862 \div 1 =$  \_\_\_\_\_

iii)  $534 \times 0 =$  \_\_\_\_\_

iv)  $936 \div 6 =$  \_\_\_\_\_

**Q9. Write the mirror image of the following words: 1X2= 2M TEACHER**



STUDENTS \_\_\_\_\_

Q10. Anu saves Rs.45 every month by putting it in her piggy bank.  $2 \times 2 = 4M$  a)  
How much money will Anu save in 6 months?

\_\_\_\_\_

\_\_\_\_\_

b) She distributes the total money saved after 6 months among 9 of her friends. How much does each friend get?

O11. Observe the calendar and answer the following questions. 4M

DECEMBER 2025						
Sun	Mon	Tue	Wed	Thu	Fri	Sat
	1	2	3	4	5	6
7	8	9	10	11	12	13
14	15	16	17	18	19	20
21	22	23	24	25	26	27
28	29	30	31			

i) Is the year 2025 leap year? \_\_\_\_\_

ii) How many Tuesday in this month? \_\_\_\_\_

iii) Today's dates \_\_\_\_\_

iv) Christmas date is

\_\_\_\_\_



# PM SHRI KENDRIYA VIDYALAYA MALKAPURAM

## PERIODIC TEST – 2 (2025-26)

CLASS – IV / \_\_\_\_\_

TIME – 1 Hour 30Min

SUBJECT – MATHEMATICS

DATE- \_\_\_\_\_

MARKS – 30

NAME OF THE STUDENT - \_\_\_\_\_ ROLL NO . \_\_\_\_\_

COMPETENCIES	KNOWLEDGE (5)& UNDERSTANDING (5)	ABILITY TO COMPUTE (10)	PROBLEM SOLVING ABILITY (10)	TOTAL (30)
MARKS				

INVIGILATOR'S SIGN \_\_\_\_\_

EXAMINER'S SIGN \_\_\_\_\_

### KNOWLEDGE (5M)

#### VSA

3x1= 3M

Q1. Choose the correct answer:

I) The multiple of 7 is \_\_\_\_\_

- a) 30.      b) 35.      c) 72.      d) 40

ii) 7000 grams = \_\_\_\_\_ kg

- a) 70.      b) 100.      c) 7.      d) 700

iii) In a leap year, February has \_\_\_\_\_ days

- a) 29.      b) 28.      c) 30.      d) 31


### SHORT ANSWER

1X2= 2M

Q2. Write the time



\_\_\_\_\_



\_\_\_\_\_

### UNDERSTANDING (5M)

#### VSA

3x1= 3M

Q1 Write 4 alphabets which have same mirror image (vertically symmetrical).

\_\_\_\_\_

Q2. Write four common multiples of 4 and 8.

---

---

Q3.  $\frac{1}{2}$  litres = \_\_\_\_\_ millilitres (      )

a) 1000.

b) 200.

c) 250.

d) 500

**SHORT ANSWER**

1X2= 2M

You have to distribute 96 oranges equally in 3 baskets. How many oranges will there be in each basket?

---

---

---

**ABILITY TO COMPUTE (10)**

Q5. Find the double of the following numbers

1X2= 2M

i) 10 \_\_\_\_\_.

ii) 14 \_\_\_\_\_

Q6. Observe the pattern and fill in the blanks:


2M

7645 ,7670, 7695, \_\_\_\_\_, \_\_\_\_\_, \_\_\_\_\_, \_\_\_\_\_

501, 601, 801, \_\_\_\_\_, \_\_\_\_\_, \_\_\_\_\_, \_\_\_\_\_

Q7. Draw the line of symmetry in the following shapes

2M



Q8 Solve the following:

4M

i)  $215 \times 9 =$  \_\_\_\_\_

ii)  $862 \div 1 =$  \_\_\_\_\_

iii)  $534 \times 0 =$  \_\_\_\_\_

iv)  $936 \div 6 =$  \_\_\_\_\_

**PROBLEM SOLVING ABILITY (10)**

Q9. Write the mirror image of the following words:

1X2= 2M

TEACHER | \_\_\_\_\_

STUDENTS | \_\_\_\_\_

Q10. Anu saves Rs.45 every month by putting it in her piggy bank. 2X2= 4M

a) How much money will Anu save in 6 months?

\_\_\_\_\_

\_\_\_\_\_

b) She distributes the total money saved after 6 months among 9 of her friends. How much does each friend get?

Q11. Observe the calendar and answer the following questions.

4M

DECEMBER 2025						
Sun	Mon	Tue	Wed	Thu	Fri	Sat
	1	2	3	4	5	6
7	8	9	10	11	12	13
14	15	16	17	18	19	20
21	22	23	24	25	26	27
28	29	30	31			

i) Is the year 2025 leap year? \_\_\_\_\_

ii) How many Tuesday in this month? \_\_\_\_\_

iii) Today's dates \_\_\_\_\_

iv) Christmas date is

\_\_\_\_\_

**PERIODIC TEST – 2 (2025-26)**

**CLASS – IV / \_\_\_\_\_**

**TIME – 1 Hour**

**SUBJECT – MATHEMATICS**

**DATE- \_\_\_\_\_**

**MARKS – 30**

**NAME OF THE STUDENT - \_\_\_\_\_ ROLL NO . \_\_\_\_\_**

COMPETENCIES	KNOWLEDGE & UNDERSTANDING (10)	ABILITY TO COMPUTE (10)	PROBLEM SOLVING ABILITY (10)	TOTAL (30)
MARKS				

INVIGILATOR'S SIGN \_\_\_\_\_

EXAMINER'S SIGN \_\_\_\_\_

**KNOWLEDGE & UNDERSTANDING (10-M)**

**Q1. Choose the correct answer:**

**1x4= 4M**

i) The multiple of 7 is\_\_\_\_\_

- a) 30.      b) 35.      c) 72.      d) 40

ii) 7000 grams = \_\_\_\_\_ kg

- a) 70.      b) 100.      c) 7.      d) 700

iii) In a leap year, February has \_\_\_\_\_ days


- a) 29.      b) 28.      c) 30.      d) 31

iv) 1/2 litres = \_\_\_\_\_ mililitres

- a) 1000.      b) 200.      c) 250.      d) 500

**Q2. Write the time**

**1X2= 2M**



**Q3 Write 4 alphabets which have same mirror image (vertically symmetrical).      2M**

\_\_\_\_\_

Q4. Write four common multiples of 4 and 8.

2M

---

---

**ABILITY TO COMPUTE (10)**

Q5. Find the double of the following numbers

1X2= 2M

I) 10 \_\_\_\_\_.                      ii) 14 \_\_\_\_\_

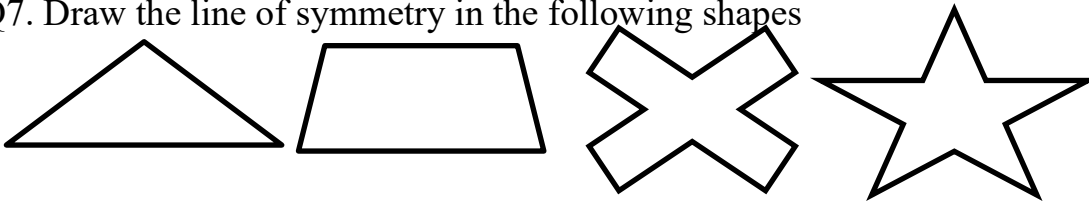
Q6. Observe the pattern and fill in the blanks:

2M

7645 ,7670, 7695, \_\_\_\_\_, \_\_\_\_\_, \_\_\_\_\_, \_\_\_\_\_

Q7. Draw the line of symmetry in the following shapes

2M



Q8 Solve the following:

4M

I)  $215 \times 9 =$  \_\_\_\_\_

ii)  $862 \div 1 =$  \_\_\_\_\_

iii)  $534 \times 0 =$  \_\_\_\_\_

iv)  $936 \div 6 =$  \_\_\_\_\_

**PROBLEM SOLVING ABILITY (10)**

Q9. Write the mirror image of the following words:

1X2= 2M

TEACHER | \_\_\_\_\_

STUDENTS | \_\_\_\_\_

Q10. Anu saves Rs.45 every month by putting it in her piggy bank.

2X2= 4M

a) How much money will Anu save in 6 months?

---

---

b) She distributes the total money saved after 6 months among 9 of her friends. How much does each friend get?

Q11. Observe the calendar and answer the following questions.

4M

DECEMBER 2025						
Sun	Mon	Tue	Wed	Thu	Fri	Sat
	1	2	3	4	5	6
7	8	9	10	11	12	13
14	15	16	17	18	19	20
21	22	23	24	25	26	27
28	29	30	31			

i) Is the year 2025 leap year? \_\_\_\_\_

ii) How many Tuesday in this month? \_\_\_\_\_

iii) Today's date \_\_\_\_\_

iv) Christmas \_\_\_\_\_

PM SHRI KENDRIYA VIDYALAYA MALKAPURAM

Periodic Test-2 (PT-2)

Class: IV

Subject: Mathematics

Time: 1 Hour 30 Minutes

Maximum Marks: 40

General Instructions:

1. All questions are compulsory.
2. Read the questions carefully before answering.
3. Neat and clear work will fetch extra credit.
4. Use pencil for drawings and rough work.

Section A (Very Short Answer – 1 mark each) [ $10 \times 1 = 10$  Marks]

1. Write the number 7095 in expanded form.
2. What is the successor of 9999?
3. Round off 4826 to the nearest hundred.
4. How many lines of symmetry does a square have?
5.  $8 \times 9 = \underline{\hspace{2cm}}$



6. Divide:  $56 \div 7 =$  \_\_\_\_\_

7. Write the fraction for 3 shaded parts out of 8 equal parts.

8. Add:  $3456 + 2789 =$  \_\_\_\_\_

9. How many millilitres are there in 5 litres?

10. What is the Roman numeral for 50?

Section B (Short Answer – 2 marks each) [ $8 \times 2 = 16$  Marks]

11. Arrange in descending order: 5678, 5867, 5786, 5768

12. Draw the hands on a clock to show quarter past 9.

13. Multiply:  $45 \times 6 =$  \_\_\_\_\_ (Show using area model or column method)

14. Divide 84 mangoes equally among 7 children. How many mangoes does each child get?

15. Add:

$$\begin{array}{r} 5678 \\ + 2345 \\ \hline \end{array}$$

16. Subtract:

$$\begin{array}{r} 9000 \\ - 4567 \\ \hline \end{array}$$

---

17. Convert 3 km 250 m into metres.

18. Shade  $\frac{2}{5}$  of a rectangle divided into 5 equal parts.

Section C (Long Answer – 3 marks each) [ $4 \times 3 = 12$  Marks]

19. Solve the word problem:

A shop has 385 packets of biscuits. Each packet has 12 biscuits. How many biscuits are there in total? (Show steps)

20. Write the multiplication table of 7 from  $7 \times 6$  to  $7 \times 10$ .

21. Draw the following shapes and write one property of each:

(a) Circle

(b) Rectangle

(c) One difference between circle and rectangle.

22. Solve:

There are 48 pages in a book. Reena reads 15 pages on Monday and 18 pages on Tuesday. How many pages are left to read?

Section D (Application – 4 marks) [ $1 \times 4 = 4$  Marks]

23. A school buys 8 boxes of pencils. Each box contains 144 pencils.

(a) How many pencils are there in total? (2 marks)

(b) If the school gives away 256 pencils, how many pencils are left? (2 marks)

Best of Luck!