

# KENDRIYA VIDYALAYA SANGATHAN, RANCHI REGION

Pre-Board Examination (SESSION 2024-25)

**Class: XII**  
**Time allowed: 3 Hours**

**GEOGRAPHY (029)**  
**Maximum marks: 70**

## General Instructions:

Read the following instructions carefully and follow them:

- (i) This questions paper contains 30 questions. All questions are compulsory.
- (ii) Question paper is divided into five sections A, B, C, D and E.
- (iii) Section A Questions no. 1 to 17 are Multiple Choice type questions. Each question carries 1 mark.
- (iv) Section B Questions no. 18 and 19 are Source-based questions. Each question carries 3 marks.
- (v) Section C Questions no. 20 to 23 are Short Answer type questions. Each question carries 3 marks.  
Answer to these questions shall be written in 80 to 100 words.
- (vi) Section D Questions no. 24 to 28 are Long Answer type questions. Each question carries 5 marks.  
Answer to these questions shall be written in 120 to 150 words.
- (vii) Section E Questions no. 29 and 30 are Map-based questions. Each question carries 5 marks.
- (viii) There is no overall choice given in the question paper. However, an internal choice has been provided in a few questions in all sections other than Section A.

Q.N	SECTION-A	M
Q1.	<p>Which one of the following is the only country in the world to officially proclaim the Gross National Happiness (GNH) as the measure of the country's progress? A. Myanmar      B. Bhutan      C. Nepal      D. Sri Lanka</p> <p>निम्नलिखित में से कौन सा दुनिया का एकमात्र देश है जिसने आधिकारिक तौर पर सकल राष्ट्रीय प्रसन्नता (GNH) को देश की प्रगति के माप के रूप में घोषित किया है? A. म्यांमार      B. भूटान      C. नेपाल      D. श्रीलंका</p>	1
Q2	<p>The value of Human development Index lies between _____ and _____ . A. 0 to 1      B. -1 to 1      C. 0 to 100      D. 0 to 1000. मानव विकास सूचकांक (HDI) का मान _____ और _____ के बीच रहता है। A. 0 to 1      B. -1 to 1      C. 0 to 100      D. 0 to 1000.</p>	1
Q3	<p>Which of the following statements are correct related to Retail Trading? Choose the correct option. (i) This is the business activity concerned with the sale of goods directly to the consumers. (ii) Most of the retail trading takes place in fixed establishments or stores solely devoted to selling.</p>	1



	<p>C. Only III <span style="float: right;">D. Statement IV</span></p> <p>उस कथन को पहचानें जो विश्व व्यापार संगठन के संबंध में सत्य नहीं है?</p> <p>I. WTO का मुख्यालय जिनेवा, स्विट्जरलैंड में स्थित है।  II. दिसंबर 2016 तक 164 देश WTO के सदस्य थे।  III. भारत WTO के संस्थापक सदस्यों में से एक रहा है  IV. WTO का गठन 1948 में हुआ था.</p> <p>विकल्प:</p> <p>A. कथन I और IV <span style="float: right;">B. केवल II</span>  C. केवल III <span style="float: right;">D. कथन IV</span></p>																					
Q6	<p>Which one of the following phases during last century in India was generally referred to as the period of steady population?</p> <p>A. Phase I <span style="float: right;">B. Phase II</span>  C. Phase III <span style="float: right;">D. Phase IV</span></p> <p>भारत में पिछली शताब्दी के दौरान निम्नलिखित में से किस चरण को आम तौर पर स्थिर जनसंख्या की अवधि के रूप में जाना जाता था?</p> <p>A. चरण I <span style="float: right;">B. चरण II</span>  C. चरण III <span style="float: right;">D. चरण IV</span></p>	1																				
Q7	<p>Which one of the following is <b>incorrectly</b> matched?</p> <table border="1" data-bbox="188 1227 1407 1417"> <thead> <tr> <th>List I (Name of the state)</th> <th>List II (Density of Population)</th> </tr> </thead> <tbody> <tr> <td>A. Kerala</td> <td>859</td> </tr> <tr> <td>B. Tamilnadu</td> <td>555</td> </tr> <tr> <td>C. Bihar</td> <td>1102</td> </tr> <tr> <td>D. West Bengal</td> <td>999</td> </tr> </tbody> </table> <p>निम्नलिखित में से कौन सा गलत सुमेलित है?</p> <table border="1" data-bbox="188 1534 1407 1910"> <thead> <tr> <th>सूची I (राज्य का नाम)</th> <th>सूची II (जनसंख्या का घनत्व)</th> </tr> </thead> <tbody> <tr> <td>A. केरल</td> <td>859</td> </tr> <tr> <td>B. तमिलनाडु</td> <td>555</td> </tr> <tr> <td>C. बिहार</td> <td>1102</td> </tr> <tr> <td>D. पश्चिम बंगाल</td> <td>999</td> </tr> </tbody> </table>	List I (Name of the state)	List II (Density of Population)	A. Kerala	859	B. Tamilnadu	555	C. Bihar	1102	D. West Bengal	999	सूची I (राज्य का नाम)	सूची II (जनसंख्या का घनत्व)	A. केरल	859	B. तमिलनाडु	555	C. बिहार	1102	D. पश्चिम बंगाल	999	1
List I (Name of the state)	List II (Density of Population)																					
A. Kerala	859																					
B. Tamilnadu	555																					
C. Bihar	1102																					
D. West Bengal	999																					
सूची I (राज्य का नाम)	सूची II (जनसंख्या का घनत्व)																					
A. केरल	859																					
B. तमिलनाडु	555																					
C. बिहार	1102																					
D. पश्चिम बंगाल	999																					
Q8	<p>Which one of the following set of crops is <b>correct</b> under dryland farming?</p> <p>A. Ragi, Bajra, Rice <span style="float: right;">B. Bajra, Rice, Jute</span></p>	1																				

	<p>C. Rice, Ragi, Sugarcane D. Ragi, Bajra, Moong</p> <p>शुष्क भूमि खेती के अंतर्गत फसलों का निम्नलिखित में से कौन सा समूह सही है?</p> <p>A. रागी, बाजरा, चावल B. बाजरा, चावल, जूट C. चावल, रागी, गन्ना D. रागी, बाजरा, मूंग</p>	
Q9	<p>There are two statements marked as Assertion (A) and Reason(R). Mark your answer as per the codes provided below.</p> <p><b>Assertion (A):</b> The area under Wastelands and culturable wastelands have witnessed a decline in India.</p> <p><b>Reason (R):</b> The increasing pressure on land from both the agricultural and non-agricultural sectors has contributed to this decline.</p> <p><b>Options:</b></p> <p>A. Both (A) and (R) are true but R is not the correct explanation of (A). B. Both (A) and (R) are true and (R) is the correct explanation of (A). C. Both (A) and (R) are incorrect. D. (A) is correct but (R) is incorrect.</p> <p>दो कथन अभिकथन (A) और कारण (R) के रूप में दिए गए हैं। दोनों कथनों को ध्यानपूर्वक पढ़िए और सही विकल्प का चयन कीजिए :</p> <p><b>अभिकथन (A):</b> भारत में बंजर भूमि और कृषि योग्य बंजर भूमि के क्षेत्र में गिरावट देखी गई है।</p> <p><b>कारण (R):</b> कृषि और गैर-कृषि दोनों क्षेत्रों से भूमि पर बढ़ते दबाव ने इस गिरावट में योगदान दिया है।</p> <p><b>विकल्प:</b></p> <p>A. (A) और (R) दोनों सत्य हैं लेकिन R, (A) की सही व्याख्या नहीं है। B. (A) और (R) दोनों सत्य हैं और (R) (A) का सही स्पष्टीकरण है। C. (A) और (R) दोनों गलत हैं। D. (A) सही है लेकिन (R) गलत है।</p>	1
Q10	<p><b>Consider the following statements and choose the correct answer with the help of given options.</b></p> <p><b>Statement I:</b> The green revolution strategy of agriculture development in the country has largely been successful in Punjab, Haryana and western Uttar Pradesh.</p>	1

	<p><b>Statement II:</b> In Punjab, Haryana and western Uttar Pradesh, more than 85 per cent of their net sown area is under irrigation.</p> <p><b>Options:</b></p> <p>A. Only statement I is correct  B. Only statement II is correct  C. Both the statements are correct, and statement II correctly explains statement I  D. Both the statements are true but not related with each other</p> <p>निम्नलिखित कथनों पर विचार करें और दिए गए विकल्पों की सहायता से सही उत्तर चुनें।</p> <p><b>कथन I:</b> देश में कृषि विकास की हरित क्रांति रणनीति पंजाब, हरियाणा और पश्चिमी उत्तर प्रदेश में काफी हद तक सफल रही है।</p> <p><b>कथन II:</b> पंजाब, हरियाणा और पश्चिमी उत्तर प्रदेश में, उनके शुद्ध बोए गए क्षेत्र का 85 प्रतिशत से अधिक सिंचाई के अंतर्गत है।</p> <p>विकल्प:</p> <p>A. केवल कथन I सही है  B. केवल कथन II सही है  C. दोनों कथन सही हैं, और कथन II कथन I की सही व्याख्या करता है  D. दोनों कथन सत्य हैं लेकिन एक दूसरे से संबंधित नहीं हैं</p>									
Q11	<p>Which one of the following programme is sponsored by the Central government which aims at enabling rural population to conserve water for drinking, irrigation, fisheries and afforestation?</p> <p>A. Neeru-Meeru  B. Haryali  C. Arvary Pani Sansad  D. None of the above</p> <p>निम्नलिखित में से कौन सा कार्यक्रम केंद्र सरकार द्वारा प्रायोजित है जिसका उद्देश्य ग्रामीण आबादी को पीने, सिंचाई, मत्स्य पालन और वनीकरण के लिए पानी के संरक्षण में सक्षम बनाना है?</p> <p>A. नीरू-मीरू  B. हरियाली  C. अरवरी पानी संसद  D. उपरोक्त में से कोई नहीं</p>	1								
Q12	<p><b>Match the column I with Column II and choose the correct options with the help of given Codes.</b></p> <table border="1" data-bbox="264 1850 1321 2002"> <thead> <tr> <th>COLUMN I (Nuclear power projects)</th> <th>COLUMN II(State)</th> </tr> </thead> <tbody> <tr> <td>I. Tarapur</td> <td>1. Rajasthan.</td> </tr> <tr> <td>II. Rawatbhata.</td> <td>2. Maharashtra</td> </tr> <tr> <td>III. Narora</td> <td>3. Tamil Nadu</td> </tr> </tbody> </table>	COLUMN I (Nuclear power projects)	COLUMN II(State)	I. Tarapur	1. Rajasthan.	II. Rawatbhata.	2. Maharashtra	III. Narora	3. Tamil Nadu	1
COLUMN I (Nuclear power projects)	COLUMN II(State)									
I. Tarapur	1. Rajasthan.									
II. Rawatbhata.	2. Maharashtra									
III. Narora	3. Tamil Nadu									

CODES:-

	I	II	III	IV
(A)	2	3	4	1
(B)	2	1	4	3
(C)	1	2	3	4
(D)	1	4	3	2

कॉलम I को कॉलम II से मिलाएं और दिए गए कोड की मदद से सही विकल्प चुनें।

कॉलम I (परमाणु ऊर्जा परियोजनाएं)	कॉलम II (राज्य)
I. तारापुर	1. राजस्थान.
II. रावतभाटा.	2.महाराष्ट्र
III. नरोरा	3. तमिलनाडु
IV. कलपक्कम	4. उत्तर प्रदेश

CODES:-

	I	II	III	IV
(A)	2	3	4	1
(B)	2	1	4	3
(C)	1	2	3	4
(D)	1	4	3	2

Q13

Which one of the following tunnel, the world's longest Highway tunnel, connects Manali to Lahaul-Spiti valley throughout the year?

- A. Himalayan Tunnel  
B. Atal Tunnel  
C. Pir Panjal Tunnel  
D. Mahatma Gandhi Tunnel

निम्नलिखित में से कौन सी सुरंग, दुनिया की सबसे लंबी राजमार्ग सुरंग, मनाली को पूरे वर्ष लाहौल-स्पीति घाटी से जोड़ती है?

- A. हिमालयी सुरंग  
B. अटल टनल  
C. पीर पंजाल सुरंग  
D. महात्मा गांधी सुरंग

Q14

Which one of the following is **incorrectly** matched?

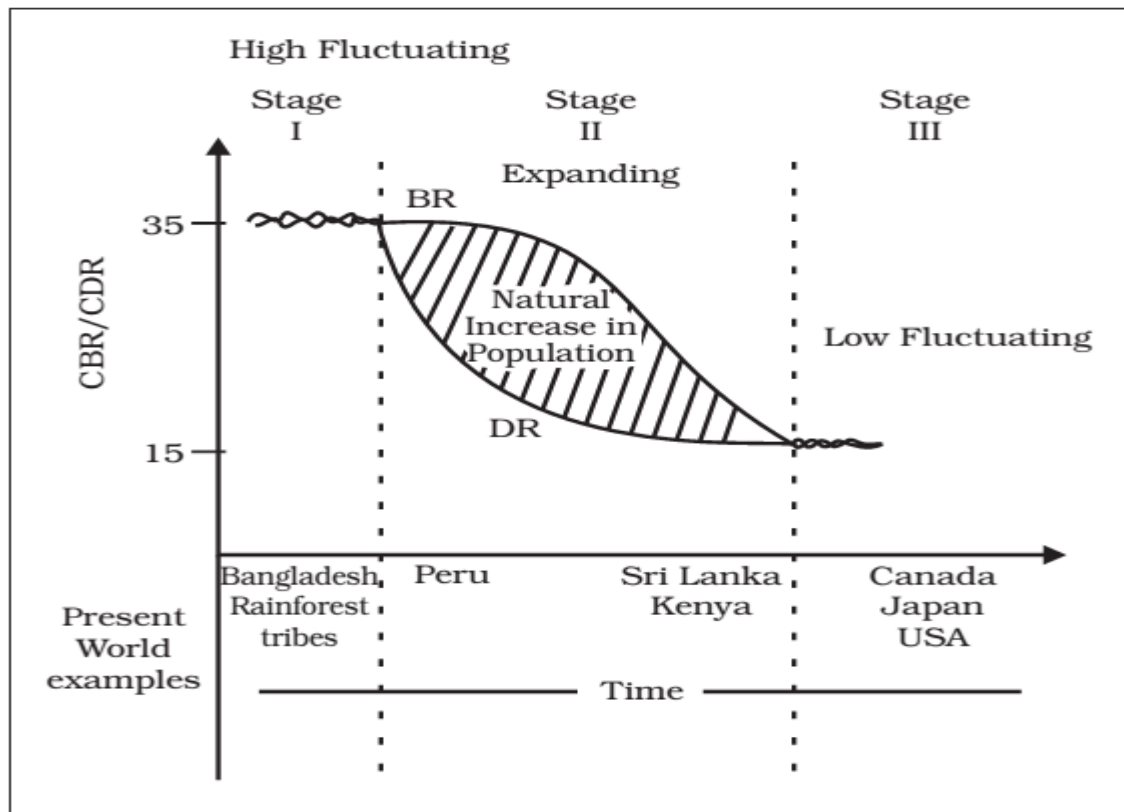
List I(Waterway)	List II (Stretch)
A. NW1	1. Allahabad- Haldia
B. NW2	2. Sadiya – Dhubri
C. NW3	3. Kottapuram – Kollam
D. NW4	4. Kolkata - Patna

निम्नलिखित में से कौन सा गलत सुमेलित है?

सूची I (जलमार्ग)	सूची II (खिंचाव)
A. NW1	1. इलाहाबाद-हल्दिया
B. NW2	2. सादिया-धुबरी
C. NW3	3. कोट्टापुरम - कोल्लम
D. NW4	4. कोलकाता-पटना

Study the following diagram carefully and answer Q. No. 15 to 17

निम्नलिखित चित्र का ध्यानपूर्वक अध्ययन करें और प्रश्न संख्या 15 से 17 तक का उत्तर दें.



Q15

Which stage of the demographic transition model has the highest birth rate and the highest death rate?

जनांकिकीय संक्रमण सिद्धांत के किस चरण में जन्म दर उच्चतम और मृत्यु दर उच्चतम है?

- (A) Stage I  
(B) Stage II  
(C) Stage III

1

	(D) Stage IV	
Q16	<p><b>Which stage of the demographic transition model can be termed as stage of population explosion?</b></p> <p>जनांकिकीय संक्रमण सिद्धांत के किस चरण को जनसंख्या विस्फोट का चरण कहा जा सकता है?</p> <p>(A) Stage I (B) Stage II (C) Stage III (D) Stage IV</p>	1
Q17	<p><b>From the given graph, what condition can you infer about the developed countries?</b></p> <p>A. High Birth Rate and High Death Rate B. Low Birth rate and Low Death rate C. High Birth Rate and Low Death Rate D. Low Birth Rate and High Death Rate</p> <p>दिए गए ग्राफ़ से आप विकसित देशों के बारे में किस स्थिति का अनुमान लगा सकते हैं?</p> <p>A. उच्च जन्म दर और उच्च मृत्यु दर B. निम्न जन्म दर और निम्न मृत्यु दर C. उच्च जन्म दर और निम्न मृत्यु दर D. निम्न जन्म दर और उच्च मृत्यु दर</p>	1
<b>SECTION-B</b>		
<b>Question 18 &amp; 19 are Source based questions.</b>		
Q18	<p><b>Read the given Passage carefully and answer the questions that follow:</b></p> <p>Tertiary activities include both production and exchange. The production involves the 'provision' of services that are 'consumed'. The output is indirectly measured in terms of wages and salaries. Exchange, involves trade, transport and communication facilities that are used to overcome distance. Tertiary activities, therefore, involve the commercial output of services rather than the production of tangible goods. They are not directly involved in the processing of physical raw materials. Common examples are the work of a plumber, electrician, technician, launderer, barber, shopkeeper, driver, cashier, teacher, doctor, lawyer and publisher etc. The main difference between secondary activities and tertiary activities is that the expertise provided by services relies more heavily on specialised skills, experience and knowledge of the workers rather than on the production techniques, machinery and factory processes</p> <p>(i) What is the main difference between secondary and tertiary activities? (ii) How is the output of tertiary activities measured? (iii) Name two common examples of tertiary activities.</p>	1+ 1+ 1



	<p><b>दिए गए अनुच्छेद को ध्यानपूर्वक पढ़िए और उसके नीचे दिए गए प्रश्नों के उत्तर लिखिए</b></p> <p>तृतीयक क्रियाकलापों में उत्पादन और विनिमय दोनों शामिल हैं। उत्पादन में उन सेवाओं का 'उपलब्धता' शामिल होता है जिनका 'उपभोग' किया जाता है। उत्पादन को परोक्ष रूप से पारिश्रमिक और वेतन के रूप में मापा जाता है। विनिमय में व्यापार, परिवहन और संचार सुविधाएं शामिल हैं जिनका उपयोग दूरी को दूर करने के लिए किया जाता है। इसलिए, तृतीयक गतिविधियों में मूर्त वस्तुओं के उत्पादन के बजाय सेवाओं का वाणिज्यिक उत्पादन शामिल होता है। वे भौतिक कच्चे माल के प्रक्रमण में सीधे तौर पर शामिल नहीं हैं। एक प्लंबर, इलेक्ट्रीशियन, तकनीशियन, धोबी, नाई, दुकानदार, ड्राइवर, कैशियर, शिक्षक, डॉक्टर, वकील और प्रकाशक आदि का काम इनका सामान्य उदाहरण हैं। द्वितीयक क्रियाकलापों और तृतीयक क्रियाकलापों के बीच मुख्य अंतर यह है कि सेवाओं द्वारा उपलब्धत विशेषज्ञता उत्पादन तकनीकों, मशीनरी और फैक्ट्री प्रक्रियाओं की अपेक्षा श्रमिकों के विशेष कौशल, अनुभव और ज्ञान पर अधिक निर्भर करती है।</p> <p>(i) माध्यमिक और तृतीयक क्रियाकलापों के बीच मुख्य अंतर क्या है?</p> <p>(ii) तृतीयक क्रियाकलापों का उत्पादन कैसे मापा जाता है?</p> <p>(iii) तृतीयक क्रियाकलापों के दो सामान्य उदाहरण बताइए।</p>	
Q19	<p style="text-align: center;"><b>Study the following table and answer the questions:</b> <b>निम्नलिखित तालिका का अध्ययन करें और प्रश्नों के उत्तर दें:</b></p>	1+ 1+ 1

**Table 3.2: Human Development: Categories, Criteria and Countries**

<b>Level of Human Development</b>	<b>Score in Development Index</b>	<b>Number of Countries</b>
Very High	above 0.800	66
High	between 0.700 up to 0.799	53
Medium	between 0.550 up to 0.699	37
Low	below 0.549	33

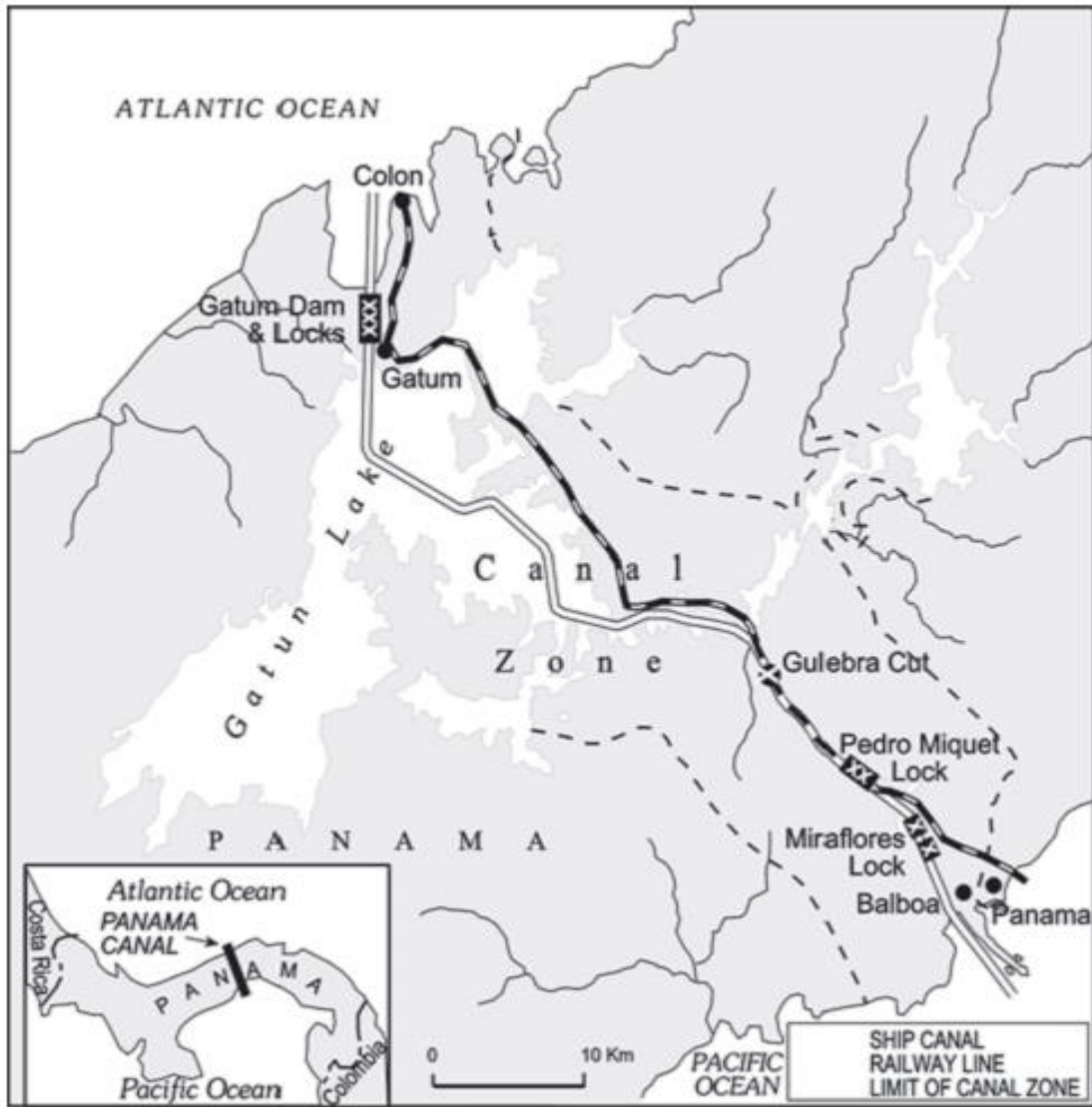
Source: Human Development Report, 2020

- (i) How many countries are there in the high to very high level of Human development?  
(ii) In which sector countries with higher human development has a lot of investment?  
(iii) What is India's rank in Human Development Index as per HDI report 2020?

- (i) मानव विकास के उच्च से अति उच्च स्तर पर कितने देश हैं?  
(ii) उच्च मानव विकास वाले देशों का किस क्षेत्र में बहुत अधिक निवेश है?  
(iii) HDI रिपोर्ट 2020 के अनुसार मानव विकास सूचकांक में भारत का स्थान क्या है?

**SECTION-C**

Q20	Examine the main aspects of environmental determinism पर्यावरण नियतिवाद के मुख्य पहलुओं की जांच करें	3
Q21	Study the map of Panama Canal and answer the following questions: पनामा नहर के मानचित्र का अध्ययन करें और निम्नलिखित प्रश्नों के उत्तर दें:	3



**Fig. 7.11 : The Panama Canal**

- (i) Which two oceans are connected by the Panama Canal?
- (ii) Name the two ports connected by the Panama Canal.
- (iii) Which country has the ownership and management of Panama Canal?

- (i) पनामा नहर द्वारा कौन से दो महासागर जुड़े हुए हैं?
- (ii) पनामा नहर से जुड़े दो बंदरगाहों के नाम बताइए।
- (iii) पनामा नहर का स्वामित्व एवं प्रबंधन किस देश के पास है?

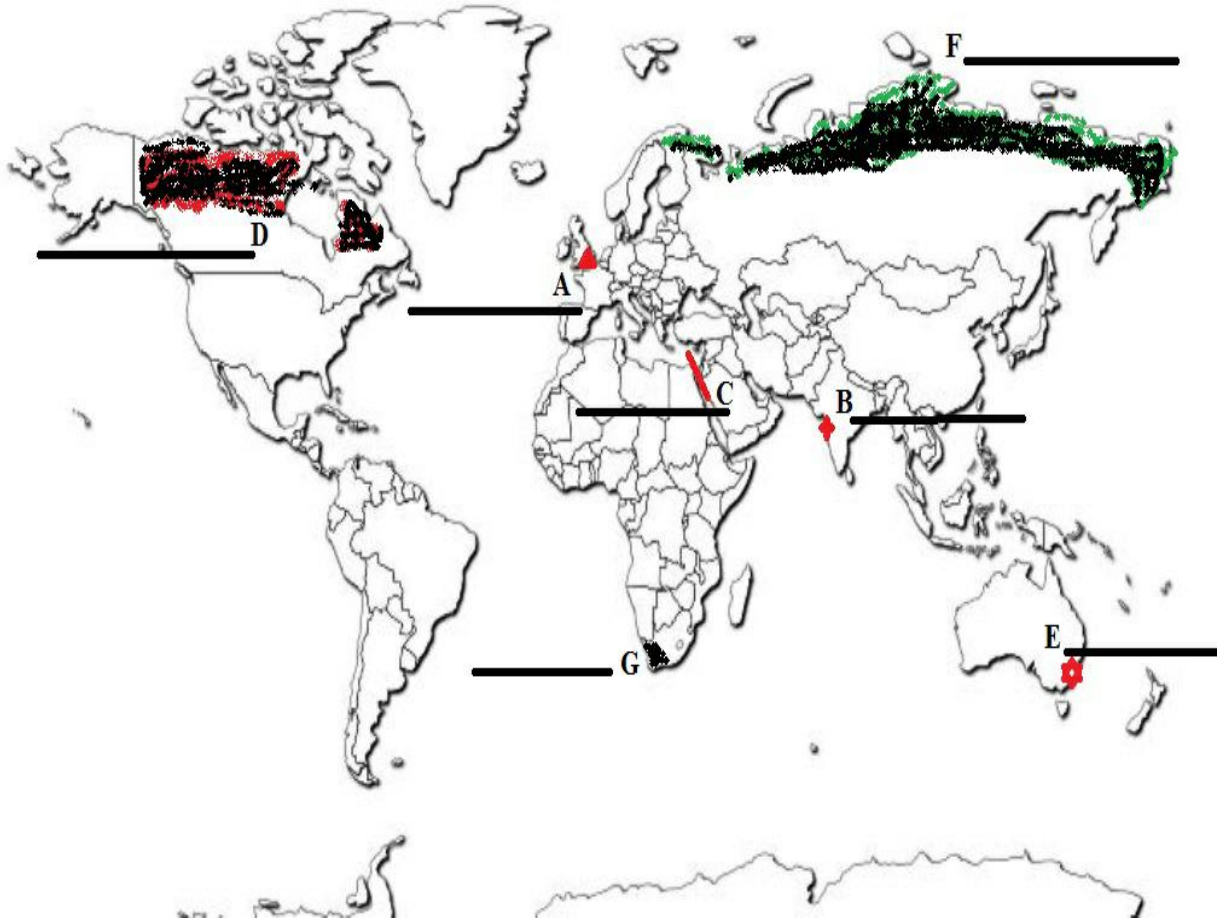
Q22	Differentiate between Rural settlements and Urban Settlements. ग्रामीण बस्तियों और शहरी बस्तियों के बीच अंतर बताएं।	3
Q23	What are the key objectives of the “Beti Bachao - Beti Padhao” campaign? OR	3

	<p>Write the salient features of “National Youth Policy-2014”.</p> <p>"बेटी बचाओ-बेटी पढ़ाओ" अभियान के प्रमुख उद्देश्य क्या हैं?</p> <p>अथवा</p> <p>"राष्ट्रीय युवा नीति-2014" की प्रमुख विशेषताएँ लिखिए।</p>	
	<b>SECTION-D</b>	
Q24	<p>Describe any five salient features of “Mixed Farming” practised in the world.</p> <p><b>Or</b></p> <p>Discuss the important characteristic features of “Commercial Livestock Rearing” practised in the world.</p> <p>विश्व में प्रचलित "मिश्रित कृषि " की किन्हीं पाँच प्रमुख विशेषताओं का वर्णन करें।</p> <p><b>अथवा</b></p> <p>विश्व में प्रचलित "वाणिज्य पशुधन पालन" की महत्वपूर्ण विशेषताओं पर चर्चा करें।</p>	5
Q25	<p>Differentiate between “Household or Cottage Manufacturing and Small Scale Manufacturing”.</p> <p><b>Or</b></p> <p>Identify and explain the factors affecting the location of an industry.</p> <p>"घरेलू या कुटीर उद्योग और छोटे पैमाने के उद्योग " के बीच अंतर बताएं ।</p> <p><b>अथवा</b></p> <p>किसी उद्योग की स्थिति को प्रभावित करने वाले कारकों को पहचानें और व्याख्या करें ।</p>	5
Q26	<p>Evaluate the aims and social benefits of ITDP in the Bharmaur tribal region.</p> <p><b>Or</b></p> <p>Write a brief account on Indira Gandhi Canal and its impact in agricultural economy in the region.</p> <p>भरमौर जनजातीय क्षेत्र में आईटीडीपी(ITDP) के उद्देश्यों और सामाजिक लाभों का मूल्यांकन करें।</p> <p>अथवा</p> <p>इंदिरा गांधी नहर के बारे में एवं क्षेत्र में कृषि अर्थव्यवस्था पर इसके प्रभाव पर एक संक्षिप्त विवरण लिखें।</p>	5

Q27	<p>“The composition of commodities in India’s international trade has been undergoing a change over the years.” Analyse the statement.</p> <p><b>Or</b></p> <p>Evaluate the role of Seaports as gateway of International trade.</p> <p>"भारत के अंतर्राष्ट्रीय व्यापार में वस्तुओं के संघटकों में समय के साथ बदलाव आए हैं"। कथन का विश्लेषण करें.</p> <p><b>अथवा</b></p> <p>अंतर्राष्ट्रीय व्यापार के प्रवेश द्वार के रूप में समुद्री पत्तनों (बंदरगाहों) की भूमिका का मूल्यांकन करें।</p>	5
Q28	<p>“Indiscriminate use of water by increasing population and industrial expansion has led degradation of the quality of water considerably”. Analyse the statement.</p> <p><b>Or</b></p> <p>Write the main objectives of “Namami Gange Programme” launched by the Union government.</p> <p>“बढ़ती हुई जनसंख्या और औद्योगिक विस्तारण के कारण जल के अविवेकपूर्ण उपयोग से जल की गुणवत्ता का बहुत अधिक निम्नीकरण हुआ है।” इस कथन का विश्लेषण करें.</p> <p><b>अथवा</b></p> <p>केंद्र सरकार द्वारा शुरू किए गए "नमामि गंगे कार्यक्रम" के मुख्य उद्देश्यों को लिखिए।</p>	5
<b>SECTION-E</b>		
Q29	<p><b>On the given political map of the World, seven geographical features have been marked as A, B, C, D, E, F and G. Identify any five with the help of the following information and write their correct names on the lines drawn near each feature.</b></p> <p><b>A.</b> A major seaport.  <b>B.</b> An international airport.  <b>C.</b> An important Inland waterway  <b>D.</b> An area of subsistence gathering in North America.  <b>E.</b> A terminal station of Trans- Australian railway.  <b>F.</b> An area of Nomadic Herding  <b>G.</b> Region of extensive commercial grain Farming.</p>	5

विश्व के दिए गए राजनीतिक मानचित्र पर निम्नलिखित छः विशेषताएं A, B, C, D, E और F के माध्यम से दर्शाई गई हैं। इनमें से किन्हीं पाँच लक्षणों को पहचानिए तथा प्रत्येक विशेषता के निकट अंकित रेखा पर उनके सही नाम लिखिए।

- A. एक प्रमुख बंदरगाह।
- B. एक अंतरराष्ट्रीय हवाई अड्डा।
- C. एक महत्वपूर्ण अंतर्देशीय जलमार्ग।
- D. उत्तरी अमेरिका में निर्वाह संग्रहण का एक क्षेत्र।
- E. ट्रांस-ऑस्ट्रेलियाई रेलवे का एक टर्मिनल स्टेशन।
- F. खानाबदोश पशुपालन का एक क्षेत्र।
- G. व्यापक व्यावसायिक अनाज खेती का क्षेत्र।



Q30

Locate and label any five of the following geographical features on the Political Outline map of India with appropriate symbols:

- A. An important seaport in Goa.

5

- B. An important copper mine in Rajasthan.
- C. Koraput - **Bauxite mines**.
- D. An oil refinery in Bihar.
- E. The state with Lowest population density.
- F. The state leading in the production of Tea.
- G. An international airport in Maharashtra.

भारत के दिए गए राजनीतिक मानचित्र पर, निम्नलिखित में से किन्हीं पांच को उपयुक्त चिह्नों के साथ दर्शाए और उनके नाम लिखिए :

- A. गोवा में एक महत्वपूर्ण बंदरगाह।
- B. राजस्थान की एक महत्वपूर्ण तांबे की खान।
- C. कोरापुट - बॉक्साइट खदानें।
- D. बिहार में एक तेल रिफाइनरी।
- E. न्यूनतम जनसंख्या घनत्व वाला राज्य।
- F. चाय के उत्पादन में अग्रणी राज्य.
- G. महाराष्ट्र में एक अंतरराष्ट्रीय हवाई अड्डा.

### Outline Map of India (Political)

