

रोल नं.  
Roll No.

--	--	--	--	--	--	--	--

मुद्रित पृष्ठों की संख्या : 7  
No. of printed pages : 7

034

234 (HHJ)

**2025**  
**सामाजिक विज्ञान**  
**SOCIAL SCIENCE**

समय : 3 घण्टे ]

[ पूर्णांक : 80

Time : 3 Hours ]

[ Max. Marks : 80

निर्देश : (i) इस प्रश्न-पत्र में कुल 27 प्रश्न हैं। सभी प्रश्न अनिवार्य हैं।

**Directions :** There are in all 27 questions in this question paper. **All** questions are **compulsory**.

(ii) प्रश्नों हेतु निर्धारित अंक उनके सम्मुख अंकित हैं।

Marks allotted to the questions are mentioned against them.

(iii) प्रत्येक प्रश्न को ध्यानपूर्वक पढ़िये तथा समुचित उत्तर दीजिए।

Read each question carefully and answer to the point.

(iv) प्रश्न संख्या 1 बहुविकल्पीय प्रश्न है। इस प्रश्न के प्रत्येक खण्ड के उत्तर में चार विकल्प दिये गए हैं। सही विकल्प अपनी उत्तरपुस्तिका में लिखिए। प्रश्न संख्या 2 से 9 तक निश्चित उत्तरीय प्रश्न हैं।

Question No. 1 is multiple choice question. Four options are given in answer of each part of this question. Write correct option in your answer book. Question No. 2 to 9 are definite answer type questions.

(v) प्रश्न संख्या 10 से 19 तक लघु उत्तरीय प्रश्न हैं, प्रत्येक का उत्तर लगभग 80 शब्दों में दीजिए।

Question No. 10 to 19 are short answer type questions, to be answered in about 80 words each.

(vi) प्रश्न संख्या 20 से 26 तक दीर्घ उत्तरीय प्रश्न हैं, प्रत्येक का उत्तर लगभग 120 शब्दों में दीजिए।

Question No. 20 to 26 are long answer type questions, to be answered in about 120 words each.

(vii) प्रश्न संख्या 27 मानचित्र से सम्बन्धित है। मानचित्र को अपनी उत्तर-पुस्तिका के भीतर संलग्न कीजिए।

Question No. 27 is Map related question. Attach the map inside your answer book.

(viii) इस प्रश्न-पत्र में समग्र पर कोई विकल्प नहीं है तथापि कतिपय प्रश्नों में आंतरिक विकल्प प्रदान किया गया है। ऐसे प्रश्नों में केवल एक विकल्प का ही उत्तर दीजिए।

There is no overall choice in this question paper, however, an internal choice has been provided in few questions. Attempt only one of the given choices in such questions.



1. (क) 1815 की वियना संधि की मेजबानी किसने की थी?

1

(i) नेपोलियन

(ii) मैटरनिख

(iii) मेत्सिनी

(iv) इनमें से कोई नहीं

Who hosted the Treaty of Vienna of 1815?

(i) Napoleon

(ii) Metternich

(iii) Mazzini

(iv) None of these

(ख) साइमन कमीशन कब भारत पहुँचा?

1

(i) 1919

(ii) 1924

(iii) 1928

(iv) 1930

When did Simon Commission arrive India?

(i) 1919

(ii) 1924

(iii) 1928

(iv) 1930

(ग) बाघ परियोजना (प्रोजेक्ट टाइगर) की शुरुआत कब हुई?

1

(i) 1973

(ii) 1975

(iii) 1980

(iv) 2010

When did the Project Tiger start?

(i) 1973

(ii) 1975

(iii) 1980

(iv) 2010

(घ) इनमें से कौन सी एक फलीदार फसल है?

1

(i) दालें

(ii) मोटे अनाज

(iii) ज्वार

(iv) तिल

Which one of the following is a leguminous crop?

(i) Pulses

(ii) Millets

(iii) Jawar

(iv) Sesamum



2025

234 (HHJ)

रोल नं.

Roll No.

--	--	--	--	--	--	--	--

प्रश्न संख्या 27 के लिए

(For Q. No. 27)



केवल परीक्षकों के लिए (For Examiners Only)	प्रश्न संख्या 27 (Q. No. 27)	अ (A)		ब (B)			
		क (a)	ख (b)	ग (c)	घ (d)	ङ (e)	च (f)
	प्रदत्त अंक (Marks Provided)						



(ङ) हमारा संविधान किसी भी धर्म को विशेष दर्जा नहीं देता है। यह विशेषता कहलाती है-

1

(i) साम्प्रदायिकता

(ii) समाजवाद

(iii) धर्मनिरपेक्षता

(iv) संघवाद

Our constitution does not give a special status to any religion. This feature is called-

(i) Communalism

(ii) Socialism

(iii) Secularism

(iv) Federalism

(च) भारत में कौन सी दलीय प्रणाली है?

1

(i) एक दलीय प्रणाली

(ii) दो दलीय प्रणाली

(iii) बहु दलीय प्रणाली

(iv) ये सभी

Which party system does India follow?

(i) Single party system

(ii) Two party system

(iii) Multi party system

(iv) All of these

(छ) लोकतंत्र का सबसे महत्वपूर्ण परिणाम है-

1

(i) उत्तरदायी सरकार

(ii) जिम्मेवार सरकार

(iii) (i) एवं (ii) दोनों

(iv) इनमें से कोई नहीं

The most important outcome of democracy is-

(i) Accountable government

(ii) Responsive government

(iii) Both (i) and (ii)

(iv) None of these

(ज) सामान्यतः किसी देश का विकास किस आधार पर निर्धारित किया जा सकता है?

1

(i) प्रति व्यक्ति आय

(ii) औसत साक्षरता स्तर

(iii) लोगों की स्वास्थ्य स्थिति

(iv) ये सभी

Development of a country can generally be determined by-

(i) its per capita income

(ii) its average literacy level

(iii) health status of its people

(iv) all of these



2. 1890 के दशक में अफ्रीका में फैले विनाशकारी पशु रोग का नाम क्या था? 1  
What was the name of devastating cattle disease spread in Africa in 1890s?
3. भारत में सर्वप्रथम प्रिंटिंग प्रेस कौन लाया? 1  
Who first brought the printing press to India?
4. हीराकुड बाँध किस नदी पर निर्मित है? 1  
Hirakud Dam has been constructed on which river?
5. केरल में मिलने वाली मोनोजाइट रेत में कौन सा खनिज पाया जाता है? 1  
Which mineral is contained in the Monazite sands of Kerala?
6. नगर निगम का अध्यक्ष कौन होता है? 1  
Who is the chairperson of municipal corporation?
7. जिला स्तर पर आपदा प्रबंधन प्राधिकरण का अध्यक्ष कौन होता है? 1  
Who is the chairman of Disaster Management Authority at the district level?
8. एन.एस.एस. का विस्तारित नाम लिखिए। 1  
Write the full name of N.S.S.
9. भारत सरकार ने सूचना पाने का अधिकार (RTI) कानून किस वर्ष लागू किया? 1  
In which year the Government of India implemented the Right to Information Act?
10. महामंदी के क्या कारण थे? उल्लेख कीजिए। 3  
What were the causes of the Great Depression? Mention.
11. उन्नीसवीं सदी में भारत में गरीब जनता पर मुद्रण-संस्कृति का क्या असर हुआ? 3  
What were the effects of the spread of print culture for poor people in nineteenth century India?
12. पहाड़ी क्षेत्रों में मृदा अपरदन की रोकथाम के लिए क्या कदम उठाने चाहिए? 3  
What steps can be taken to control soil erosion in the hilly areas?
13. राष्ट्रीय राजमार्ग, राज्य राजमार्ग तथा जिला मार्ग से क्या अभिप्राय है? स्पष्ट कीजिए। 3  
What is meant by National Highways, State Highways and District Roads? Clarify.
14. राजनीतिक दलों के समक्ष क्या विभिन्न चुनौतियाँ हैं? उल्लेख कीजिए। 3  
What are the various challenges faced by political parties? Mention.
15. लोकतंत्र को सबसे अच्छी शासन प्रणाली क्यों कहा गया है? स्पष्ट कीजिए। 3  
Why is democracy called the best system of governance? Clarify.



16. सार्वजनिक क्षेत्रक व निजी क्षेत्रक में अंतर लिखिए। 3  
Write difference between public sector and private sector.
17. भारत में उपभोक्ता आन्दोलन की प्रगति की समीक्षा कीजिए। 3  
Examine the progress of consumer movement in India.

**अथवा/OR**

उपभोक्ता सुरक्षा अधिनियम 1986 के निर्माण की आवश्यकता क्यों पड़ी?

Why was there a need to create the Consumer Protection Act 1986?

18. निम्नलिखित पर संक्षिप्त टिप्पणी लिखिए- 1½ + 1½ = 3  
(क) प्राथमिक उपचार किट  
(ख) एमेच्योर (हैम) रेडियो

Write short notes on the following-

- (a) First Aid Box  
(b) Amateur (HAM) Radio
19. सुनामी के उत्पन्न होने के कारणों का उल्लेख कीजिए। 3  
Mention the causes for the occurrence of Tsunami.

**अथवा/OR**

चक्रवात-रोधी भवनों के नक्शे और अभिविन्यास किस प्रकार के होने चाहिए?

What kind of maps and orientation should be there for anti-cyclonic buildings?

20. अपने शासन वाले क्षेत्रों में शासन व्यवस्था को ज्यादा कुशल बनाने के लिए नेपोलियन ने क्या बदलाव किये? 4  
What changes Napoleon introduced to make the administrative system more efficient in the territories ruled by him?

21. सविनय अवज्ञा आन्दोलन में शामिल विभिन्न सामाजिक समूह कौन से थे? उन्होंने आन्दोलन में हिस्सा क्यों लिया? 4  
What were the different social groups that participated in the Civil Disobedience Movement? Why did they join the movement?

**अथवा/OR**

निम्न पर संक्षिप्त टिप्पणी लिखिए-

2+2=4

Write short notes on following -

(क) खिलाफत आन्दोलन

Khilafat movement

(ख) सत्याग्रह का विचार

The idea of Satyagraha



22. राजस्थान के अर्द्धशुष्क क्षेत्रों में वर्षा-जल संग्रहण किस प्रकार किया जाता है? व्याख्या कीजिए। 4  
Discuss how rainwater harvesting in semi-arid regions of Rajasthan is carried out?

**अथवा/OR**

उद्योग पर्यावरण को कैसे प्रदूषित करते हैं? समझाइये।

How do industries pollute the environment? Explain.

23. आधुनिक लोकतांत्रिक व्यवस्थाओं में सत्ता की साझेदारी के अलग-अलग तरीके क्या हैं? उदाहरण सहित समझाइये। 4

What are the different forms of power sharing in modern democracies? Explain with examples.

**अथवा/OR**

भारत में सत्ता के विकेन्द्रीकरण पर प्रकाश डालिए।

Explain the decentralisation of power in India.

24. जीवन के उन विभिन्न पहलुओं का जिक्र करिये जिनमें भारत में महिलाओं के साथ भेदभाव होता है। 4  
Mention different aspects of life in which women are discriminated in India.

25. विकास में ऋण की भूमिका का विश्लेषण कीजिए। 4

Analyse the role of credit for development.

**अथवा/OR**

हमें भारत में ऋण के औपचारिक स्रोतों को बढ़ाने की क्यों आवश्यकता है?

Why do we need to expand formal sources of credit in India?

26. वैश्वीकरण से आप क्या समझते हैं? अपने शब्दों में स्पष्ट कीजिए। 4

What do you understand by Globalisation? Explain in your own words.

27. (अ) दिए गये भारत के राजनैतिक रेखा मानचित्र पर उन राज्यों की पहचान कर उन राज्यों के नाम लिखिए, जहाँ निम्नलिखित घटनाएँ हुई-

(क) जलियाँवाला बाग हत्याकाण्ड 1

(ख) गाँधीजी ने डाण्डी मार्च किया 1





- (A) On the given political outline map of India, locate and label the states where the following events happened-

(a) Jallianwala Bagh Massacre





(b) Gandhiji did the Dandi March



(ब) दिए गए भारत के इसी मानचित्र पर संकेतों की सहायता से निम्नलिखित को दर्शाइये और उन स्थानों के नाम भी लिखिए तथा मानचित्र को अपनी उत्तर पुस्तिका में संलग्न कीजिए-

- (ग) भाखड़ा नांगल बाँध  चिन्ह से 1
- (घ) भिलाई लौह-इस्पात संयंत्र  चिन्ह से 1
- (ङ) कानपुर सूती वस्त्र उद्योग  चिन्ह से 1
- (च) रावतभाटा आणविक संयंत्र  चिन्ह से 1

(B) On the same given map of India, locate and label the following with symbols as marked against each and attach the map to your answer book-

- (c) Bhakra Nangal Dam with the sign 
- (d) Bhilai Iron and Steel Plant with the sign 
- (e) Kanpur Cotton Textile industry with the sign 
- (f) Rawatbhata Nuclear Plant with the sign 

**नोट :** निम्नलिखित प्रश्न केवल दृष्टिहीन परीक्षार्थियों के लिए प्रश्न संख्या 27 के स्थान पर है:

**Note :** The following question is for the Blind candidates only in lieu of question number 27:

- (अ) उन राज्यों के नाम लिखिए, जहाँ निम्नलिखित घटनाएँ घटित हुई-
- (क) जलियाँवाला बाग हत्याकाण्ड 1
- (ख) गाँधीजी ने डाण्डी मार्च किया 1
- (A) Write the name of the States where the following events happened-
- (a) Jallianwala Bagh Massacre
- (b) Gandhiji did the Dandi March
- (ब) उन राज्यों के नाम लिखिए, जहाँ निम्नलिखित स्थित हैं-
- (ग) भाखड़ा नांगल बाँध 1
- (घ) भिलाई लौह-इस्पात संयंत्र 1
- (ङ) कानपुर सूती वस्त्र उद्योग 1
- (च) रावतभाटा आणविक संयंत्र 1
- (B) Write the name of States where the following are situated -
- (c) Bhakra Nangal Dam
- (d) Bhilai Iron and Steel plant
- (e) Kanpur Cotton Textile industry
- (f) Rawatbhata Nuclear plant

\*\*\*\*\*