

घर से पढ़ाओ अभियान

कक्षा वर्ग 3 से 5

कार्यपत्रक - संख्याओं की घटा

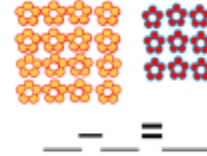
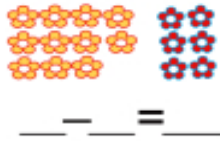
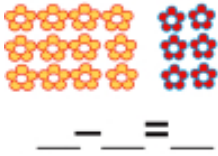
21 अप्रैल ,2020

दक्षता :- विद्यार्थी संख्याओं का प्रयोग करते हुए एक संख्या को दूसरी में से हासिल या बिना हासिल के घटा सकते हैं ।

वीडियो लिंक्स

1. <https://youtu.be/N1Xgx0OvoUI>
2. https://youtu.be/iN3_Jp6zoiQ
3. https://youtu.be/oKwst8I_wYA
4. <https://youtu.be/rla4a-ppTZY>
5. <https://youtu.be/0KN8pXpdxe4>
6. <https://youtu.be/NF5N2dTmWNM>

1. फूलों को गिनो और घटा करके उत्तर खोजो :-



2. घटा करो :-



3. हल करो

I. $20 - 3 = \dots\dots\dots$

II. $22 - 15 = \dots\dots\dots$

III. $20 - 15 = \dots\dots\dots$

IV. $32 - \square = 20$

V. $42 - \square = 22$

VI. $\square - 10 = 35$

VII.

$$6 \square$$

$$\underline{-32}$$

$$\underline{36}$$

viii $3 \square$

$$\underline{-21}$$

$$\underline{14}$$

4. आओ बिना हासिल वाले बड़े ही आसान सवालों को हल करें :-

65	45	78	36	54
$- 43$	$- 32$	$- 64$	$- 15$	$- 23$
_____	_____	_____	_____	_____

5. अब आई बारी कुछ हासिल के सवालों को हल करने की :-

43	51	70	83	73
$- 16$	$- 34$	$- 43$	$- 14$	$- 26$
_____	_____	_____	_____	_____


6. रीना के पास चेरी थी

उसने अपने भाई को दी



उसके पास कितनी बची ? _____


7. एक तालाब में 48 बतखें तैर रही थी। थोड़ी देर बाद उनमें से 26 बाहर आ गयी। तालाब में कितनी बतखें रह गयी ?



8. बस पर सवार थी सवारियाँ = 52
अगले बस स्टॉप पर उतर गयी = 14
बस में कितनी सवारियाँ बची = ?



9. नीतू के पास रंग थे = 36
उससे टूट गए = 09
कितने रंग उसके पास बचे = ?



10. काजल के पास 24 गुब्बारे थे। अनुज के पास 16 गुब्बारे थे।
दोनों के गुब्बारों की संख्याओं का अंतर कितना है ?



.....X.....X.....